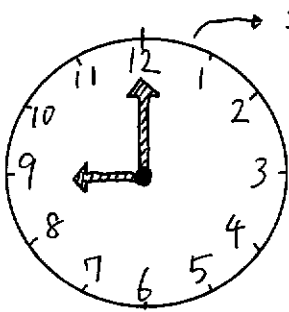


時こくと時間のもとめ方を考えよう① (教科書 27ページ)

() 組 名前 ()

めあて 時こくと時間のちがいを考えよう。

! ① 時こくと時間のちがいを はっきりさせましょう。(27 ページ)



• 時こく…9時や9時15分など。

• 時間…時こくと時こくの間のこと。

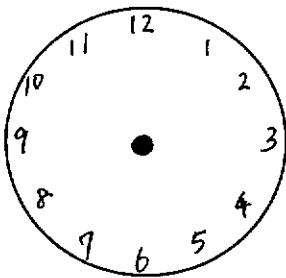
◦ 10時20分 から 10時40分 まで、など。

? ① 次の文は時こくでしょうか。時間でしょうか。

- ㊦ いえを「8時30分」に出る。 → ()
- ㊧ いえからバスまで「15分」かかる。 → ()
- ㊨ 1時間目は「9時45分」におわる。 → ()
- ㊩ ともだちといっしょに「50分」遊んだ。 → ()

? ② 時こくや時間をきろくしましょう。＊時計を見て 答えましょう。

① 今の時こく

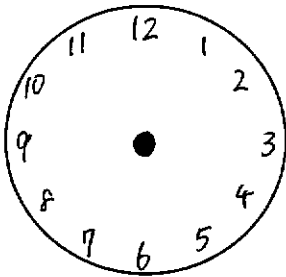


:

＊おうちにある時計が
デジタル時計なら、
こちらに書きましょう。

今の時こくは、() 時 () 分です。

② 今日起きた時こく



:

今の時こくは、() 時 () 分です。

③ ごはんを食べていた時間 (朝・昼・夜どれでもいいです。)

() 時 () 分から () 時 () 分までの () 分間。



↑ここが「時間」だよ!

時こくと時間のもともめ方を考えよう② (教科書 28~29 ページ)

() 組 名前 ()

めあて 時こくと時間を求められるようになろう。

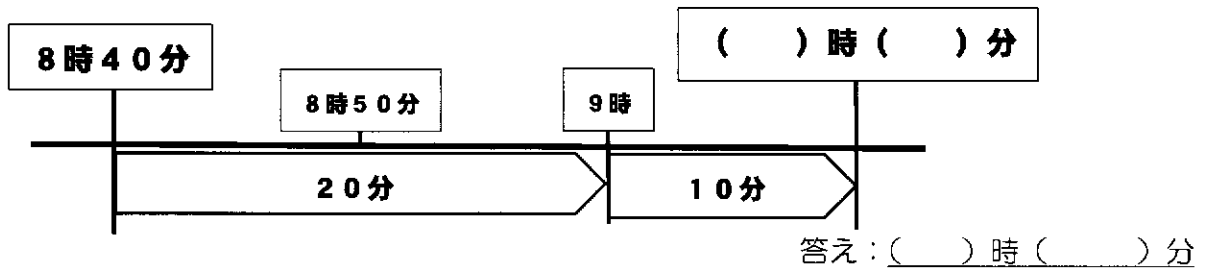
! ① 教科書 28 ページの問題をときましょう。

☆学校を 8 時 40 分に出て、30 分歩くと商店がいにつきました。
ついた時こくは何時何分ですか。




☆時計で考えよう。(※長い針を書きこみましょう。)

☆数の線で考えよう。



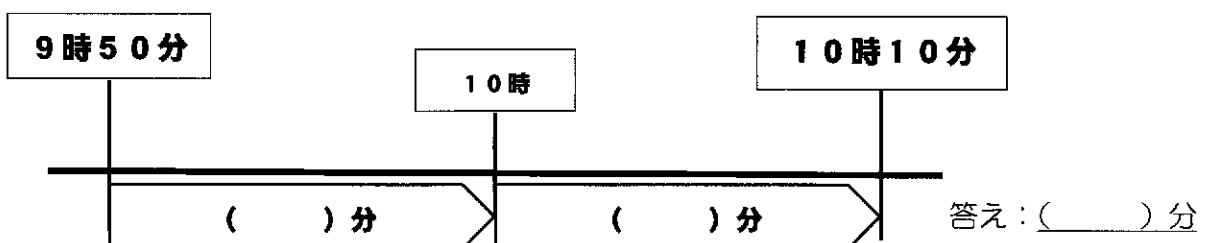
! ② 教科書 29 ページの問題をときましょう。

☆商店がいを 9 時 50 分に出て、公園に 10 時 10 分につきました。
商店がいから公園まで、かかった時間は何分ですか。



☆時計で考えよう。(※時計の針が何分進んだか考えましょう。)

☆数の線で考えよう。



時ごとと時間のもともめ方を考えよう③ (教科書 30~31 ページ)

() 組 名前 ()

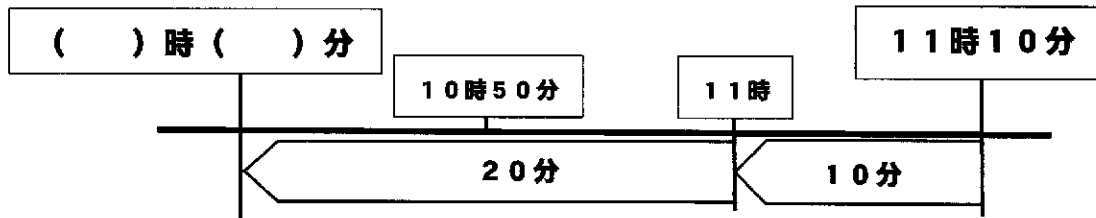
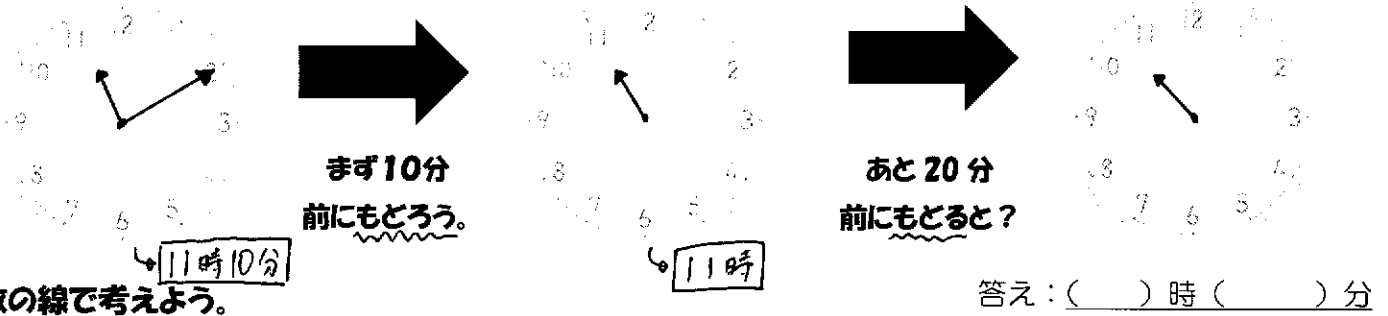
めあて 時ごとと時間を求められるようになろう。~その②~

! ① 教科書 30 ページの問題をときましょう。

☆公園を出て 30 分歩いて、学校に 11 時 10 分につきました。
公園を出た時ごとは何時何分ですか。

11 時 10 分から、
何分前の時ごとを
もとめるのかな?

☆時計で考えよう。(長い針を書きましょう。)



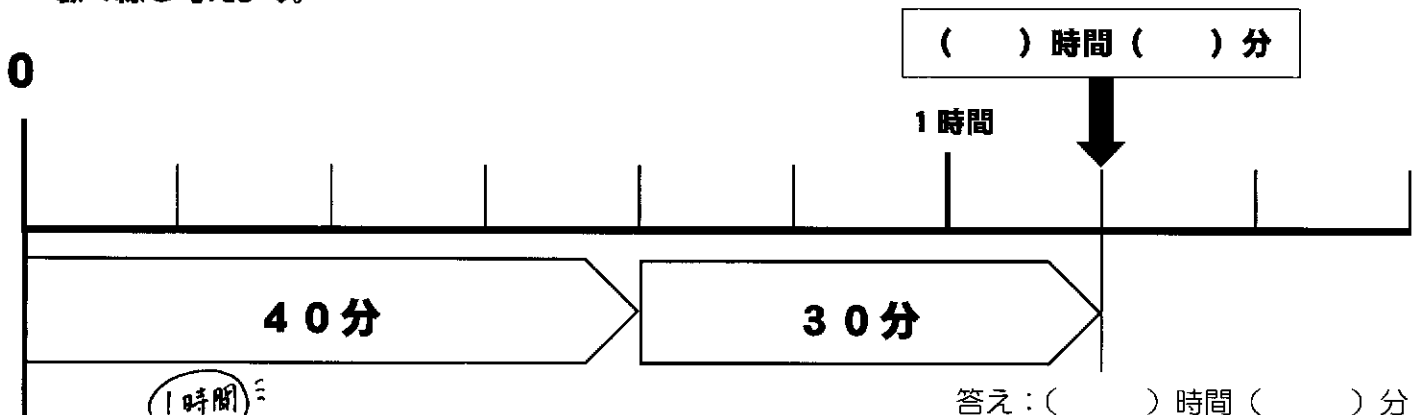
答え:()時()分

! ② 教科書 31 ページの問題をときましょう。

☆商店がいにいた時間は 40 分、公園にいた時間は 30 分です。
あわせて何時何分ですか。

「何時間何分」と
聞かれているから...

☆数の線で考えよう。



答え:()時間()分



40 + 30 = 70だから70分! ...そう、それはあっているのだけど、
聞かれているのは「何時間何分」だね。
1時間は60分だから、70分は、60分と10分と考えると、
わかりやすくなるよ。

時とくとき間のもとめ方を考えよう④ (教科書 32 ページ)

() 組 名前 ()


めあて 「秒」について知ろう。

① 「秒」とはなんだろう。

☆ 1 分より短い時間のたんいに、「秒」があります。

☆ 1 分は、60 秒です。

時計のいちばん細い針を「秒しん」というよ。



☆ 短い時間をはかる道具として、「ストップウォッチ」というものがあります。
教科書 32 ページの問題①、②、③をやってみましょう。

! ① 教科書の問題^{もんだい}にちょうせんしましょう。

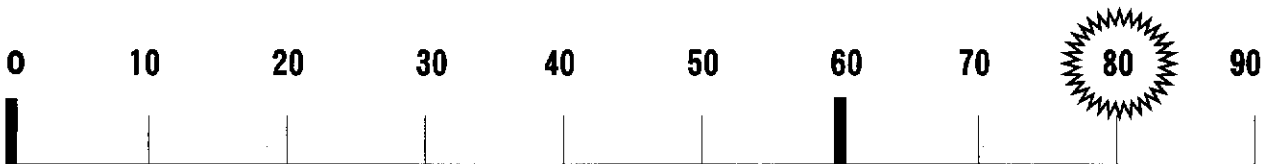
① 80 秒は何分何秒ですか。また、2 分は何秒ですか。

これも「ぴったり」の時間で考えよう。



☆ 数の線で考えよう。

80 秒は何分何秒?



答え:()分()秒

2 分は何秒?



答え:()秒

② からの問題もやってみましょう!
それがおわったら、33 ページの「たしかめよう」も、
2 年生のときのノートにやいましょう。



これで「時とくとき間」の学習は
おしまい!