

【社会 ワークシート1】 3年 組 名前( )  
 <めあて>

地図のしくみを知ろう

○まずは、方位とは何かを考えましょう。下の□からえらんで( )に言葉を入れてみてください。

とうざいなんぼく  
 東西南北などの向きを、□  
 といいます。  
 正かな方位を知りたいとき  
 は、□を使います。  
 色のついたはりのさす方向が  
 □です。

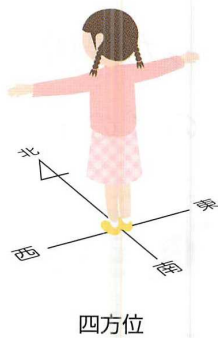
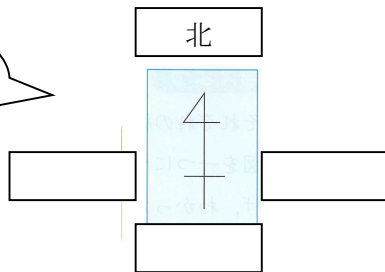


方位磁針 東 西 南 北 方位

○右の絵のように、じっさいに方位を体でたしかめてみましょう。(外でやる場合は、おうちの人といっしょに)

○方位をあらわす言葉を当てはめてみましょう。

4方位をあらわす記号です。



○地図を作るときは、どうしたらいい?□に言葉を入れて考えてみましょう。

絵地図のつくり方

①大きな白地図を用意して、自分たちがたんけんしてきた道をたしかめる。



地図は□が  
 上になるように  
 しましょう。

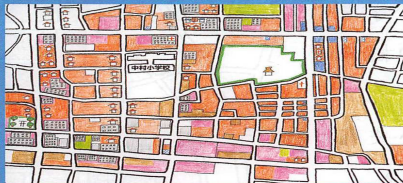


②絵地図につかうマークを□, 場所をたしかめながら地図にかき入れる。




家		マンション	
店		公園	
寺		病院	
神社		畑	

③家や店の集まっているところはまとめて□をしてぬり分ける。



- ・一けん家の多い所
- ・マンションや社たくの多い所
- ・スーパー、コンビニ、その他の店
- ・畑
- ・公園

④たんけんで見つけたことや気がついたことを文にして書き入れる。



色分けすると、まちの様子が分かりやすくなりましたね。



<まとめ>  
 今日、4つの( )を学習しました。絵地図は、色よりもっとわかりやすい方ほうがありそうですね。じかい学習しましょう。