


- 書き出しは・, 書き順は1, 2, 方向は→で示してあります。うすい色の文字はなぞって書きましょう。

〈大文字〉



1 □にあてはまる数を見つけましょう。

(1) $3 \times 8 = \square$

(2) $8 \times \square = 56$

(3) $\square \times 6 = 30$



(1) は九九を使えばいいね!



(2) は、かける数がわからない…。

かける数や、かけられる数の見つけ方を考えましょう。

● (2)、(3) の式の、□にあてはまる数をもとめましょう。

はるとさんや、みさきさん、りくさんの考え方をもとに、答えをもとめましょう。

(2) $8 \times \underline{\quad} = 56$

(3) $\underline{\quad} \times 6 = 30$

● 22ページのしほさんのことばを書いておこう。

Three horizontal dashed lines for writing inside a rounded rectangular box.

1 にとりくみましょう。

① $3 \times \underline{\quad} = 18$

② $7 \times \underline{\quad} = 63$

③ $4 \times \underline{\quad} = 32$

④ $\underline{\quad} \times 4 = 16$

② $\underline{\quad} \times 8 = 16$

③ $\underline{\quad} \times 6 = 42$



先生からのとくべつもんだい! わかるかな?

① $8 \times \underline{\quad} = 72$

② $6 \times \underline{\quad} = 48$

③ $9 \times \underline{\quad} = 36$

④ $\underline{\quad} \times 7 = 28$

② $\underline{\quad} \times 3 = 27$

③ $\underline{\quad} \times 5 = 30$



今日の学習はどうだった?

「よくできた」3つぬる 「まあまあ」2つぬる 「イマイチ」1つぬる



そだちかた
(理科) こん虫の育ち方 (3)

名前

※たのしい理科 (教科書)

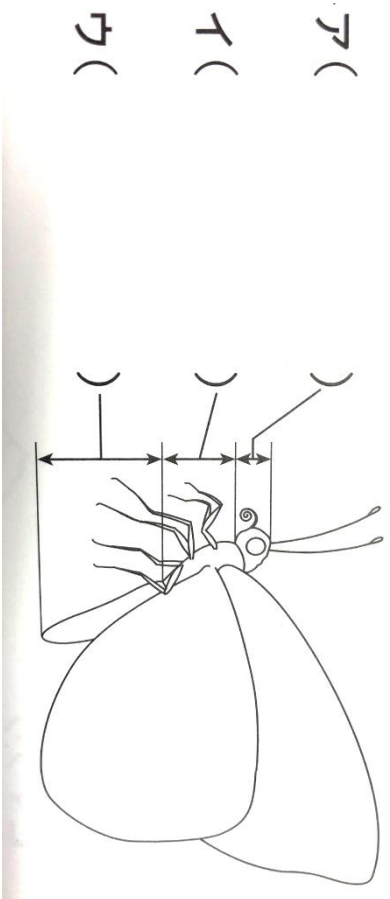
モシロチョウのせい虫には、はねや足があったね。

虫の体のつくりは、どのようにになっているのでしょうか。

やってみよう！

教科書34ページをみながら、チョウの体のつくりを調べよう。

- ① ア イ ウの部分のなまえを書こう。
- ② はねは () まい、足は () 本ある。



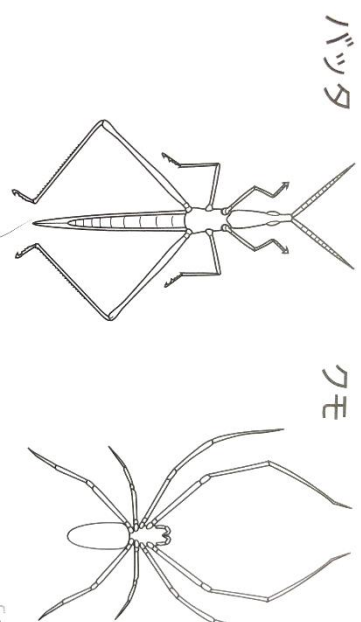
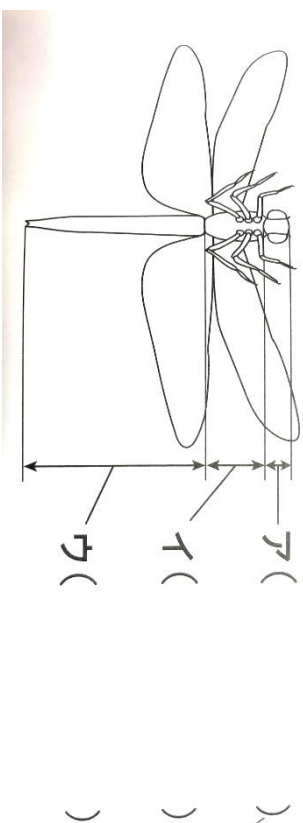
- ③ 体が、() () () の3つに分かれ、() () にあしが () () 本あり、はねがある虫のことを【 】 という。

ほかの虫はどんな体のつくりになっているのだろう。

やってみよう！2

教科書36・37ページを見ながらやってみよう。

- ① トソボの体を頭、むね、はらに色分けしてみよう。アイウも書いてね。
- ② バッタとクモはこん虫かな。色分けしてたしかめてみよう。



わかったことを書こう

今日の学習どうだった？

