


- 書き出しは・, 書き順は1, 2, 方向は→で示してあります。うすい色の文字はなぞって書きましょう。

〈大文字〉



名前

① にとりくみましょう。

あみ

$7 \times 5 = 7 \times 4 + \underline{\hspace{2cm}}$
 $= \underline{\hspace{2cm}}$

しほ

$7 \times 5 = 7 \times 6 - \underline{\hspace{2cm}}$
 $= \underline{\hspace{2cm}}$

りく

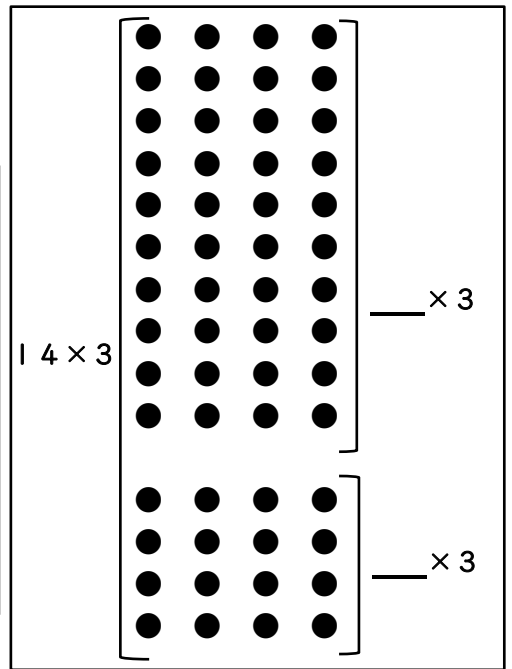
かけられる数とかける数を
入れかえて、

$7 \times 5 = \underline{\hspace{2cm}} \times \underline{\hspace{2cm}}$
 $= \underline{\hspace{2cm}}$

② にとりくみましょう。

14×3 $\left\{ \begin{array}{l} \underline{\hspace{2cm}} \times \underline{\hspace{2cm}} = \underline{\hspace{2cm}} \\ \underline{\hspace{2cm}} \times \underline{\hspace{2cm}} = \underline{\hspace{2cm}} \end{array} \right.$

合わせて $\underline{\hspace{2cm}}$



③ にとりくみましょう。

答えが0になるかけ算の式は、 $\underline{\hspace{2cm}}$

④ にとりくみましょう。

- ① $7 \times \underline{\hspace{2cm}} = 56$ ② $3 \times \underline{\hspace{2cm}} = 27$ ③ $\underline{\hspace{2cm}} \times 6 = 36$ ④ $\underline{\hspace{2cm}} \times 9 = 63$



今日の学習はどうだった？

「よくできた」3つぬる 「まあまあ」2つぬる 「イマイチ」1つぬる

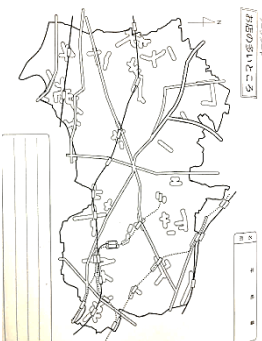


お店はどこに多いのかな？

名前

※21・22ページ 後ろについている白い地図（切りとってね）

みんなのおうちは、買い物はどこですのかな？お店がたくさん集まっているところで買物をするおうちもあるかもしれないね。



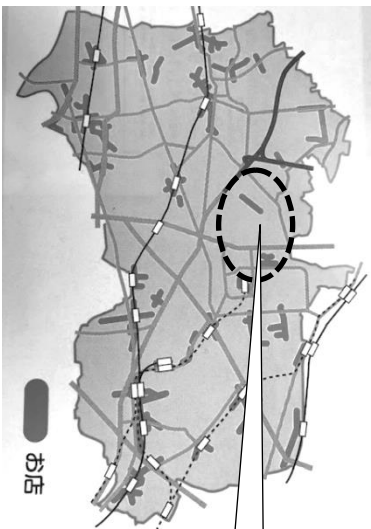
やってみよう！

ふく読本21ページの地図を見ながら、白い地図にお店の多いところの色をぬろう。（色は好きな色でいいよ。）

色をぬった地図をみて考えよう
練馬区内でお店が多いところは、

-
-

などです。



ところで、ここではどうして
お店が多いんだろう？



大きな道や駅からはなれた場所にもお店がたくさんあるのはなぜ？

22ページの練馬区の地図は家が多いところに色がぬられているよ。

二つの地図をみて考えよう

21ページの地図と22ページの地図を良く見て考えてね。

・練馬区はほとんどの場所に が多い。

・お店が多いところには が多く、人がたくさん住んでいることがわかる。

練馬区の土地の使われ方がわかったことを書こう。


地図からさがそう！

ふく読本にはさまっている地図「現在の練馬区」の地図をつかうよ。

この8つは練馬区のどこにある？

- | | |
|-----------|-----------|
| ① あなたの学校 | ⑤ 練馬図書館 |
| ② 都立光が丘公園 | ⑥ 光が丘清掃工場 |
| ③ 右神井公園 | ⑦ 上右神井体育館 |
| ④ 練馬区役所 | ⑧ 練馬区立美術館 |

東西南北でいうと、ほとんどの学校は練馬区の
() がわにあるよ。



今日の学習どうだった？

