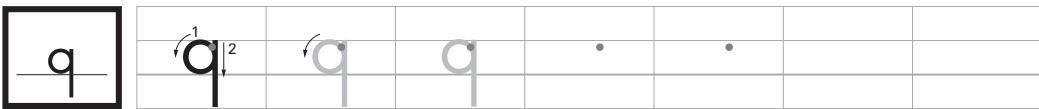
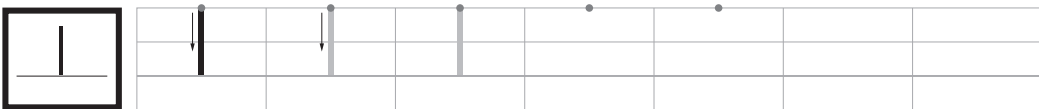

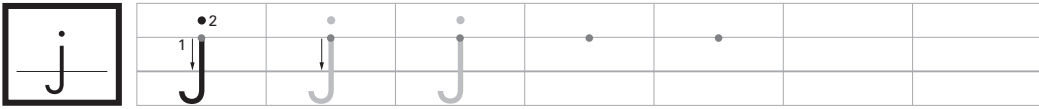


- 書き出しは・, 書き順は1, 2, 方向は→で示してあります。うすい色の文字はなぞって書きましょう。

〈小文字〉



- 書き出しは・, 書き順は^{じゅん}1, 2, 方向は→で示して^{しめ}あります。うすい色の文字はなぞって書きましょう。

〈小文字〉

s	s̄	s̄	s	•	•		
---	----	----	---	---	---	--	--

t	t̄ ^{1↓} _{2→}	t̄	t	•	•		
---	--------------------------------	----	---	---	---	--	--

u	ū ^{1↓} _{2↓}	ū	u	•	•		
---	--------------------------------	----	---	---	---	--	--

v	v̄	v̄	v	•	•		
---	----	----	---	---	---	--	--

w	w̄	w̄	w	•	•		
---	----	----	---	---	---	--	--

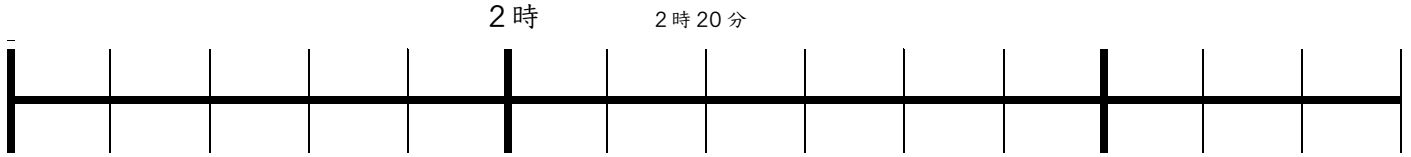
x	x̄ ^{1↘} _{2↗}	x̄	x	•	•		
---	--------------------------------	----	---	---	---	--	--

y	ȳ ^{1↘} _{2↗}	ȳ	y	•	•		
---	--------------------------------	----	---	---	---	--	--

z	z̄	z̄	z	•	•		
---	----	----	---	---	---	--	--

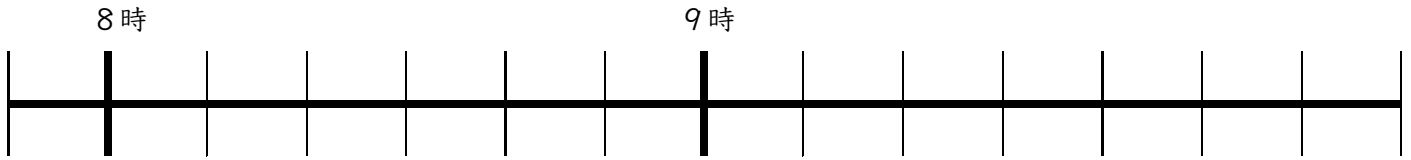
★教科書33ページを見て、△1 △2 △3 △4 に取り組みましょう。

△1 数直線に表してみよう。



答え 50分後 = _____ 時 _____ 分 50分前 = _____ 時 _____ 秒

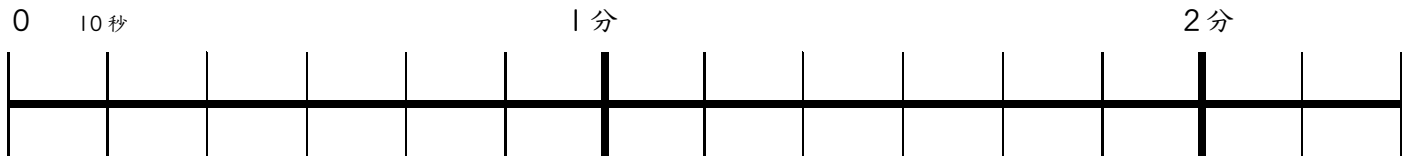
△2 数直線に表してみよう。



答え _____ 分

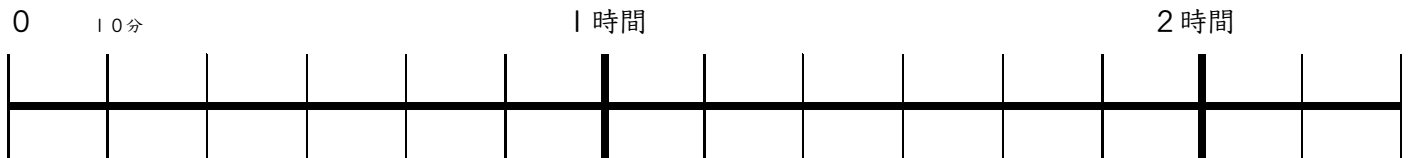
△3

①



100秒 = _____ 分 _____ 秒

②



90分 = _____ 時間 _____ 分

△4

①きゅう食の時間 … 45 _____

②50メートル走るのにかった時間 … 10 _____

③1日にねる時間 … 9 _____

②学校の休み時間 … 20 _____



今日の学習はどうだった？

「よくできた」3つぬる 「まあまあ」2つぬる 「イマイチ」1つぬる

