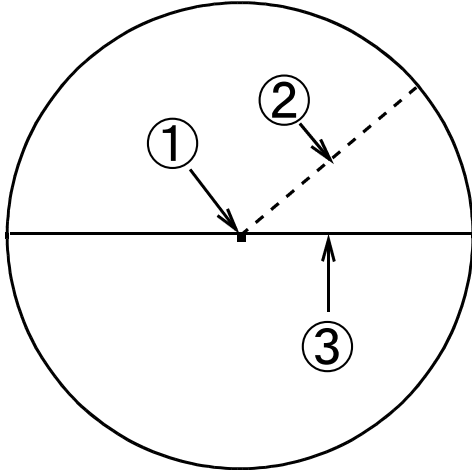


光っ子 せんすう ピカピカ プリント

3年	No. 1 3	年 組
----	---------	-----

◆ ことばや数字を書きましょう。



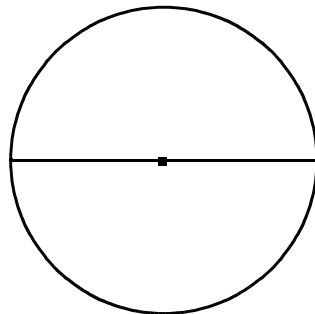
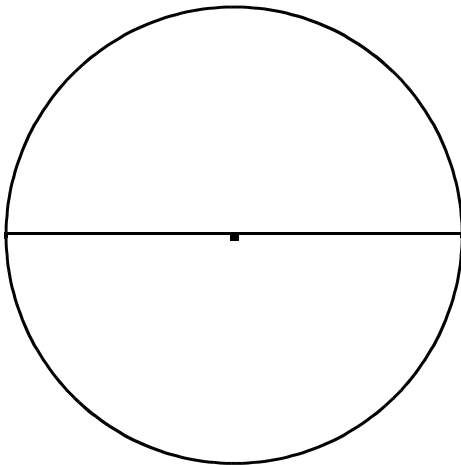
① 円の ()

② 円の ()

③ 円の ()

④ 直径の長さは半径の () 倍です。

⑤ 直径は円の () を通ります。



⑥ 直径 () cm

⑧ 直径 () cm

⑦ 半径 () cm

⑨ 半径 () cm

このプリントは、いつ、どこで学習しましたか？			年 月 日 ()	
1. 授 業	2. 習熟の時間	3. 宿 題	4. 自主学习	5. ひ ろ ば