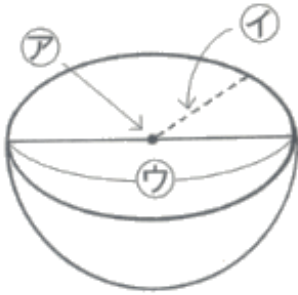


光っ子 さんすう ピカピカ プリント

3年	No. 1 4	年 組
-----------	---------	-----

◆ 球の問題の答えを求めましょう。

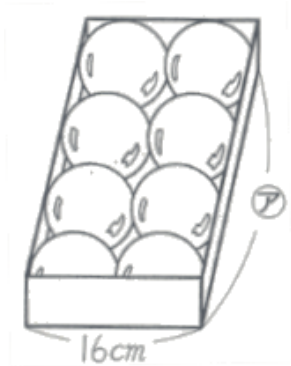
①



Ⓐ 球の()

ⓐ 球の()

ⓑ 球の()

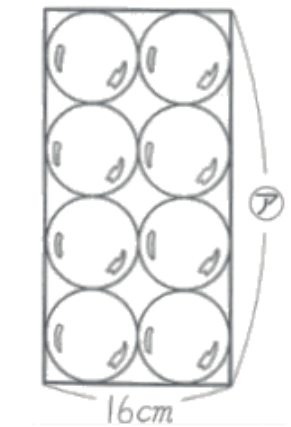


② このボールの直径は何cmですか。

答え _____

③ このボールの半径は何cmですか。

答え _____



④ 箱のたての長さⒶは何cmですか。

答え _____

このプリントは、いつ、どこで学習しましたか？			年 月 日 ()	
1. 授 業	2. 習熟の時間	3. 宿 題	4. 自主学習	5. ひ ろ ば