

光っ子 さんすう ピカピカ プリント

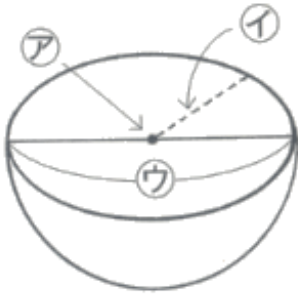
3年

No. 1 4

年 組

◆ 球の問題の答えを求めましょう。

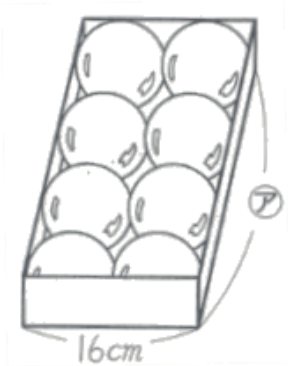
①



ア 球の(中心)

イ 球の(半径)

ウ 球の(直径)

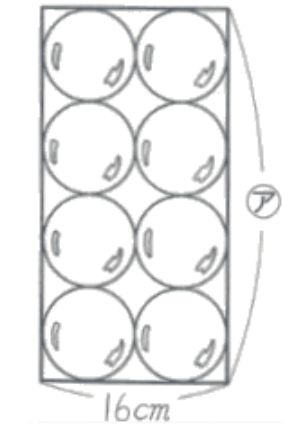


② このボールの直径は何cmですか。

答え 8cm

③ このボールの半径は何cmですか。

答え 4cm



④ 箱のたての長さアは何cmですか。

答え 32cm

このプリントは、いつ、どこで学習しましたか？			年 月 日 ()	
1. 授 業	2. 習熟の時間	3. 宿 題	4. 自主学习	5. ひ ろ ば