



1年 1 (1)	大きいかず	<input type="text"/> 年 <input type="text"/> 組 番号 <input type="text"/>
		氏名 <input type="text"/>

□にあてはまる かずをかきましょう。

① 10と 2で

② 10と 7で

③ 10と 5で

④ 13は 10と

⑤ 16は 10と


⑥ 20は と 10

⑦ 11 - - 13 - 14 - 15

⑧ 10 - 12 - - 16 - 18

⑨ 20 - 18 - - 14 -

いくつあるでしょうか。



ほん
本

○かずに まちがいなくかぞえるために どんなくふうをしますか。



1年 1 (2)	大きいかず	<input type="text"/> 年 <input type="text"/> 組 番号 <input type="text"/> 氏名 <input type="text"/>
----------------	-------	--

1 □にあてはまる かずをかきましょう。

① 10と 9で

② 10と 3で

③ 10と10で

④ と 9で19

⑤ と 1で11

⑥ と10で20

2 ^{おお}大きいほうに まるをつけましょう。

① 17 19 ② 14 15

③ 18 11 ④ 19 20

□に かずをかきましょう。

① 5 - - - 20

② 10 - 12 - - 16 -



1年 1 (3)	大きいかず	<input type="text"/> 年 <input type="text"/> 組 番号 <input type="text"/> 氏名 <input type="text"/>
----------------	-------	--

□にあてはまる かずをかきましょう。

① 10が9こと1が9こで

② 10が10こで

③ 60は10が こ

④ 99は10が こ
と1が こ

⑤ 100は10が こ

⑥ 72の

一のくらのすうじは で
十のくらのすうじは です。

⑦ 50の

一のくらのすうじは で
十のくらのすうじは です。



1年 1 (4)	大きいかず	<input type="text"/> 年 <input type="text"/> 組 番号 <input type="text"/> 氏名 <input type="text"/>
----------------	-------	--

1 おお 大きいほうに まるをつけましょう。

① 56 42 ② 89 69

③ 98 89 ④ 100 99

2 □にあてはまるかずをかきましょう。


① 96 — — 98 — —

② 98 — — — 104

③ — 105 — — 95

④ — 100 — 98 —

かずのせんをみてこたえましょう。



① 100より3大きいかずは です。

② 75は80より ちい小さいかずです。



1年 1 (5)	大きいかず	<input type="text"/> 年 <input type="text"/> 組 番号 <input type="text"/> 氏名 <input type="text"/>
-----------------------	-------	--

□にあてはまる かずをかきましょう。

0	1	2	3	4	5	6	7	8	9
10	11	12	13	14	15	16	17	18	19
20	21	22	23	24	25	26	27	28	29
30	31				35				39
40	41						47		
					55				59
60					65				
			73					78	
									89
90					95		97		

かずの せんを ^み見て こたえましょう。

70 80 90 100 110 120

① 100より 8ちい小さいかずは です。

② 82は 90より 小さいかずです。



1年 2 (1)	たしざん	<input type="text"/> 年 <input type="text"/> 組 番号 <input type="text"/>
		氏名 <input type="text"/>

<p>たしざんを しましょう。</p> <p>① $2 + 1$ <input type="text"/></p> <p>② $3 + 2$ <input type="text"/></p> <p>③ $1 + 7$ <input type="text"/></p> <p>④ $4 + 2$ <input type="text"/></p> <p>⑤ $6 + 3$ <input type="text"/></p>	<p>たしざんを しましょう。</p> <p>⑥ $1 + 9$ <input type="text"/></p> <p>⑦ $5 + 5$ <input type="text"/></p> <p>⑧ $8 + 2$ <input type="text"/></p> <p>⑨ $6 + 4$ <input type="text"/></p> <p>⑩ $3 + 7$ <input type="text"/></p>
--	--

○+□=10の れんしゅう

① $1 + 9$ <input type="text"/>	② $2 + 8$ <input type="text"/>	③ $3 + 7$ <input type="text"/>	④ $4 + 6$ <input type="text"/>
⑤ $5 + 5$ <input type="text"/>	⑥ $6 + 4$ <input type="text"/>	⑦ $7 + 3$ <input type="text"/>	⑧ $8 + 2$ <input type="text"/>
⑨ $9 + 1$ <input type="text"/>	⑩ $10 + 0$ <input type="text"/>	⑪ $0 + 10$ <input type="text"/>	



1年 2 (2)	たしざん	<input type="text"/> 年 <input type="text"/> 組 番号 <input type="text"/> 氏名 <input type="text"/>
-----------------------	------	--

<p>たしざんを しましょう。</p> <p>① $7 + 7$ <input type="text"/></p> <p>② $8 + 5$ <input type="text"/></p> <p>③ $9 + 4$ <input type="text"/></p> <p>④ $6 + 8$ <input type="text"/></p> <p>⑤ $5 + 6$ <input type="text"/></p>	<p>たしざんを しましょう。</p> <p>⑥ $3 + 9$ <input type="text"/></p> <p>⑦ $7 + 6$ <input type="text"/></p> <p>⑧ $8 + 7$ <input type="text"/></p> <p>⑨ $9 + 2$ <input type="text"/></p> <p>⑩ $4 + 8$ <input type="text"/></p>
--	--

くり^あ上がりのれんしゅう (1)

① $2 + 9$ <input type="text"/>	② $3 + 8$ <input type="text"/>	③ $3 + 9$ <input type="text"/>	④ $4 + 7$ <input type="text"/>	⑤ $4 + 8$ <input type="text"/>	⑥ $4 + 9$ <input type="text"/>
⑦ $5 + 6$ <input type="text"/>	⑧ $5 + 7$ <input type="text"/>	⑨ $5 + 8$ <input type="text"/>	⑩ $5 + 9$ <input type="text"/>	⑪ $6 + 5$ <input type="text"/>	⑫ $6 + 6$ <input type="text"/>
⑬ $6 + 7$ <input type="text"/>	⑭ $6 + 8$ <input type="text"/>	⑮ $6 + 9$ <input type="text"/>	⑯ $7 + 4$ <input type="text"/>	⑰ $7 + 5$ <input type="text"/>	⑱ $7 + 6$ <input type="text"/>



1年 2 (3)	たしざん	<input type="text"/> 年 <input type="text"/> 組 番号 <input type="text"/> 氏名 <input style="width: 100%;" type="text"/>
-----------------------	------	--

おなじ こたえになる しきを せんで むすびましよう。

$6 + 6 \cdot \quad \cdot 8 + 4$
 $9 + 6 \cdot \quad \cdot 9 + 7$
 $8 + 8 \cdot \quad \cdot 6 + 8$
 $7 + 7 \cdot \quad \cdot 8 + 7$
 $9 + 4 \cdot \quad \cdot 7 + 6$

しきとこたえをかきましよう

・きのうは どんぐりを 8こ とりました。きょうは、5こ とりました。あわせて なんこ とりましたか。

しき

こたえ

・こうえんで ^{おとこ}男のこが 4人 ^{にん}あそんでいました。そこに ^{おんな}女のこが 7人 きました。ぜんぶで なん人になりましたか。

しき

こたえ

くり^あ上がりのれんしゅう (2)

① $7 + 7$ ② $7 + 8$ ③ $7 + 9$ ④ $8 + 3$ ⑤ $8 + 4$ ⑥ $8 + 5$

 ⑦ $8 + 6$ ⑧ $8 + 7$ ⑨ $8 + 8$ ⑩ $8 + 9$ ⑪ $9 + 2$ ⑫ $9 + 3$

 ⑬ $9 + 4$ ⑭ $9 + 5$ ⑮ $9 + 6$ ⑯ $9 + 7$ ⑰ $9 + 8$ ⑱ $9 + 9$



1年 2 (4)	たしざん	<input type="text"/> 年 <input type="text"/> 組 番号 <input type="text"/> 氏名 <input type="text"/>
-----------------------	------	--

<p>たしざんを しましょう。</p> <p>① $10 + 30$ <input type="text"/></p> <p>② $30 + 20$ <input type="text"/></p> <p>③ $50 + 10$ <input type="text"/></p> <p>④ $70 + 20$ <input type="text"/></p> <p>⑤ $40 + 50$ <input type="text"/></p>	<p>たしざんを しましょう。</p> <p>⑥ $50 + 50$ <input type="text"/></p> <p>⑦ $70 + 30$ <input type="text"/></p> <p>⑧ $20 + 80$ <input type="text"/></p> <p>⑨ $100 + 0$ <input type="text"/></p> <p>⑩ $0 + 100$ <input type="text"/></p>
--	--

○+□=100の れんしゅう

① $10 + 90$	② $20 + 80$	③ $30 + 70$	④ $40 + 60$
<input type="text"/>	<input type="text"/>	<input type="text"/>	<input type="text"/>
⑤ $50 + 50$	⑥ $60 + 40$	⑦ $70 + 30$	⑧ $80 + 20$
<input type="text"/>	<input type="text"/>	<input type="text"/>	<input type="text"/>
⑨ $90 + 10$	⑩ $100 + 0$	⑪ $0 + 100$	
<input type="text"/>	<input type="text"/>	<input type="text"/>	



1年 2 (5)	たしざん	<input type="text"/> 年 <input type="text"/> 組 番号 <input type="text"/> 氏名 <input style="width: 100%;" type="text"/>
-----------------------	------	---

<p>たしざんを しましょう。</p> <p>① 30 + 5 <input style="width: 100px; height: 30px;" type="text"/></p> <p>② 80 + 2 <input style="width: 100px; height: 30px;" type="text"/></p> <p>③ 60 + 6 <input style="width: 100px; height: 30px;" type="text"/></p> <p>④ 20 + 9 <input style="width: 100px; height: 30px;" type="text"/></p> <p>⑤ 70 + 8 <input style="width: 100px; height: 30px;" type="text"/></p>	<p>たしざんを しましょう。</p> <p>⑥ 43 + 3 <input style="width: 100px; height: 30px;" type="text"/></p> <p>⑦ 62 + 7 <input style="width: 100px; height: 30px;" type="text"/></p> <p>⑧ 24 + 4 <input style="width: 100px; height: 30px;" type="text"/></p> <p>⑨ 61 + 6 <input style="width: 100px; height: 30px;" type="text"/></p> <p>⑩ 95 + 4 <input style="width: 100px; height: 30px;" type="text"/></p>
--	--

<p>20 + 3</p> <table border="1" style="width: 100%;"> <tr> <td style="width: 50%;">十のくらい</td> <td style="width: 50%;">一のくらい</td> </tr> <tr> <td style="text-align: center;">○○</td> <td></td> </tr> <tr> <td></td> <td style="text-align: center;">○○○</td> </tr> <tr> <td style="text-align: center;">2</td> <td style="text-align: center;">3</td> </tr> </table>	十のくらい	一のくらい	○○			○○○	2	3	<p>43 + 2</p> <table border="1" style="width: 100%;"> <tr> <td style="width: 50%;">十のくらい</td> <td style="width: 50%;">一のくらい</td> </tr> <tr> <td style="text-align: center;">○○○○</td> <td style="text-align: center;">○○○</td> </tr> <tr> <td></td> <td style="text-align: center;">○○</td> </tr> <tr> <td style="text-align: center;">4</td> <td style="text-align: center;">5</td> </tr> </table>	十のくらい	一のくらい	○○○○	○○○		○○	4	5	<div style="border: 1px solid black; border-radius: 15px; padding: 10px; display: inline-block;"> <p>おなじくらの かずどうしで けいさんすると いいね</p> </div>
十のくらい	一のくらい																	
○○																		
	○○○																	
2	3																	
十のくらい	一のくらい																	
○○○○	○○○																	
	○○																	
4	5																	



1年 3 (1)	ひきざん	<input type="text"/> 年 <input type="text"/> 組 番号 <input type="text"/>
		氏名 <input type="text"/>

<p>ひきざんを しましょう。</p> <p>① $3 - 2$ <input type="text"/></p> <p>② $6 - 1$ <input type="text"/></p> <p>③ $9 - 5$ <input type="text"/></p> <p>④ $7 - 4$ <input type="text"/></p> <p>⑤ $8 - 6$ <input type="text"/></p>	<p>ひきざんを しましょう。</p> <p>⑥ $10 - 1$ <input type="text"/></p> <p>⑦ $10 - 5$ <input type="text"/></p> <p>⑧ $10 - 9$ <input type="text"/></p> <p>⑨ $10 - 4$ <input type="text"/></p> <p>⑩ $10 - 7$ <input type="text"/></p>
--	---

10-□の れんしゅう

① $10 - 1$ <input type="text"/>	② $10 - 2$ <input type="text"/>	③ $10 - 3$ <input type="text"/>	④ $10 - 4$ <input type="text"/>
⑤ $10 - 5$ <input type="text"/>	⑥ $10 - 6$ <input type="text"/>	⑦ $10 - 7$ <input type="text"/>	⑧ $10 - 8$ <input type="text"/>
⑨ $10 - 9$ <input type="text"/>	⑩ $10 - 10$ <input type="text"/>	⑪ $10 - 0$ <input type="text"/>	



1年 3 (2)	ひきざん	<input type="text"/> 年 <input type="text"/> 組 番号 <input type="text"/>
		氏名 <input type="text"/>

<p>ひきざんをしましょう。</p> <p>① 14 - 5 <input type="text"/></p> <p>② 15 - 6 <input type="text"/></p> <p>③ 11 - 8 <input type="text"/></p> <p>④ 13 - 6 <input type="text"/></p> <p>⑤ 12 - 3 <input type="text"/></p>	<p>ひきざんをしましょう。</p> <p>⑥ 17 - 9 <input type="text"/></p> <p>⑦ 11 - 2 <input type="text"/></p> <p>⑧ 18 - 9 <input type="text"/></p> <p>⑨ 16 - 8 <input type="text"/></p> <p>⑩ 14 - 7 <input type="text"/></p>
---	---

くり下がりの れんしゅう

① 11 - 2 <input type="text"/>	② 11 - 3 <input type="text"/>	③ 11 - 4 <input type="text"/>	④ 11 - 5 <input type="text"/>	⑤ 11 - 6 <input type="text"/>	⑥ 11 - 7 <input type="text"/>
⑦ 11 - 8 <input type="text"/>	⑧ 11 - 9 <input type="text"/>	⑨ 12 - 3 <input type="text"/>	⑩ 12 - 4 <input type="text"/>	⑪ 12 - 5 <input type="text"/>	⑫ 12 - 6 <input type="text"/>
⑬ 12 - 7 <input type="text"/>	⑭ 12 - 8 <input type="text"/>	⑮ 12 - 9 <input type="text"/>	⑯ 13 - 4 <input type="text"/>	⑰ 13 - 5 <input type="text"/>	⑱ 13 - 6 <input type="text"/>



1年 3 (4)	ひきざん	<input type="text"/> 年 <input type="text"/> 組 番号 <input type="text"/> 氏名 <input type="text"/>
-----------------------	------	--

<p>ひきざんを しましょう。</p> <p>① 50 - 40 <input type="text"/></p> <p>② 60 - 30 <input type="text"/></p> <p>③ 80 - 20 <input type="text"/></p> <p>④ 70 - 30 <input type="text"/></p> <p>⑤ 90 - 70 <input type="text"/></p>	<p>ひきざんを しましょう。</p> <p>⑥ 100 - 10 <input type="text"/></p> <p>⑦ 100 - 50 <input type="text"/></p> <p>⑧ 100 - 70 <input type="text"/></p> <p>⑨ 50 - 50 <input type="text"/></p> <p>⑩ 100 - 100 <input type="text"/></p>
---	--

100-□の れんしゅう

① 100 - 10 <input type="text"/>	② 100 - 20 <input type="text"/>	③ 100 - 30 <input type="text"/>	④ 100 - 40 <input type="text"/>
⑤ 100 - 50 <input type="text"/>	⑥ 100 - 60 <input type="text"/>	⑦ 100 - 70 <input type="text"/>	⑧ 100 - 80 <input type="text"/>
⑨ 100 - 90 <input type="text"/>	⑩ 100 - 100 <input type="text"/>	⑪ 100 - 0 <input type="text"/>	



1年 3 (5)	ひきざん	<input type="text"/> 年 <input type="text"/> 組 番号 <input type="text"/> 氏名 <input style="width: 100%;" type="text"/>
-----------------------	------	---

<p>ひきざんを しましょう。</p> <p>① 23 - 3 <input style="width: 100px; height: 30px;" type="text"/></p> <p>② 81 - 1 <input style="width: 100px; height: 30px;" type="text"/></p> <p>③ 57 - 7 <input style="width: 100px; height: 30px;" type="text"/></p> <p>④ 49 - 9 <input style="width: 100px; height: 30px;" type="text"/></p> <p>⑤ 60 - 0 <input style="width: 100px; height: 30px;" type="text"/></p>	<p>ひきざんを しましょう。</p> <p>⑥ 29 - 6 <input style="width: 100px; height: 30px;" type="text"/></p> <p>⑦ 84 - 3 <input style="width: 100px; height: 30px;" type="text"/></p> <p>⑧ 38 - 5 <input style="width: 100px; height: 30px;" type="text"/></p> <p>⑨ 77 - 2 <input style="width: 100px; height: 30px;" type="text"/></p> <p>⑩ 99 - 7 <input style="width: 100px; height: 30px;" type="text"/></p>
--	--

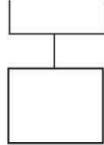
<p>42 - 2</p> <table border="1" style="width: 100%; text-align: center;"> <tr> <td style="width: 50%;">十のくらい</td> <td style="width: 50%;">一のくらい</td> </tr> <tr> <td>○○○○</td> <td>○○</td> </tr> </table> <p>一のくらいから 2を ひくから 一のくらいは 2 - 2 = 0 こたえは 40</p>	十のくらい	一のくらい	○○○○	○○	<p>24 - 3</p> <table border="1" style="width: 100%; text-align: center;"> <tr> <td style="width: 50%;">十のくらい</td> <td style="width: 50%;">一のくらい</td> </tr> <tr> <td>○○</td> <td>○ ○○○</td> </tr> </table> <p>一のくらいから 3を ひく。 一のくらいは 4 - 3 = 1 20と1で こたえは 21</p>	十のくらい	一のくらい	○○	○ ○○○	<div style="border: 1px solid black; border-radius: 15px; padding: 10px; text-align: center;"> おなじくらの かずどうしで けいさんすると いいね。 </div>
十のくらい	一のくらい									
○○○○	○○									
十のくらい	一のくらい									
○○	○ ○○○									



1年 4 (1)	たしざんと ひきざん	<input type="text"/> 年 <input type="text"/> 組 番号 <input type="text"/>
		氏名 <input type="text"/>

けいさんを しましょう。

① $2 + 3 + 1$



② $1 + 4 + 2$

③ $4 + 2 + 3$

④ $7 + 3 + 5$

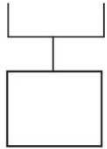
⑤ $2 + 4 + 6$



1年 4 (2)	たしざんと ひきざん	<input type="text"/> 年 <input type="text"/> 組 番号 <input type="text"/>
		氏名 <input type="text"/>

けいさんを しましょう。

① $9 - 4 - 1$



② $8 - 3 - 2$

③ $7 - 3 - 1$

④ $6 - 2 - 4$

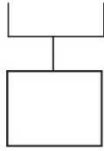
⑤ $10 - 5 - 3$



1年 4 (3)	たしざんと ひきざん	<input type="text"/> 年 <input type="text"/> 組 番号 <input type="text"/>
		氏名 <input type="text"/>

けいさんを しましょう。

① $2 + 3 - 1$



② $8 - 3 + 2$

③ $10 - 8 + 3$

④ $6 + 4 - 7$

⑤ $8 + 5 - 3$



1年 5 (1)	しきに あらわそう	<input type="text"/> 年	<input type="text"/> 組	番号	<input type="text"/>
		氏名 <input type="text"/>			

① あか はな ほん しろ 赤い花が 4本、白い花が 3本あります。

花は、あわせて なん本 ありますか。



しき

こたえ

② き 丸いつみ木が 6こ、さんかくのつみ木が 5こ
あります。つみ木は、ぜんぶで なんこ ありますか。



しき


こたえ



1年 5 (2)	しきに あらわそう	<input type="text"/> 年	<input type="text"/> 組	番号	<input type="text"/>
		氏名 <input type="text"/>			

① あか赤い花が はな9本、ほん白い花が しろ4本あります。


どちらが なん本 おおいでしょう。



しき

こたえ

② まるい きつみ木が 3こ、さんかくの きつみ木が 12こ
あります。どちらが なんこ おおいでしょう。



しき

こたえ



1年 5 (3)	しきに あらわそう	<input type="text"/> 年 <input type="text"/> 組 番号 <input type="text"/>
		氏名 <input type="text"/>


①あひるが 3わ いました。あとから 4わ やってきました。

あひるは ぜんぶで なんわに なりましたか。

【さいしょにいた あひる】



【あとからきた あひる】



しき


こたえ

②はるかさんは、おりがみを 6まい もっています。


おにいさんから 4まい もらいました。

おりがみは、ぜんぶで なんまいに なりましたか。

【もっていた おりがみ】



【もらった おりがみ】




しき

こたえ

1年 5 (4)	しきに あらわそう	<input type="text"/> 年 <input type="text"/> 組 番号 <input type="text"/> 氏名 <input style="width: 100%;" type="text"/>
-----------------------	-----------	---

①いちごが 6こ ありました。2こ たべました。


のこりは なんこでしょう。



しき

こたえ

②りんごを 5こ かりました。みかんを りんごより 3こ
すくなく かりました。みかんは いくつ かったでしょう。



【みかん】 すくなく

しき

こたえ



1年 5 (5)	しきに あらわそう	<input type="text"/> 年 <input type="text"/> 組 番号 <input type="text"/> 氏名 <input style="width: 100%;" type="text"/>
-----------------------	-----------	---

①まささんは ^{ほん}本を 6 さつ、のぞみさんは 本を 7 さつかりました。ふたりが かりた本は、ぜんぶで なんさつ でしょう。

しき

こたえ

②とまが 10 こ あります。6 ^{にん}人が 1 こずつ たべると、なんこ のこりますか。

しき


こたえ


☆わからないときは、おはなしを えで あらわしましょう。





1年 6 (1)	くらべかた	<input type="text"/> 年 <input type="text"/> 組 番号 <input type="text"/>
		氏名 <input type="text"/>

どちらが、ながいでしょう。



ア  ()


イ  ()


ウ  ()


エ  ()


オ カ


  ()


ア 

イ  ()

ア 

イ 

ウ 


エ 


①いちばん ながいのは、
どれでしょう。 ()

②いちばん みじかいのは、
どれでしょう。 ()

③ながさが おなじなのは、
どれと どれでしょう。
() と ()

どちらがながいでしょう。

ア 

イ  ()



1年 6 (2)	くらべかた	<input type="text"/> 年 <input type="text"/> 組 番号 <input type="text"/>
		氏名 <input style="width: 100%;" type="text"/>

たてと よこは、えんぴつ なん
ほん
 本ぶんの ながさでしょう。

たて

よこ

たて えんぴつ () 本ぶん

よこ えんぴつ () 本ぶん

つぎの えんぴつは、ますめ
 なんますぶんの ながさでしょう。

ア ますめ () ますぶん

イ ますめ () ますぶん

ウ ますめ () ますぶん

エ ますめ () ますぶん

いちばん ながい えんぴつは ()

だいすけくんが いっていることは、^{ただ}正しい でしょうか。 それとも、まちがっている でしょうか。

だいすけくん ノートのたては、えんぴつ4こぶん。ノートのよこは、けしごむ4こぶん。だから、たてと よこは、おなじながさだ。

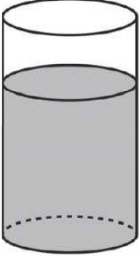
だいすけくんの かんがえは、(正しい。 ・ まちがっている。)




1年 6 (3)	くらべかた	<input type="text"/> 年 <input type="text"/> 組 番号 <input type="text"/>
		氏名 <input style="width: 200px;" type="text"/>

かさが おおいのは、
どちらでしょう。

ア




イ

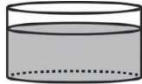


()

ウ




エ



()


つぎの ^い入れものにはいる ^{みず}水のかさは、コップ なんはいぶんでしょう。

ア



コップ () はいぶん



イ



コップ () はいぶん

イのほうが、アよりも () はい おおい。

つぎの 入れものに ^{はい}入る 水のかさは コップ なんはいぶんでしょう。








コップ () はいぶん

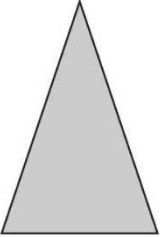

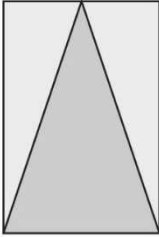



1年 6 (4)	くらべかた	<input type="text"/> 年 <input type="text"/> 組 番号 <input type="text"/> 氏名 <input style="width: 100%;" type="text"/>
-----------------------	-------	---

ひろいのは、どちらでしょう。

ア   

イ  () が ひろい。




ウ   

エ  () が ひろい。

しろ ^{しろ} 白いぶぶんと くろいぶぶん
は どちらが ひろいでしょう。

() ()

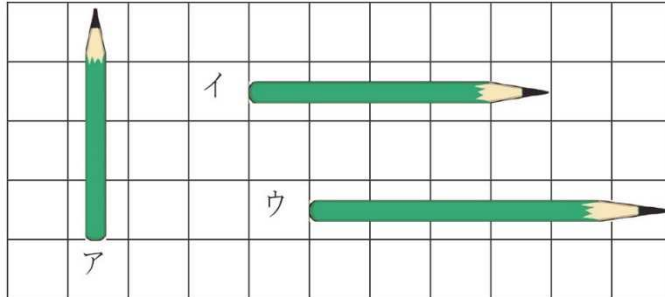
どれが いちばん ひろいでしょう。

ア  イ  ウ  ()



1年 6 (5)	くらべかた	<input type="text"/> 年 <input type="text"/> 組 番号 <input type="text"/>
		氏名 <input style="width: 100%;" type="text"/>

ながいじゆんに、こたえましょう。



() → () → ()

いちばん たくさん ものが ^{はい} 入る ^い 入れものは、どれですか。

ア



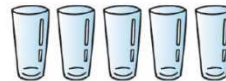
イ



ウ

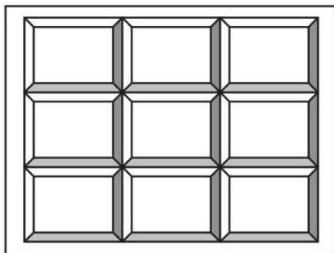


()

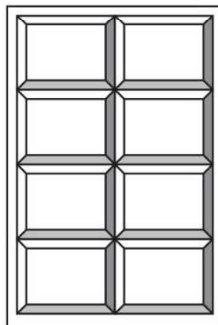


どちらの けいじばんが ひろい ですか。

ア



イ




()




1年 7 (1)	とけい	<input type="text"/> 年 <input type="text"/> 組 番号 <input type="text"/>
		氏名 <input type="text"/>

1 なんじですか。


①



②




③




2 なんじはんですか。


①



②



③







1年 7 (2)	とけい	<input type="text"/> 年 <input type="text"/> 組 番号 <input type="text"/>
		氏名 <input type="text"/>

1 みじかい はりを かきましょう。

① 10じ



② 3じ






③ 5じ



2 ^{した}下の えは さとしさんの ^{いちにち}一日です。えの ようすと とけ
いが あう ものを で むすびましょう。

あさ \longrightarrow ひる \longrightarrow よる





1年 7 (3)	とけい	<input type="text"/> 年 <input type="text"/> 組 番号 <input type="text"/>
		氏名 <input type="text"/>

1 なんじ なんぷんですか。

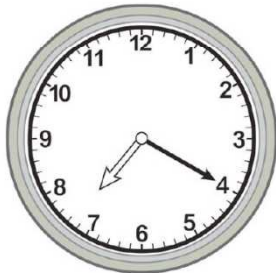
①



②




③



2 なんじ なんぷんですか。

①



②



③





1年 7 (4)	とけい	<input type="text"/> 年 <input type="text"/> 組 番号 <input type="text"/> 氏名 <input type="text"/>
-----------------------	-----	--

1 なんじ なんぷんですか。

①



②



③




2 なんじ なんぷんですか。

①



②



③







1年 7 (5)	とけい	<input type="text"/> 年 <input type="text"/> 組 番号 <input type="text"/> 氏名 <input type="text"/>
-----------------------	-----	--

1 ながい はりを かきましょう。

① 3じ50ふん


② 7じ15ふん



2 ながい はりを かきましょう。

① 1じ38ふん




② 10じ24ふん





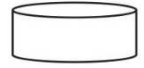


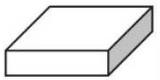


1年 8 (1)	かたち	<input type="text"/> 年 <input type="text"/> 組 番号 <input type="text"/> 氏名 <input style="width: 100%;" type="text"/>
-----------------------	-----	---


①②③のかたちに、にているかたちを、あつめましょう。


①  ②  ③ 


() () ()



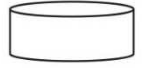


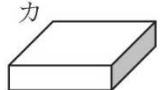
ア	イ	ウ
		
エ	オ	カ
		

どのかたちを つかいますか。




① ロボットの足 ^{あし}
 () 

② 車のタイヤ ^{くるま}
 () 

③ タワー (たてももの) の下のぶぶん ^{した}
 () 

ア	イ	ウ
		
エ	オ	カ
		

わたしはだれでしょう。

ア  イ  ウ 

① 「上から ^{うえ} 見ても、よこから ^み 見ても、しかくいです。」 ()

② 「上から見るとまるくて、よこから見るとしかくいです。」 ()

③ 「上から見ても、よこから見てもまるいです。」 ()



1年 8 (2)	かたち	<input type="text"/> 年 <input type="text"/> 組 番号 <input type="text"/> 氏名 <input style="width: 100%;" type="text"/>
-----------------------	-----	---

おなじ かたち、いろをぬりましょう。

① ()

② ()

③ ()

④ ()

しかくい おりがみを、つぎのように、1かい おります。さんかくは いくつ できますか。

1かいおる

()

しかくい おりがみを、つぎのように 2かい おります。さんかくは いくつ できますか。

2かいおる

→ ()

しかくい おりがみを、つぎのように 1かい おります。しかくは いくつ できますか。

1かいおる

()

しかくい おりがみを、つぎのように 2かい おります。しかくは いくつ できますか。


2かいおる

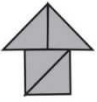
→ ()





1年 8 (3)	かたち	<input type="text"/> 年 <input type="text"/> 組 番号 <input type="text"/> 氏名 <input style="width: 100%;" type="text"/>
-----------------------	-----	---





なに ^みに見えますか。

①  ()


②  ()



③  ()



 このかたちは、どのかたちと
どのかたちで できますか。

ア  イ  ウ  エ 


() と ()


 このかたちから、さんかくの
いたを 1まい うごかして でき
るかたちは、どれと どれでしょう。
また、2まい うごかして できるか
たちは、どれと どれでしょう。


ア  イ 

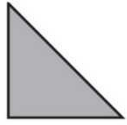
ウ  エ 

1まいうごかす () と ()
2まいうごかす () と ()

つぎのかたちは、 このさんかくのいたが、なんまいで できるでしょう。

ア  () まい

イ  () まい

ウ  () まい

