


1年 1 (1)	大きいかず	____ねん ____くみ なまえ
-----------------------	-------	----------------------

□に あてはまる かずを かきましょう。

- ① 10と 2で 12
- ② 10と 7で 17
- ③ 10と 5で 15
- ④ 13は 10と 3
- ⑤ 16は 10と 6
- ⑥ 20は 10 と 10
- ⑦ 11 - 12 - 13 - 14 - 15
- ⑧ 10 - 12 - 14 - 16 - 18
- ⑨ 20 - 18 - 16 - 14 - 12

いくつあるでしょうか。



13 ほん 本

○かずを まちがいなくかぞえるために どんなくふうをしますか。

10の かたまりを つくって かぞえます。

1年 1 (2)	大きいかず	__ねん __くみ なまえ
-----------------------	-------	------------------

① □に あてはまる かずを かきましょう。

① 10と 9で 19

② 10と 3で 13

③ 10と10で 20

④ 10 と 9で19

⑤ 10 と 1で11

⑥ 10 と10で20

② ^{おお}大きいほうに まるを つけましょう。

① 17 19 ② 14 15

③ 18 11 ④ 19 20

□に かずを かきましょう。

① 5 - 10 - 15 - 20

② 10 - 12 - 14 - 16 - 18

1年 1 (3)	大きいかず	___ねん ___くみ なまえ
----------------	-------	--------------------

□にあてはまる かずをかきましょう。

① 10が9こと1が9こで

② 10が10こで

③ 60は10が こ

④ 99は10が こ

と1が こ

⑤ 100は10が こ

⑥ 72の

一いちのくらいのすうじは で

十じゅうのくらいのすうじは です。

⑦ 50の

一のくらいのすうじは で

十のくらいのすうじは です。

1年 1 (4)	大きいかず	__ねん __くみ なまえ
-----------------------	-------	------------------

1 おお 大きいほうに まるを つけましょう。

① 5 6 4 2 ② 8 9 6 9

③ 9 8 8 9 ④ 1 0 0 9 9

2 □に あてはまる かずを かきましょう。

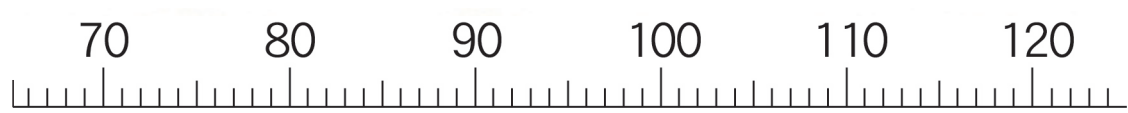
① 9 6 — 9 7 — 9 8 — 9 9 — 100

② 9 8 — 100 — 102 — 1 0 4

③ 110 — 1 0 5 — 100 — 9 5

④ 102 — 1 0 0 — 9 8 — 96

かずの せんを みて こたえましょう。



- ① 100より3大きいかずは 103 です。
- ② 75は80より 5 ちい小さいかずです。

1年 1 (5)	大きいかず	____ねん ____くみ なまえ
-------------------------------------	-------	----------------------

□に あてはまる かずを かきましょう。

0	1	2	3	4	5	6	7	8	9
10	11	12	13	14	15	16	17	18	19
20	21	22	23	24	25	26	27	28	29
30	31	32	33	34	35	36	37	38	39
40	41	42	43	44	45	46	47	48	49
50	51	52	53	54	55	56	57	58	59
60	61	62	63	64	65	66	67	68	69
70	71	72	73	74	75	76	77	78	79
80	81	82	83	84	85	86	87	88	89
90	91	92	93	94	95	96	97	98	99
100									

かずの せんを ^み見て こたえましょう。

① 100より 8ちい小さいかずは 92 です。

② 82は 90より 8 小さいかずです。

1年
2
(1)

たしざん

___ねん ___くみ
なまえ

たしざんを しましょう。

① $2 + 1 = 3$

② $3 + 2 = 5$

③ $1 + 7 = 8$

④ $4 + 2 = 6$

⑤ $6 + 3 = 9$

たしざんを しましょう。

⑥ $1 + 9 = 10$

⑦ $5 + 5 = 10$

⑧ $8 + 2 = 10$

⑨ $6 + 4 = 10$

⑩ $3 + 7 = 10$

○+□=10の れんしゅう

① $1 + 9 = 10$ ② $2 + 8 = 10$ ③ $3 + 7 = 10$ ④ $4 + 6 = 10$

⑤ $5 + 5 = 10$ ⑥ $6 + 4 = 10$ ⑦ $7 + 3 = 10$ ⑧ $8 + 2 = 10$

⑨ $9 + 1 = 10$ ⑩ $10 + 0 = 10$ ⑪ $0 + 10 = 10$

1年 2 (2)	たしざん	___ねん ___くみ なまえ
-----------------------	------	--------------------

たしざんを しましょう。

① $7 + 7 = 14$

② $8 + 5 = 13$

③ $9 + 4 = 13$

④ $6 + 8 = 14$

⑤ $5 + 6 = 11$

たしざんを しましょう。

⑥ $3 + 9 = 12$

⑦ $7 + 6 = 13$

⑧ $8 + 7 = 15$

⑨ $9 + 2 = 11$

⑩ $4 + 8 = 12$

くりあがりのれんしゅう (1)

① $2 + 9 = 11$ ② $3 + 8 = 11$ ③ $3 + 9 = 12$ ④ $4 + 7 = 11$ ⑤ $4 + 8 = 12$ ⑥ $4 + 9 = 13$

⑦ $5 + 6 = 11$ ⑧ $5 + 7 = 12$ ⑨ $5 + 8 = 13$ ⑩ $5 + 9 = 14$ ⑪ $6 + 5 = 11$ ⑫ $6 + 6 = 12$

⑬ $6 + 7 = 13$ ⑭ $6 + 8 = 14$ ⑮ $6 + 9 = 15$ ⑯ $7 + 4 = 11$ ⑰ $7 + 5 = 12$ ⑱ $7 + 6 = 13$

1年 2 (3)	たしざん	____ねん ____くみ なまえ
-----------------------	------	----------------------

おなじ こたえに なる しきを せんで むすびましよう。

$6 + 6$ 12	・ ——— ・	$8 + 4$ 12
$9 + 6$ 15	・ ・	$9 + 7$ 16
$8 + 8$ 16	・ ・	$6 + 8$ 14
$7 + 7$ 14	・ ・	$8 + 7$ 15
$9 + 4$ 13	・ ——— ・	$7 + 6$ 13

しきとこたえをかきましょう

・きのうは どんぐりを 8こ とりました。きょうは、5こ とりました。あわせて なんこ とりましたか。

しき $8 + 5 = 13$

こたえ **13こ**

・こうえんで ^{おとこ}男のこが 4人 ^{にん}あそんでいました。そこに ^{おんな}女のこが 7人 きました。ぜんぶで なん人になりましたか。

しき $4 + 7 = 11$

こたえ **11人**

くりあがりのれんしゅう (2)

- ① $7 + 7 = 14$ ② $7 + 8 = 15$ ③ $7 + 9 = 16$ ④ $8 + 3 = 11$ ⑤ $8 + 4 = 12$ ⑥ $8 + 5 = 13$
- ⑦ $8 + 6 = 14$ ⑧ $8 + 7 = 15$ ⑨ $8 + 8 = 16$ ⑩ $8 + 9 = 17$ ⑪ $9 + 2 = 11$ ⑫ $9 + 3 = 12$
- ⑬ $9 + 4 = 13$ ⑭ $9 + 5 = 14$ ⑮ $9 + 6 = 15$ ⑯ $9 + 7 = 16$ ⑰ $9 + 8 = 17$ ⑱ $9 + 9 = 18$

1年

2

(4)

たしざん

___ねん ___くみ

なまえ

たしざんを しましょう。

① $10 + 30 = 40$

② $30 + 20 = 50$

③ $50 + 10 = 60$

④ $70 + 20 = 90$

⑤ $40 + 50 = 90$

たしざんを しましょう。

⑥ $50 + 50 = 100$

⑦ $70 + 30 = 100$

⑧ $20 + 80 = 100$

⑨ $100 + 0 = 100$

⑩ $0 + 100 = 100$

○+□=100の れんしゅう

① $10 + 90 = 100$ ② $20 + 80 = 100$ ③ $30 + 70 = 100$ ④ $40 + 60 = 100$

⑤ $50 + 50 = 100$ ⑥ $60 + 40 = 100$ ⑦ $70 + 30 = 100$ ⑧ $80 + 20 = 100$

⑨ $90 + 10 = 100$ ⑩ $100 + 0 = 100$ ⑪ $0 + 100 = 100$

1年 2 (5)	たしざん	____ねん ____くみ なまえ
------------------------------	------	----------------------

たしざんを しましょう。

① $30 + 5 = 35$

② $80 + 2 = 82$

③ $60 + 6 = 66$

④ $20 + 9 = 29$

⑤ $70 + 8 = 78$

たしざんを しましょう。

⑥ $43 + 3 = 46$

⑦ $62 + 7 = 69$

⑧ $24 + 4 = 28$

⑨ $61 + 6 = 67$

⑩ $95 + 4 = 99$

$20 + 3$

十のくらい	一のくらい
〇〇	
	〇〇〇
2	3

$43 + 2$

十のくらい	一のくらい
〇〇〇〇	〇〇〇
	〇〇
4	5

おなじくらの
かずどうして
けいさんすると
いいね

1年 3 (1)	ひきざん	___ねん ___くみ なまえ
-----------------------	------	--------------------

ひきざんを しましょう。

① $3 - 2 = 1$

② $6 - 1 = 5$

③ $9 - 5 = 4$

④ $7 - 4 = 3$

⑤ $8 - 6 = 2$

ひきざんを しましょう。

⑥ $10 - 1 = 9$

⑦ $10 - 5 = 5$

⑧ $10 - 9 = 1$

⑨ $10 - 4 = 6$

⑩ $10 - 7 = 3$

10-□の れんしゅう

① $10 - 1 = 9$ ② $10 - 2 = 8$ ③ $10 - 3 = 7$ ④ $10 - 4 = 6$

⑤ $10 - 5 = 5$ ⑥ $10 - 6 = 4$ ⑦ $10 - 7 = 3$ ⑧ $10 - 8 = 2$

⑨ $10 - 9 = 1$ ⑩ $10 - 10 = 0$ ⑪ $10 - 0 = 10$

1年 3 (2)	ひきざん	___ねん ___くみ なまえ
-----------------------	------	--------------------

ひきざんをしましょう。

① $14 - 5 = 9$

② $15 - 6 = 9$

③ $11 - 8 = 3$

④ $13 - 6 = 7$

⑤ $12 - 3 = 9$

ひきざんをしましょう。

⑥ $17 - 9 = 8$

⑦ $11 - 2 = 9$

⑧ $18 - 9 = 9$

⑨ $16 - 8 = 8$

⑩ $14 - 7 = 7$

くり下がりの れんしゅう

① $11 - 2 = 9$ ② $11 - 3 = 8$ ③ $11 - 4 = 7$ ④ $11 - 5 = 6$ ⑤ $11 - 6 = 5$ ⑥ $11 - 7 = 4$

⑦ $11 - 8 = 3$ ⑧ $11 - 9 = 2$ ⑨ $12 - 3 = 9$ ⑩ $12 - 4 = 8$ ⑪ $12 - 5 = 7$ ⑫ $12 - 6 = 6$

⑬ $12 - 7 = 5$ ⑭ $12 - 8 = 4$ ⑮ $12 - 9 = 3$ ⑯ $13 - 4 = 9$ ⑰ $13 - 5 = 8$ ⑱ $13 - 6 = 7$

1年 3 (3)	ひきざん	____ねん ____くみ なまえ
-------------------------------------	-------------	----------------------

おなじ こたえに なる しきを せんで むすびましょう。

18 - 9 9	10 - 5 5
9 - 4 5	12 - 6 6
13 - 7 6	8 - 5 3
11 - 8 3	4 - 0 4
10 - 6 4	17 - 8 9

しきとこたえをかきましょう。

- ・ふうせんが 11こ ありました。2 ことんで いってしまいました。 のこった ふうせんは なんこ ですか。

しき $11 - 2 = 9$

こたえ **9こ**

- ・ねこが 8ひき います。 いぬは 16ひき います。 いぬは ねこより なんびき おおい ですか。

しき $16 - 8 = 8$

こたえ いぬは ねこより 8 ひきおおい。

くり下がりの れんしゅう

- ① $13 - 7 = 6$ ② $13 - 8 = 5$ ③ $13 - 9 = 4$ ④ $14 - 5 = 9$ ⑤ $14 - 6 = 8$ ⑥ $14 - 7 = 7$
- ⑦ $14 - 8 = 6$ ⑧ $14 - 9 = 5$ ⑨ $15 - 6 = 9$ ⑩ $15 - 7 = 8$ ⑪ $15 - 8 = 7$ ⑫ $15 - 9 = 6$
- ⑬ $16 - 7 = 9$ ⑭ $16 - 8 = 8$ ⑮ $16 - 9 = 7$ ⑯ $17 - 8 = 9$ ⑰ $17 - 9 = 8$ ⑱ $18 - 9 = 9$

1年 3 (4)	ひきざん	___ねん ___くみ なまえ
-----------------------	------	--------------------

ひきざんを しましょう。

① $50 - 40 = 10$

② $60 - 30 = 30$

③ $80 - 20 = 60$

④ $70 - 30 = 40$

⑤ $90 - 70 = 20$

ひきざんを しましょう。

⑥ $100 - 10 = 90$

⑦ $100 - 50 = 50$

⑧ $100 - 70 = 30$

⑨ $50 - 50 = 0$

⑩ $100 - 100 = 0$

100-□の れんしゅう

① $100 - 10 = 90$ ② $100 - 20 = 80$ ③ $100 - 30 = 70$ ④ $100 - 40 = 60$

⑤ $100 - 50 = 50$ ⑥ $100 - 60 = 40$ ⑦ $100 - 70 = 30$ ⑧ $100 - 80 = 20$

⑨ $100 - 90 = 10$ ⑩ $100 - 100 = 0$ ⑪ $100 - 0 = 100$

1年 3 (5)	ひきざん	____ねん ____くみ なまえ
-------------------------------------	------	----------------------

ひきざんを しましょう。

① $23 - 3 = 20$

② $81 - 1 = 80$

③ $57 - 7 = 50$

④ $49 - 9 = 40$

⑤ $60 - 0 = 60$

ひきざんを しましょう。

⑥ $29 - 6 = 23$

⑦ $84 - 3 = 81$

⑧ $38 - 5 = 33$

⑨ $77 - 2 = 75$

⑩ $99 - 7 = 92$

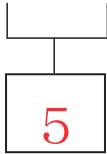
<p>42 - 2</p> <table border="1" style="width: 100%;"> <tr> <td style="width: 50%;">十のくらい</td> <td style="width: 50%;">一のくらい</td> </tr> <tr> <td style="text-align: center;">○○○○</td> <td style="text-align: center;">○○</td> </tr> </table> <p>一のくらいから 2を ひくから 一のくらいは $2 - 2 = 0$ こたえは 40</p>	十のくらい	一のくらい	○○○○	○○	<p>24 - 3</p> <table border="1" style="width: 100%;"> <tr> <td style="width: 50%;">十のくらい</td> <td style="width: 50%;">一のくらい</td> </tr> <tr> <td style="text-align: center;">○○</td> <td style="text-align: center;">○ ○○○</td> </tr> </table> <p>一のくらいから 3を ひく。 一のくらいは $4 - 3 = 1$ 20と1で こたえは 21</p>	十のくらい	一のくらい	○○	○ ○○○
十のくらい	一のくらい								
○○○○	○○								
十のくらい	一のくらい								
○○	○ ○○○								

おなじくらいの
 かずどうしで
 けいさんすると
 いいね。

1年 4 (1)	たしざんと ひきざん	___ねん ___くみ なまえ
----------------	------------	--------------------

けいさんを しましょう。

① $2 + 3 + 1 = 5 + 1 = 6$



② $1 + 4 + 2 = 5 + 2 = 7$

③ $4 + 2 + 3 = 6 + 3 = 9$

④ $7 + 3 + 5 = 10 + 5 = 15$

⑤ $2 + 4 + 6 = 6 + 6 = 12$

1年

4

(2)

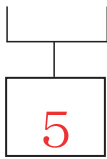
たしざんと ひきざん

___ねん ___くみ

なまえ

けいさんを しましよう。

① $9 - 4 - 1 = 5 - 1 = 4$



② $8 - 3 - 2 = 5 - 2 = 3$

③ $7 - 3 - 1 = 4 - 1 = 3$

④ $6 - 2 - 4 = 4 - 4 = 0$

⑤ $10 - 5 - 3 = 5 - 3 = 2$

1年

4

(3)

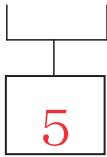
たしざんと ひきざん

___ねん ___くみ

なまえ

けいさんを しましょう。

① $2 + 3 - 1 = 5 - 1 = 4$



② $8 - 3 + 2 = 5 + 2 = 7$

③ $10 - 8 + 3 = 2 + 3 = 5$

④ $6 + 4 - 7 = 10 - 7 = 3$

⑤ $8 + 5 - 3 = 13 - 3 = 10$

1年 5 (1)	しきに あらわそう	___ねん ___くみ なまえ	さいてん
----------------	-----------	--------------------	------

① あか はな 赤い花が 4本、ほん しろ 白い花が 3本あります。

花は、あわせて なん本 ありますか。



しき

$$4 + 3 = 7$$

こたえ

7ほん

② まるい き つみ木が 6こ、さんかくの き つみ木が 5こ
あります。つみ木は、ぜんぶで なんこ ありますか。



しき

$$6 + 5 = 11$$


こたえ

11こ

1年 5 (2)	しきに あらわそう	___ねん ___くみ なまえ	さいてん
----------------	-----------	--------------------	------

① あか はな ほん しろ 赤い花が 9本、白い花が 4本あります。

どちらが なん本 おおいでしょう。




しき

$$9 - 4 = 5$$

こたえ

赤い花が 5本 おおい。

② き まるいつみ木が 3こ、さんかくのつみ木が 12こ
あります。どちらが なんこ おおいでしょう。



しき

$$12 - 3 = 9$$

こたえ

さんかくのつみ木が 9こ おおい。

1年 5 (3)	しきに あらわそう	___ねん ___くみ なまえ	さいてん
----------------	-----------	--------------------	------


①あひるが 3わ いました。あとから 4わ やってきました。

あひるは ぜんぶで なんわに なりましたか。

【さいしょにいた あひる】



【あとからきた あひる】



しき

$$3 + 4 = 7$$

こたえ


7わ

②はるかさんは、おりがみを 6まい もっています。

おにいさんから 4まい もらいました。

おりがみは、ぜんぶで なんまいに なりましたか。

【もっていた おりがみ】



【もらった おりがみ】



しき

$$6 + 4 = 10$$

こたえ

10まい

<p>1年 5 (4)</p>	<p>しきに あらわそう</p>	<p>___ねん ___くみ なまえ</p>	<p>さいてん</p>
-------------------------	------------------	----------------------------	-------------

①いちごが 6こ ありました。2こ たべました。


のこりは なんこでしょう。



しき 6 - 2 = 4

こたえ 4こ

②りんごを 5こ かいました。みかんを りんごより 3こ
すくなく かいました。みかんは いくつ かったでしょう。



しき 5 - 3 = 2

こたえ 2こ

1年 5 (5)	しきに あらわそう	___ねん ___くみ なまえ	さいてん
----------------	-----------	--------------------	------

①まさどさんは ^{ほん}本を 6 さつ、のぞみさんは 本を 7 さつかりました。ふたりが かりた本は、ぜんぶで なんさつ でしょう。

しき

$$6 + 7 = 13$$

こたえ

13 さつ

②とまとが 10 こ あります。6人^{にん}が 1 こずつ たべると、なんこ のこりますか。

しき

$$10 - 6 = 4$$


こたえ


4 こ


☆わからないときは、おはなしを えで あらわしましょう。


1年 6 (1)	くらべかた	___ねん ___くみ なまえ
----------------	-------	--------------------

どちらが、ながいでしょう。



ア 


イ  (イ)


ウ 


エ  (ウ)


オ カ

  (カ)

ア 


イ 


ウ 

エ 

- ①いちばん ながいのは、
どれでしょう。 (エ)
- ②いちばん みじかいのは、
どれでしょう。 (イ)
- ③ながさが おなじなのは、
どれと どれでしょう。
(ア) と (ウ)

どちらがながいでしょう。

ア 

イ  (イ)

1年 6 (2)	くらべかた	___ねん ___くみ なまえ
-----------------------	-------	--------------------

たてと よこは、えんぴつ なん
ほん
 本ぶんの ながさでしょう。

たて えんぴつ (4) 本ぶん
 よこ えんぴつ (5) 本ぶん

つぎの えんぴつは、ますめ
 なんますぶんの ながさでしょう。

		イ						
		↑	→					ウ
	ア	↑						
	↑		→					エ

ア ますめ (2) ますぶん
 イ ますめ (4) ますぶん
 ウ ますめ (5) ますぶん
 エ ますめ (3) ますぶん

いちばん ながい えんぴつは (ウ)

だいすけくんが いっていることは、^{ただ}正しい でしょうか。 それとも、まちがっている でしょうか。

ノート

だいすけくん

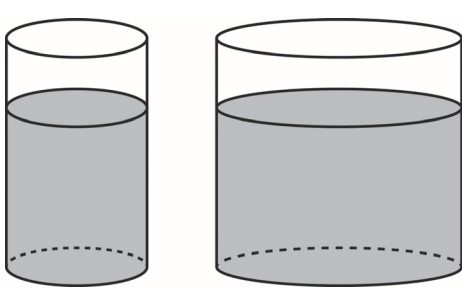
ノートのたては、えんぴつ4こぶん。ノートのよこは、けしむ4こぶん。だから、たてと よこは、おなじながさだ。

だいすけくんの かんがえは、(正しい。 ・ まちがっている。)

1年 6 (3)	くらべかた	____ねん ____くみ なまえ
-----------------------	-------	----------------------

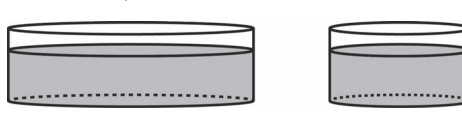
かさが おおいのは、
どちらでしょう。

ア イ



(イ)


ウ エ



(ウ)


つぎの ^い入れものにはいる
^{みず}水のかさは、コップ なんはい
ぶんでしょう。

ア



コップ (4) はいぶん


イ



コップ (9) はいぶん

イのほうが、アよりも (5) はい おおい。



つぎの ^{はい}入れものに 入る 水のかさは コップ なんはいぶんでしょう。




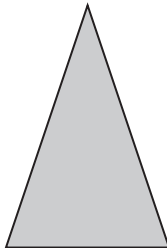
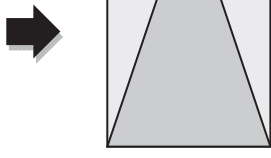
コップ (7) はいぶん


1年 6 (4)	くらべかた	____ねん ____くみ なまえ
-----------------------	-------	----------------------

ひろいのは、どちらでしょう。

ア  

イ  (イ)がひろい。



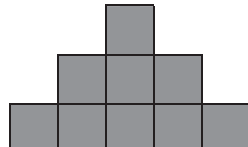
ウ  

エ  (エ)がひろい。

しろいぶぶんと くろいぶぶん
 は どちらが ひろいでしょう。

(くろいぶぶん)

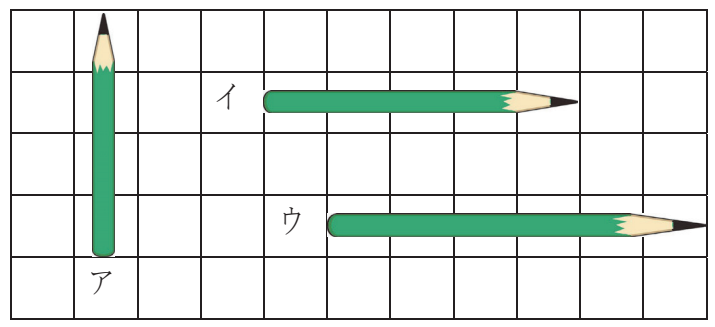
どれが いちばん ひろいでしょう。

ア  イ  ウ 

(イ)

1年 6 (5)	くらべかた	____ねん ____くみ なまえ
-----------------------	-------	----------------------

ながいじゆんに、こたえましょう。

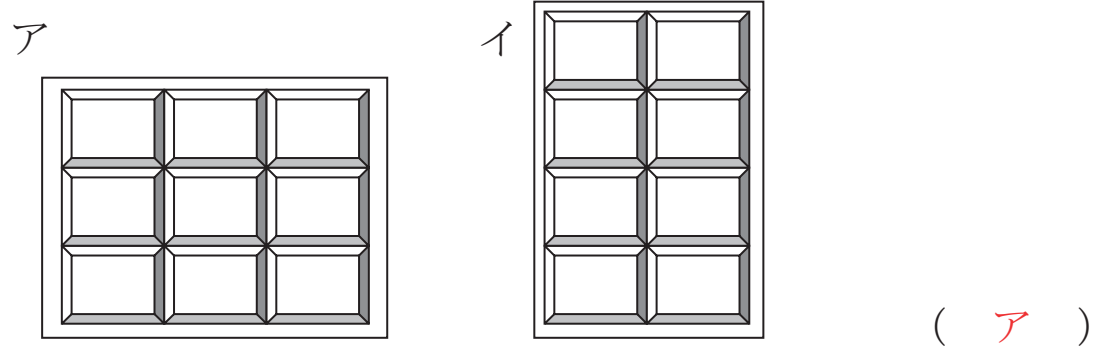


(ウ) → (イ) → (ア)

いちばん たくさん ものが ^{はい} 入る ^い 入れものは、どれですか。




どちらの けいじばんが ひろい ですか。



1年 7 (1)	とけい	___ねん ___くみ なまえ
----------------	-----	--------------------


1 なんじですか。

①



4じ

②



9じ


③



1じ


2 なんじはんですか。

①




2じはん

②



7じはん

③





11じはん

1年 7 (2)	とけい	____ねん ____くみ なまえ
-----------------------	-----	----------------------


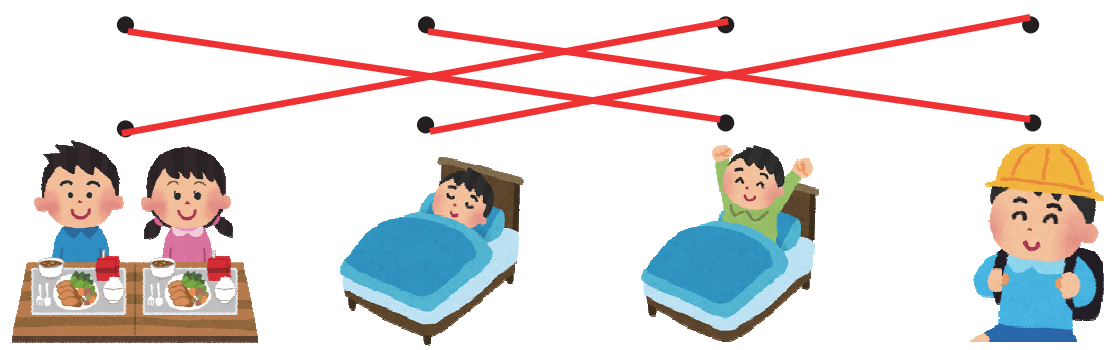




1 みじかい はりを かきましょう。

- ① 10じ ② 3じ ③ 5じ




2 ^{した}下の えは ^{いちにち}さとしさんの 一日です。えの ようすと とけい
 があう ものを _____ で むすびましょう。

あさ → ひる → よる

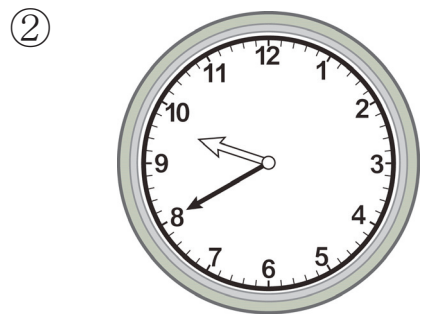


1年 7 (3)	とけい	___ねん ___くみ なまえ
----------------	-----	--------------------


1 なんじ なんぷんですか。



4じ10ぶん




9じ40ぶん




7じ20ぶん


2 なんじ なんぷんですか。



5じ15ぶん



12じ45ぶん




11じ5ぶん

1年 7 (4)	とけい	___ねん ___くみ 名前
----------------	-----	-------------------


1 なんじ なんぷんですか。

①




8じ17ふん

②



1じ23ふん


③



3じ41ふん

2 なんじ なんぷんですか。

①



4じ54ふん

②



11じ33ふん

③




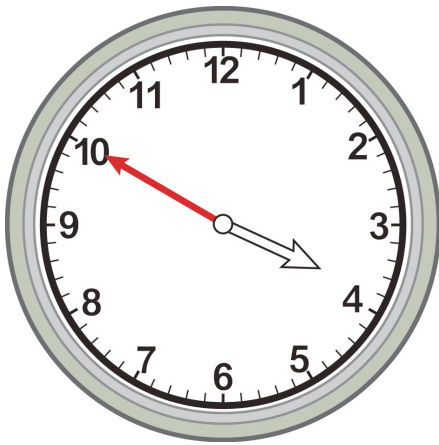
7じ2ふん

1年 7 (5)	とけい	___ねん ___くみ なまえ
----------------	-----	--------------------

1 ながい はりを かきましょう。

① 3じ50ぶん



② 7じ15ぶん



2 ながい はりを かきましょう。




① 1じ38ぶん

② 10じ24ぶん


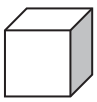
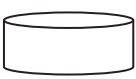

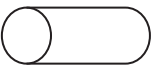
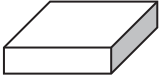


1年 8 (1)	かたち	____ねん ____くみ なまえ
-----------------------	-----	----------------------

①②③のかたちに、にているかたちを、あつめましょう。

①  ②  ③ 

アイ カ	ウ オ	エ
---------	--------	---


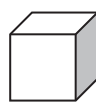



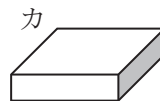
ア 	イ 	ウ 
エ 	オ 	カ 

どのかたちを つかいますか。

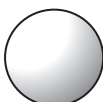


① ロボットの足 ^{あし}
 (アかイかオ)

② 車 ^{くるま} のタイヤ
 (オ)

③ タワー (たてももの) の下 ^{した} の
 ぶぶん
 (ウかカ)

ア 	イ 	ウ 
エ 	オ 	カ 





わたしはだれでしょう。





ア  イ  ウ 





- ① 「上 ^{うへ} から見ても、よこ ^み から見ても、しかくいです。」 (イ)
- ② 「上 ^{うへ} から見るとまるくて、よこ ^み から見るとしかくいです。」 (ウ)
- ③ 「上 ^{うへ} から見ても、よこ ^み から見てもまるいです。」 (ア)





1年 8 (2)	かたち	___ねん ___くみ なまえ
-----------------------	-----	--------------------

おなじ かたち、いろをぬりましょう。

①  (  )

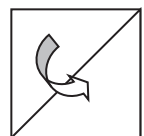
②  (  )

③  (  )

④  (  )

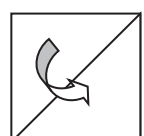
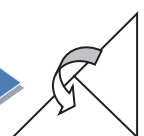
しかくい おりがみを、つぎのように、1かい おります。さんかくは いくつ できますか。

1かいおる

 (2つ)

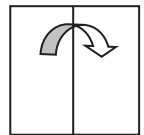
しかくい おりがみを、つぎのように 2かい おります。さんかくは いくつ できますか。

2かいおる

 →  (4つ)

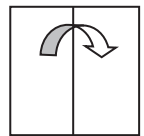
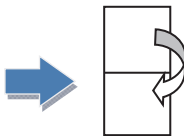
しかくい おりがみを、つぎのように 1かい おります。しかくは いくつ できますか。

1かいおる

 (2つ)


しかくい おりがみを、つぎのように 2かい おります。しかくは いくつ できますか。


2かいおる


 →  (4つ)


1年 8 (3)	かたち	____ ねん ____ ぐみ なまえ
-----------------------	-----	------------------------





なに ^みに見えますか。

①  (さかななど)


②  (いえなど)



③  (はななど)



 このかたちは、どのかたちと
どのかたちで できますか。

ア  イ  ウ  エ 


(イ) と (ウ)


 このかたちから、さんかくの
いたを 1まい うごかして でき
るかたちは、どれと どれでしょう。
また、2まい うごかして できるか
たちは、どれと どれでしょう。


ア  イ 

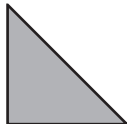
ウ  エ 

1まいうごかす (イ) と (エ)
2まいうごかす (ア) と (ウ)

つぎのかたちは、 このさんかくのいたが、なんまいで できるでしょう。

ア  (2 まい)

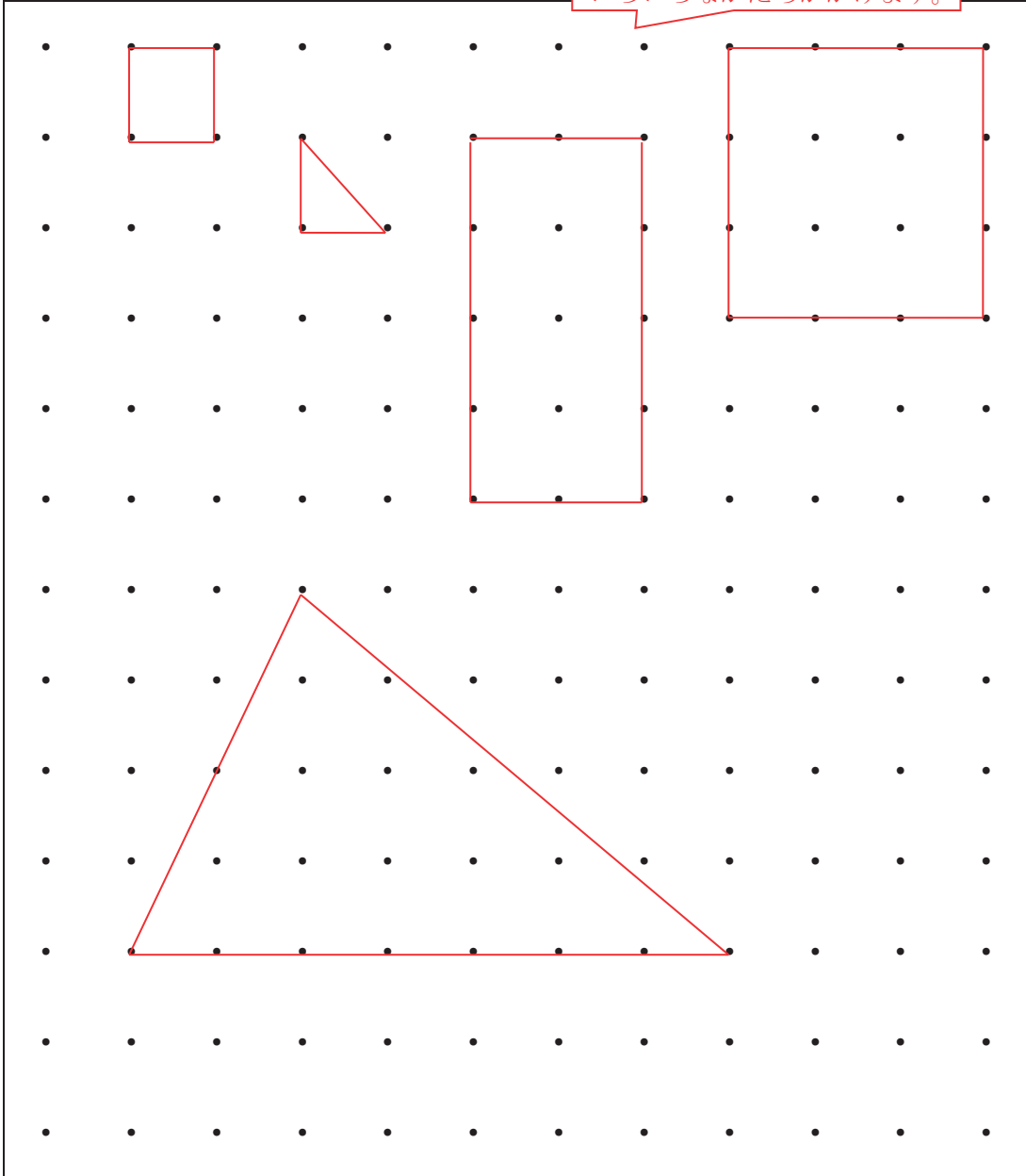
イ  (4 まい)

ウ  (4 まい)

1年 8 (4)	かたち	___ねん ___くみ なまえ
-----------------------	-----	--------------------

・と・を、まっすぐな せんで つないで、いろいろな
かたちを かきましょう。

ほかにも
いろいろなかたちがかけます。



1年 8 (5)	かたち	___ねん ___くみ なまえ
-----------------------	-----	--------------------

・と・を、まっすぐな せんで つないで、つぎの かたち
をおもいうかべて かきましょう。

- ①おにぎり ②はこ ③いえ ④さかな ⑤ふね