

	5月18日（月）	5月19日（火）	5月20日（水）	5月21日（木）	5月22日（金）
国語	① 漢字ドリル16の「漢字を使おう」をやる。 ② 漢字ドリル17のドリル①と②を漢字ノートに書く。 ③ ローマ字の復習（あいうえお）ていねいになぞって書く。続きに何度も練習する。 ④ 音読集「すいしゃ」⑦の音読 3回 おうちの人に聞いてもらい、サインをもらう。	① 漢字ドリル18のドリル①と②を漢字ノートに書く。ひらがなを漢字に直して書き、できるだけ答えを見ないようにする。 ② ローマ字の復習（かきくけこ）ていねいになぞって書く。続きに何度も練習する。 ③ 音読集「すいしゃ」⑧の音読 3回 おうちの人に聞いてもらい、サインをもらう。	① 漢字ドリル19の（覚・伝）をやる。書き順をよく見て、ていねいに書く。漢字ノートに（覚・伝）の練習をする。（書き方の見本）をよく見て、書く。 ② ローマ字の復習（さしすせそ）ていねいになぞって書く。続きに何度も練習する。 ③ 音読集「すいしゃ」⑧の音読 3回 おうちの人に聞いてもらい、サインをもらう。	① 漢字ドリル19の（説・好）をやる。書き順をよく見て、ていねいに書く。漢字ノートに（説・好）の練習をする。（書き方の見本）をよく見て、書く。 ② ローマ字の復習（たちつてと）ていねいになぞって書く。続きに何度も練習する。 ③ 音読集「すいしゃ」⑧の音読 3回 おうちの人に聞いてもらい、サインをもらう。	① 漢字ドリル19、20の（印・要）をやる。書き順をよく見て、ていねいに書く。漢字ノートに（印・要）の練習をする。（書き方の見本）をよく見て、書く。 ② ローマ字の復習（なにぬねの）ていねいになぞって書く。続きに何度も練習する。 ③ 音読集「すいしゃ」⑨の音読 3回 おうちの人に聞いてもらい、サインをもらう。
算数	① 算数ふく習プリント（わり算）をやる。プリントの答え合わせをする。まちがえた問題をやり直す。	① 算数ふく習プリント（どんなかたちになるかな）をやる。プリントの答え合わせをする。まちがえた問題をやり直す。	① 算数ふく習プリント（小数のたし算・ひき算）をやる。プリントの答え合わせをする。まちがえた問題をやり直す。	① 算数ふく習プリント（何が入っているかな）をやる。プリントの答え合わせをする。まちがえた問題をやり直す。	① 算数ふく習プリント（どんな魚をつたかな）をやる。プリントの答え合わせをする。まちがえた問題をやり直す。
理科	① 教科書「天気と気温」 教科書8ページ～9ページを読み、毎日の天気と空気の温度（外に出たとき、体で感じたようす）について気づいたことをカードに記録する。				
総合	① 身近な「環境問題」について考えよう。（ワークシート） ・「環境問題」について知っていることを書き出す。 ・疑問に思うことや調べてみたいことを書く。 ・自分が決めたテーマについて、本やインターネットを使って調べる。		おすすめのインターネットサイト ・TOKYO 環境学習ひろば ・小学生のための環境リサイクル学習ホームページ ・こども環境省		
音楽	① リコーダー「パフ」（3年生の復習） 「ミ、ファ」の指づかいを思い出して、できる人は最後までふいてみよう。 ※できるところまでで、大丈夫です。				
その他	1日10分以上、時間を決めて本を読む。（図鑑や漫画を除いた読み物） ※課題にはきちんと名前を書きましょう。				


ローマ字練習

【あいうえお】から始まる言葉

なぞってから、書きましょう。

あ い う え お

a i u e o



あじさい
a zisai

azisai

あり
ari

ari



いぬ
inu

inu

いえ
ie

ie



うきわ
ukiwa

ukiwa

うみ
umi

umi



えのぐ
enogu

enogu

えき
eki

eki



おばけ
obake

obake

おに
oni

oni

ローマ字練習

【かきくけこ】から始まる言葉

なぞってから、書きましょう。

か き く け こ

ka ki ku ke ko




か たつ むり
ka tatumuri

katatumuri

か み
ka mi

kami

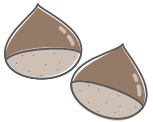


きんぎょ
kingyo

kingyo

きもの
ki mono

kimono



くり
ku ri

kuri

くま
ku ma

kuma



けん
ke n

ken

けいと
kei to

keito



こま
ko ma

koma

こめ
ko me

kome

ローマ字練習

【さしすせそ】から始まる言葉

なぞってから、書きましょう。

さ し す せ そ

sa si su se so



さくら
sa kura

sakura

さい
sai

sai

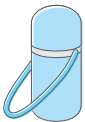


しま
si ma

si ma

しあい
si ai

si ai



すいとう
su i tō

su i tō

すいか
su i ka

su i ka

せんたく
se n ta ku

se n ta ku

せき
se ki

se ki



そら
so ra

so ra

そうじ
so ji

so ji

ローマ字練習

【たちつてと】から始まる言葉

なぞってから、書きましょう。

た ち つ て と

ta ti tu te to



たまご
tamago

たいこ
taiko



ちから
tikara

ちりとり
tiritori



つき
tuki

つばめ
tubame



てぶくろ
tebukuro

てんぷら
tempura



とり
tori

とかけ
tokage

ローマ字練習

【なにぬねの】から始まる言葉

なぞってから、書きましょう。

な に ぬ ね の

na ni nu ne no



ながぐつ
nagagutu

なす
nasu

nasu



にじ
nizi

nizi

にมိ
nimotu

nimotu



ぬいぐるみ
nuigurumi

nuigurumi

ぬりえ
nurie

nurie



ねんど
nendo

nendo

ねだん
nedan

nedan



のり
nori

nori

のほら
nohara


nohara

わり算

名前

● とびらを あげる あんごうを さがしだせ!
 こたえの 十の位を たてに, 一の位を よこに みて, そこに かけられた ことばを ならべよう。

	0	1	2	3	4	5
1	く	だ	た	よ	や	い
2	き	う	め	な	う	い
3	お	い	し	る	す	ふ
4	き	ち	は	ひ	か	む
5	ゆ	ま	を	れ	り	わ
						ら



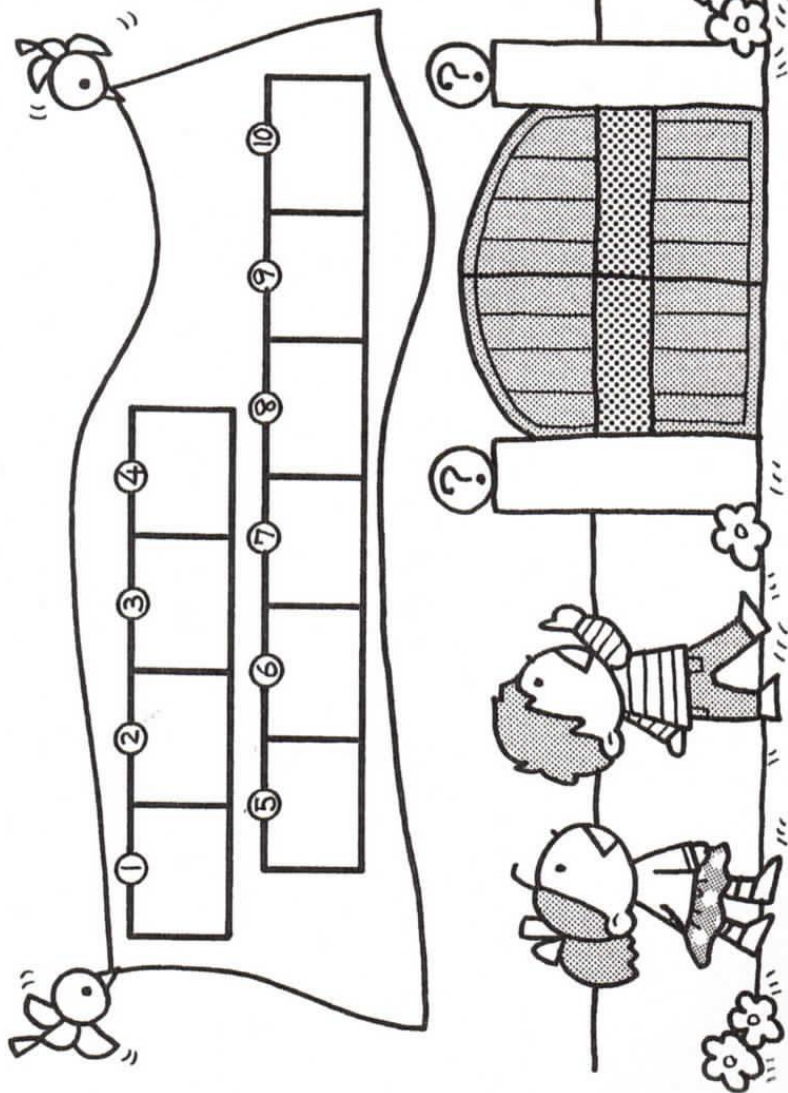
① $40 \div 2$ ② $50 \div 1$ ③ $63 \div 3$ ④ $96 \div 3$ ⑤ $39 \div 3$

⑥ $50 \div 5$ ⑦ $55 \div 5$ ⑧ $62 \div 2$ ⑨ $68 \div 2$ ⑩ $80 \div 2$

<h1 style="text-align: center;">小数の たし算・ひき算</h1>	名前
--	----

● とびらを ひらく あんごうを さがしだせ!

下の たし算 ひき算の、一の位を たて、小数第一位の 位を よこにみて、あてはまる ことばを ならべよう。



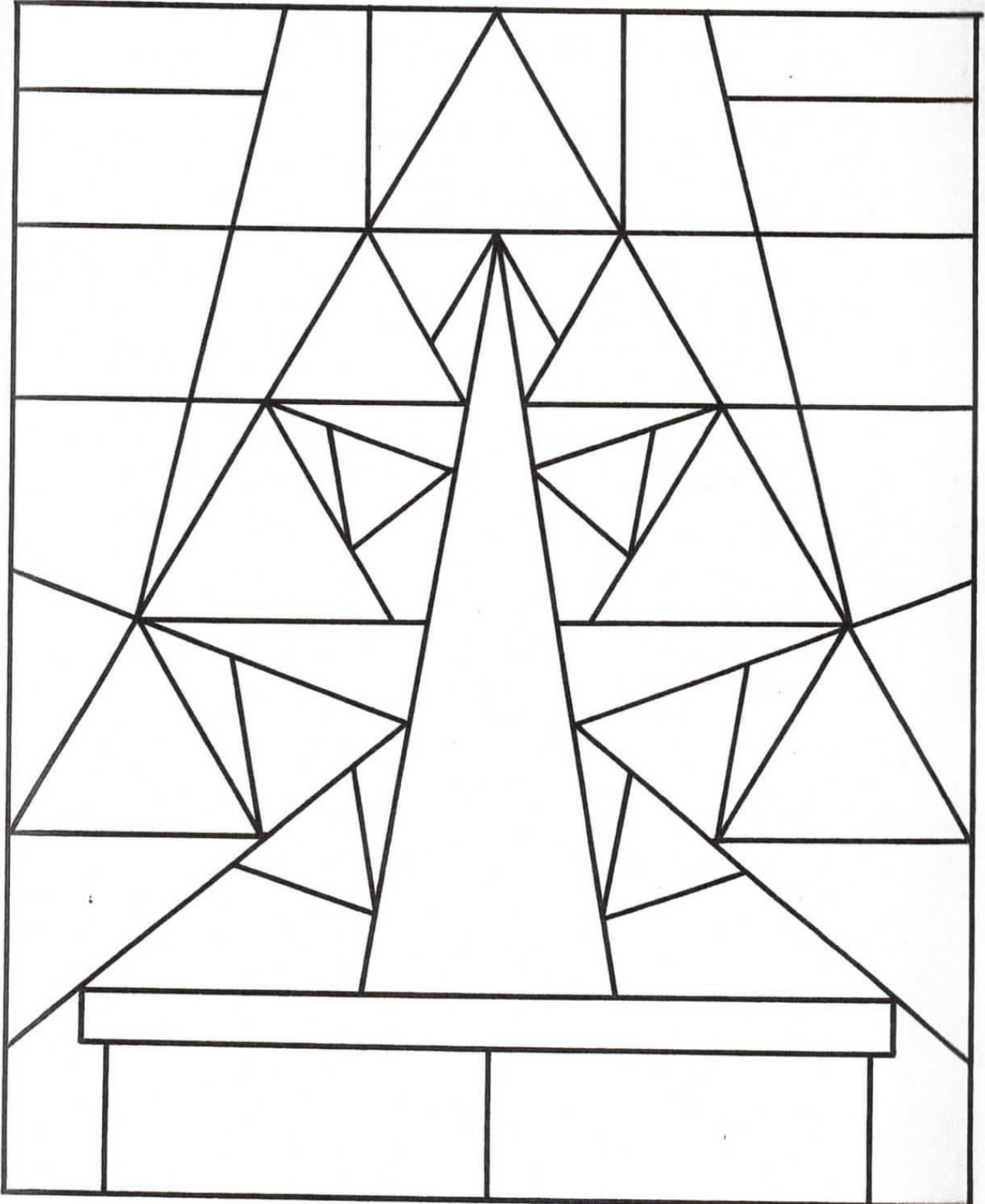
0	1	2	3	4	5	6	7	8	9
0	き	や	わ	う	ら	あ	よ	い	の
1	の	か	わ	う	ハ	ぐ	る	パ	コ
2	こ	ぎ	ウ	サ	ぬ	そ	に	イ	タ
3	が	さ	!	テ	ソ	ね	イ	シ	ツ
4	ら	な	ホ	カ	エ	っ	シ	へ	?
5	ん	む	ヤ	チ	は	す	れ	ち	ワ
6	ご	ケ	ア	ひ	も	し	ク	ト	フ
7	よ	ニ	ネ	げ	め	ふ	ヒ	セ	キ
8	り	ほ	ン	ま	ゆ	み	け	ノ	又
9	く	ぶ	ラ	つ	ゆ	け	ぱ	お	を

- ① $3.7+2.8$ ② $5.9+3.3$ ③ $2+3.6$ ④ $0.8+0.8$ ⑤ $2.7+4.3$
- ⑥ $4.3-0.7$ ⑦ $8.4-3.4$ ⑧ $9.3-1.5$ ⑨ $1.1-0.3$ ⑩ $5-2.7$

どんなかたちに
なるかな

名
前

- 二等辺三角形に ちゃ色, 長方形に 赤色, 正三角形に 緑色をぬりましょう。




何が入っているかな	名前	
-----------	----	--

● さゆりさんは、家から買い物ぶくろを持って、スーパーに買い物に行きました。家へ帰って、買い物ぶくろの重さをはかると、ちょうど6kgありました。さゆりさんは、スーパーで何を買ったのでしょうか。買った物の数は5こです。よく考えて、買った物に色をぬりましょう。



せんざい 650g



りんご 200g



お肉 800g



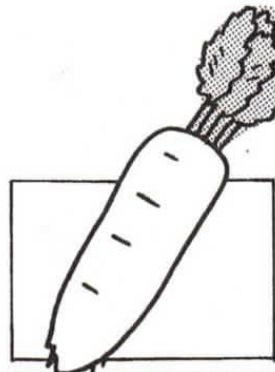
魚 400g



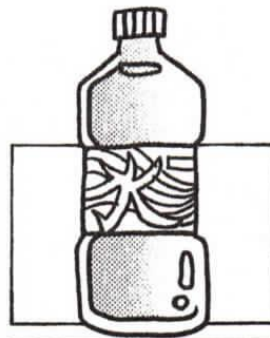
買い物ぶくろ 100g




お米 2kg



だいこん 900g



水 2kg



みかん 1kg500g

どんな魚を
つったかな
名前

● 5人で魚つりをしました。つった魚の重さをはかりました。だれがどんな魚をつったでしょう。つった魚に色をぬり、その魚の記号を()にかきましょう。

□ かなさんは2ひきで1kgになりました。青色でぬりましょう。


つった魚は、
() ()

図りょうまくんは2ひきで2kg600gになりました。赤色でぬりましょう。

つった魚は、
() ()

回 ゆかさんは2ひきで4kg100gになりました。水色でぬりましょう。

つった魚は、
() ()

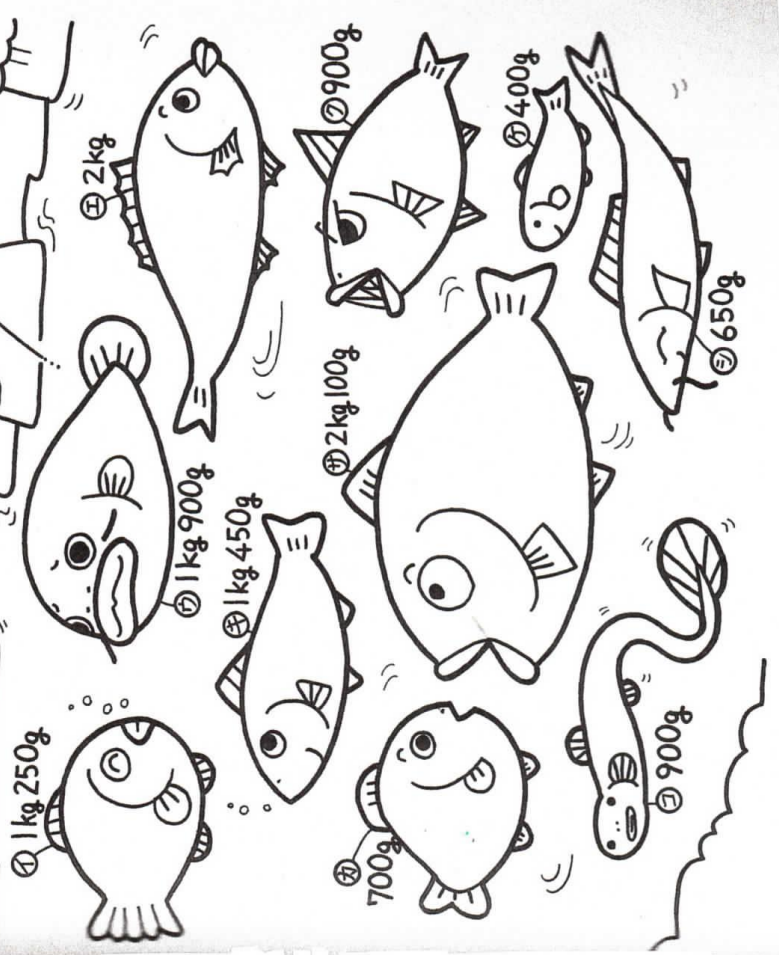


回 じゅんくんは3ひきで3kgつりました。黄色でぬりましょう。

つった魚は、
() ()

回 けんたくんは3ひきで2kg200gになりました。緑色でぬりましょう。

つった魚は、
() ()




名前

わり算

● とびらを あげる あんごうを さがしだせ!
 こたえの 十の位を たてに, 一の位を よこに みて, そこに かかれた ことばを ならべよう。

	0	1	2	3	4	5
1	く	だ	た	よ	や	い
2	き	う	め	な	う	ふ
3	お	い	し	る	す	む
4	き	ち	は	ひ	か	わ
5	ゆ	ま	を	れ	り	ら



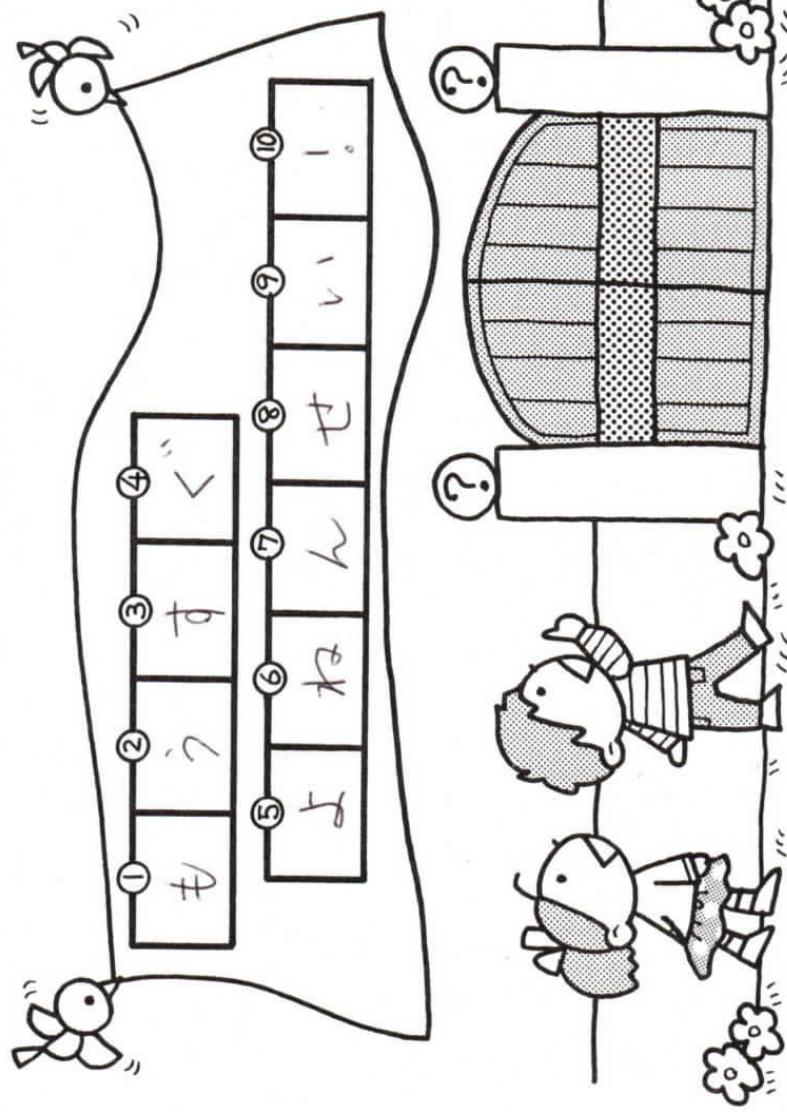
① $40 \div 2 = 20$ ② $50 \div 1 = 50$ ③ $63 \div 3 = 21$ ④ $96 \div 3 = 32$ ⑤ $39 \div 3 = 13$

⑥ $50 \div 5 = 10$ ⑦ $55 \div 5 = 11$ ⑧ $62 \div 2 = 31$ ⑨ $68 \div 2 = 34$ ⑩ $80 \div 2 = 40$

名前
**小数の
 たし算・ひき算**

● とびらを ひらく あんごうを さがしだせ！

下の たし算 ひき算の、一の位を たて、小数第一位の 位を よこにみて、あてはまる ことばを ならべよう。




0	1	2	3	4	5	6	7	8	9
き	や	か	わ	う	ら	あ	よ	い	の
の	や	が	う	サ	ハ	ぐ	る	ペ	コ
こ	な	が	！	て	ぬ	そ	に	た	タ
が	む	ら	ホ	カ	ソ	ね	イ	ス	ツ
ら	ケ	ん	ヤ	チ	エ	っ	シ	セ	？
ん	ぽ	ご	ア	ひ	は	す	へ	ち	ワ
ご	ニ	よ	ネ	げ	も	し	れ	ク	フ
よ	よ	オ	ン	ま	め	ふ	ク	セ	キ
り	ピ	パ	ラ	つ	ゆ	み	ヒ	ノ	ヌ
く	う	う	た	え	ゆ	け	ば	お	を

- ① $3.7 + 2.8 = 6.5$
- ② $5.9 + 3.3 = 9.2$
- ③ $2 + 3.6 = 5.6$
- ④ $0.8 + 0.8 = 1.6$
- ⑤ $2.7 + 4.3 = 7$
- ⑥ $4.3 - 0.7 = 3.6$
- ⑦ $8.4 - 3.4 = 5$
- ⑧ $9.3 - 1.5 = 7.8$
- ⑨ $1.1 - 0.3 = 0.8$
- ⑩ $5 - 2.7 = 2.3$

どんなかたちに
なるかな

名
前

- 二等辺三角形に ちゃ色, 長方形に 赤色, 正三角形に 緑色をぬりましょう。




何が入っているかな

名前

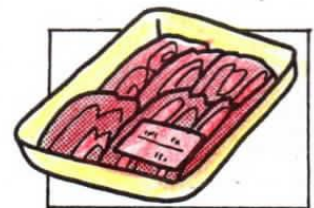
● さゆりさんは、家から買い物ぶくろを持って、スーパーに買い物に行きました。家へ帰って、買い物ぶくろの重さをはかると、ちょうど 6kg ありました。さゆりさんは、スーパーで 何を 買ったのでしょうか。買った物の 数は 5こです。よく 考えて、買った物に 色をぬりましょう。



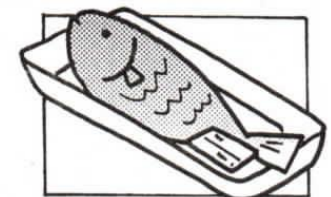
せんざい 650g



りんご 200g



お肉 800g




魚 400g



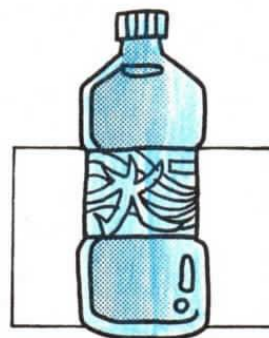
買い物ぶくろ 100g




お米 2kg



だいこん 900g



水 2kg



みかん 1kg500g

どんな魚を
つったかな
名前

● 5人で魚つりをしました。つった魚の重さをはかりました。だれがどんな魚をつったでしょう。つった魚に色をぬり、その魚の記号を()にかきましょう。

① かなさんは 2ひきで 1kg になりました。青色でぬりましょう。

つった魚は、
(オ)(シ)

② りょうまくんは 2ひきで 2kg 600g になりました。赤色でぬりましょう。

つった魚は、
(ウ)(カ)

③ ゆかさんは 2ひきで 4kg 100g になりました。水色でぬりましょう。

つった魚は、
(エ)(ヤ)

④ じゅんくんは 3ひきで 3kg になりました。黄色でぬりましょう。

つった魚は、
(ア)(イ)(キ)

⑤ けんくんは 3ひきで 2kg 200g になりました。緑色でぬりましょう。

つった魚は、
(ク)(ケ)(コ)

