

1年 5 (1)	しきに あらわそう	___ねん ___くみ なまえ	さいてん
----------------	-----------	--------------------	------

① あか 赤い花が はな 4本、ほん 白い花が しろ 3本あります。

花は、あわせて なん本 ありますか。



しき

$$4 + 3 = 7$$

こたえ

7ほん

② まるい き つみ木が 6こ、さんかくの き つみ木が 5こ
あります。つみ木は、ぜんぶで なんこ ありますか。



しき

$$6 + 5 = 11$$


こたえ

11こ

1年 5 (2)	しきに あらわそう	___ねん ___くみ なまえ	さいてん
----------------	-----------	--------------------	------

① あか赤い花が ほん9本、しろ白い花が 4本あります。

どちらが なん本 おおいでしょう。




しき

$$9 - 4 = 5$$

こたえ

赤い花が 5本 おおい。

② きまるいつみ木が 3こ、きさんかくのつみ木が 12こ
あります。どちらが なんこ おおいでしょう。



しき

$$12 - 3 = 9$$

こたえ

さんかくのつみ木が 9こ おおい。

<p>1年 5 (3)</p>	<p>しきに あらわそう</p>	<p>___ねん ___くみ なまえ</p>	<p>さいてん</p>
-------------------------	------------------	----------------------------	-------------


①あひるが 3わ いました。あとから 4わ やってきました。

あひるは ぜんぶで なんわに なりましたか。

【さいしょにいた あひる】



【あとからきた あひる】



しき

$$3 + 4 = 7$$

こたえ


$$7\text{わ}$$

②はるかさんは、おりがみを 6まい もっています。

おにいさんから 4まい もらいました。

おりがみは、ぜんぶで なんまいに なりましたか。

【もっていた おりがみ】



【もらった おりがみ】



しき

$$6 + 4 = 10$$

こたえ

$$10\text{まい}$$

<p>1年 5 (4)</p>	<p>しきに あらわそう</p>	<p>___ねん ___くみ なまえ</p>	<p>さいてん</p>
-------------------------	------------------	----------------------------	-------------

①いちごが 6こ ありました。2こ たべました。

のこりは なんこでしょう。



しき


$$6 - 2 = 4$$

こたえ

4こ

②りんごを 5こ かいました。みかんを りんごより 3こ

すくなく かいました。みかんは いくつ かったでしょう。



しき

$$5 - 3 = 2$$

こたえ

2こ

1年 5 (5)	しきに あらわそう	___ねん ___くみ なまえ	さいてん
----------------	-----------	--------------------	------

①まさどさんは ^{ほん}本を 6 さつ、のぞみさんは 本を 7 さつかりました。ふたりが かりた本は、ぜんぶで なんさつ でしょう。

しき

$$6 + 7 = 13$$

こたえ

13 さつ

②とまとが 10 こ あります。6人^{にん}が 1 こずつ たべると、なんこ のこりますか。

しき

$$10 - 6 = 4$$

こたえ

4 こ

☆わからないときは、おはなしを えで あらわしましょう。