


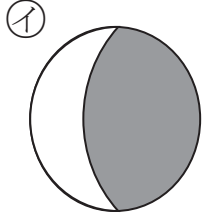
2年 2 (1)	分数	年 組 名前
-------------------------------------	-----------	-----------

① $\frac{1}{2}$ の大きさをえらびましょう。


ア



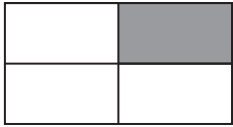
イ



ウ




エ

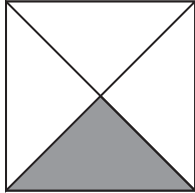


()


② 色をぬったところは、もとの大きさの何分の一ですか。



()



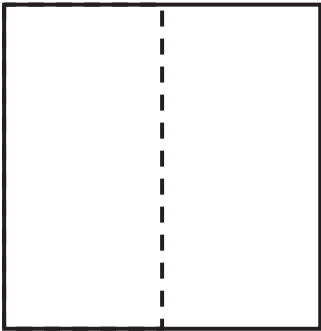
()



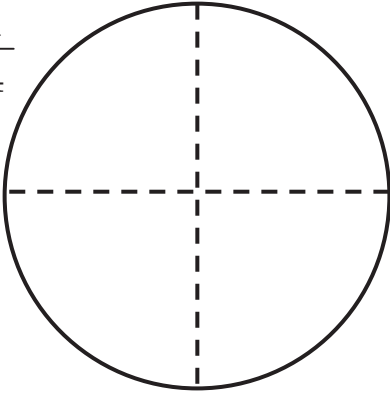
()

③ つぎの大きさに色をぬりましょう。

$\frac{1}{2}$



$\frac{1}{4}$



2年 2 (2)	分数	年 組 名前
-------------------------------------	-----------	-----------

① $\frac{1}{4}$ の大きさをえらびましょう。

ア

イ

ウ

エ

()

② 色をぬったところは、もとの大きさの何分の一ですか。

()

()

()

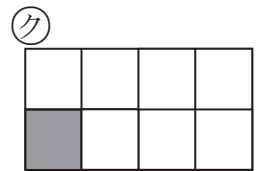
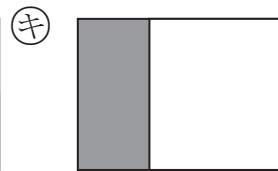
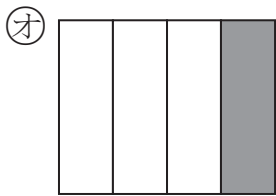
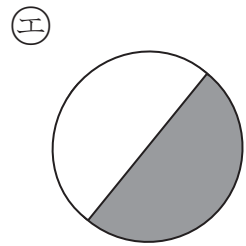
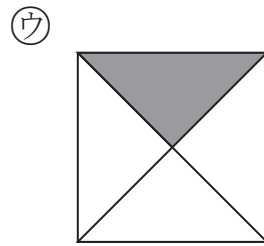
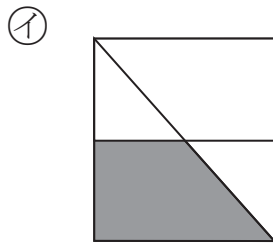
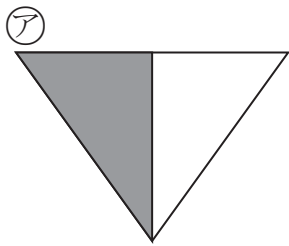
③ つぎの大きさに色をぬりましょう。

$\frac{1}{2}$

$\frac{1}{4}$

2年 2 (3)	分数	年 組 名前
-------------------------------------	----	-----------

① $\frac{1}{2}$ 、 $\frac{1}{4}$ 、 $\frac{1}{8}$ の大きさをぜんぶえらびましょう。




$\frac{1}{2}$ ()

$\frac{1}{4}$ ()

$\frac{1}{8}$ ()

② つぎの大きさに色をぬりましょう。

$\frac{1}{2}$



$\frac{1}{4}$

