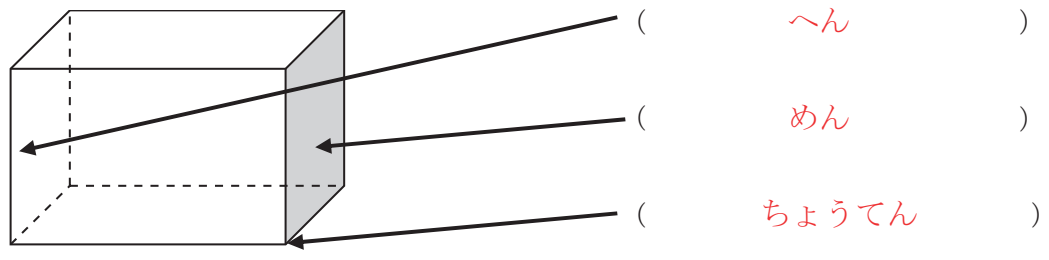


2年 10 (1)	はこの形	年 組 名前
------------------------	------	-----------

つぎのはこの矢じるしのぶ分の名前をかきましょう。



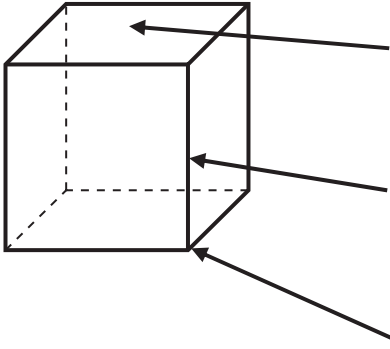
組み立てるとはこになるものをえらびましょう。

(あ) (い)

(う) (え)

2年 10 (2)	はこの形	年 組 名前
------------------------	------	-----------

つぎのはこはさいころの形をしています。
 () に当てはまる言葉や数を書きましょう。



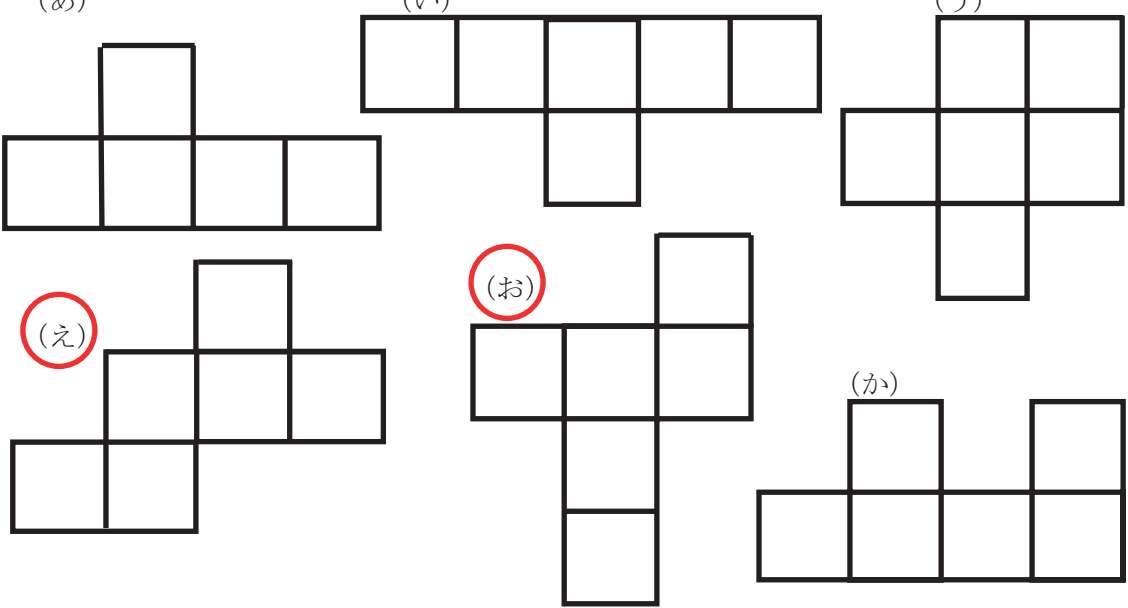
(めん) といい、
 同じかたちのものは (6) まいある。

(へん) といい、
 同じ長さのものは (12) 本ある。

(ちょうてん) といい、(8) こある。

組み立ててはこになるものをすべてえらびましょう。

(あ) (い) (う)



(え) (お) (か)

2年 10 (3)	はこの形	年 組 名前
--------------------------------------	------	-----------

たりない面をたして、はこをかんせいさせましょう。

れい

はこをかんせいさせるには、どの面がいくつひつようですか。

あ が 2つ
 え が 2つ
 お が 2つ