

3年 1 (1)	整数の表し方	____年 ____組 名前
-------------------------------------	---------------	-------------------

1読み方を書きましょう。

① 6 5 5 3 5
 六万五千五百三十五

② 9 6 1 8 1 3
 九十六万八千一百三

③ 2 2 0 4 7 8
 二十二万四千七百八

④ 5 8 7 4 2 1 1 5
 五千八百七十四万二千一百十五

2次の数を数字で書きましょう。

① 四万八千二十九
 4 8 0 2 9

② 三千二百九十九万二千八百六十三
 3 2 1 9 2 8 6 3

③ 六千七十四万八千六百六
 6 0 7 4 8 1 0 6

3当てはまる数を書きましょう。

① 7 2 4 9 8

1 0 0 0 0 が	7 こ
1 0 0 0 が	2 こ
1 0 0 が	4 こ
1 0 が	9 こ
1 が	8 こ

② 4 0 0 0 0 0

1 0 0 0 0 が	4 0 こ
-------------	-------

③ 6 2 1 0 0 0 0 0

1 0 0 0 0 が	6 2 1 0 こ
-------------	-----------

大きな数字を考えるときには、位取り表を思い出しましょう。

2 3 4 5 6 7 8 9 二千三百四十五万六千七百八十九

千 万 の 位	百 万 の 位	十 万 の 位	一 万 の 位	千 の 位	百 の 位	十 の 位	一 の 位
2	3	4	5	6	7	8	9

今までと同じように、10こあつまると1つ上の位に上がります。

3年 1 (2)	整数の表し方	____年 ____組 名前
-------------------------------------	---------------	-------------------

1 次の数を書きましょう。

① 10000を4こと1000を2こと100を9こと10を1こと1を6こ合わせた数
42916

② 10000を7こと100を4こと10を8こと1を5こ合わせた数
70485

③ 10000を53こあつめた数
530000

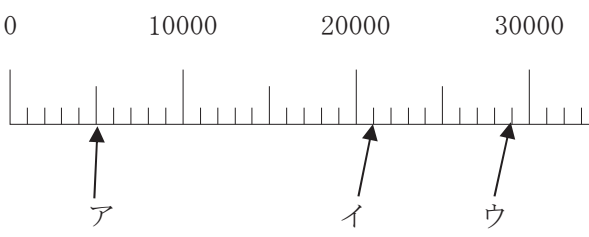
④ 1000を17こあつめた数
17000

⑤ 千万を5こと百万を2こと十万を9こと一万を6こと1208を合わせた数
52961208

⑥ 百万を7こと千を6こ合わせた数
7006000

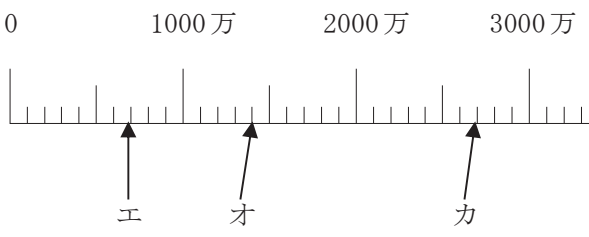
2 数直線のア～カのめもりが表す数を書きましょう。

①



ア 5000 イ 21000 ウ 29000

②



エ 700万 オ 1400万 カ 2700万

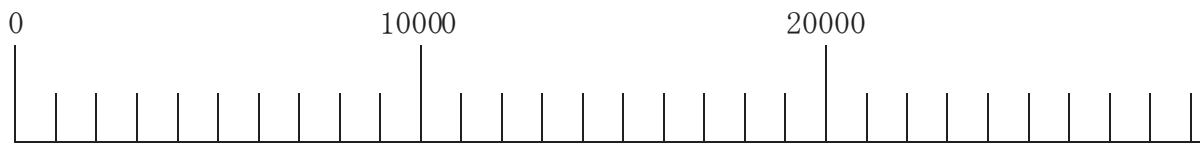
3 □に当てはまるふ等号を書きましょう。

① 64000 73000

② 40998 402294

③ 30827879 3994178

数直線の1めもりがいくつなのか、たしかめましょう。



1めもりが1000だと1000、2000、3000・・・9000、10000 ⇒数えられる ○

1めもりが100だと100、200、300・・・900、10000 ⇒おかしい ×

