

復習プリント① 10分間



Q1, 下図中①～④に当てはまる語句を答えなさい。

①

ユーラシア 大陸

②

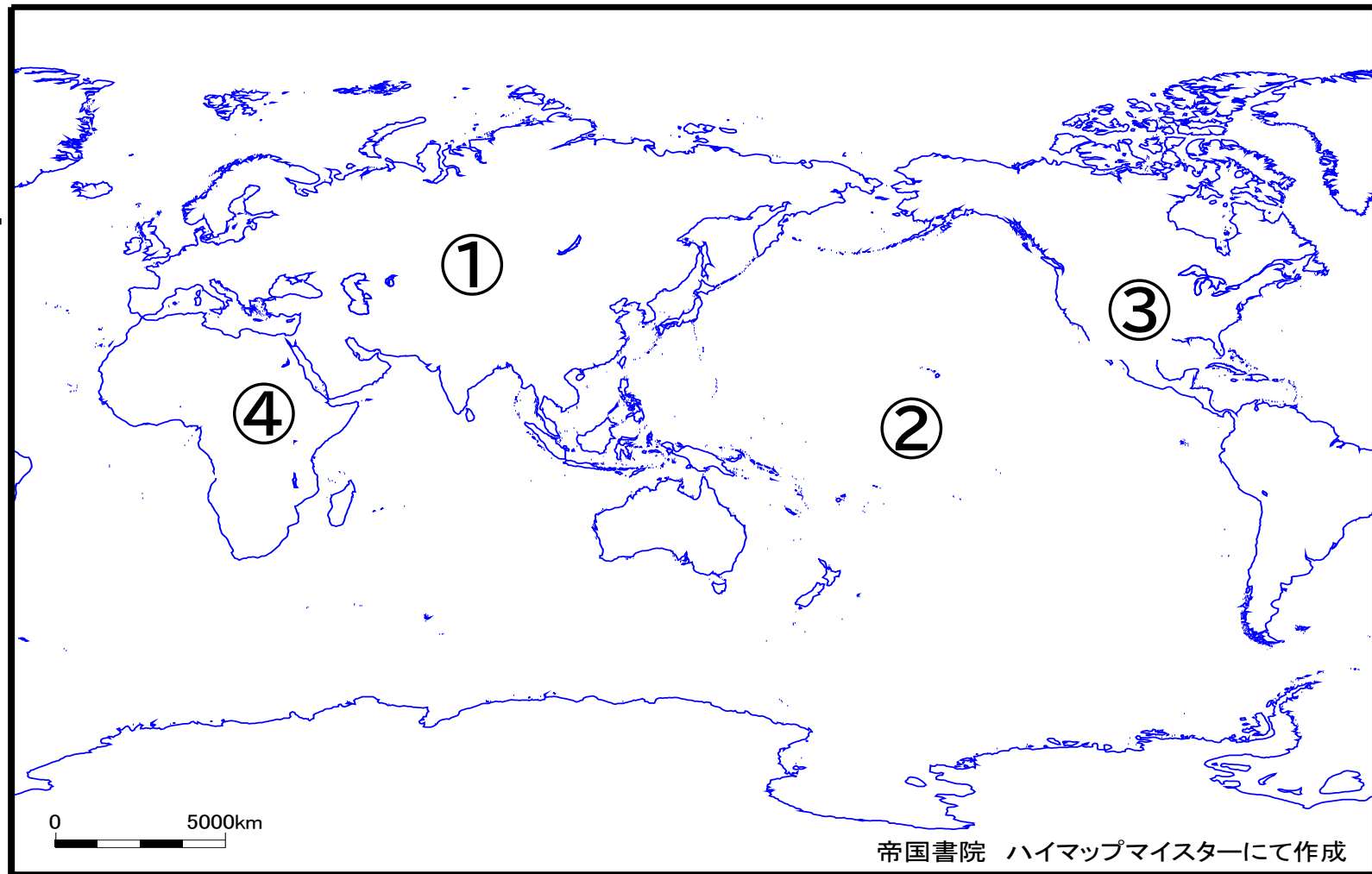
太平洋

③

北アメリカ 州

④


アフリカ 州



Q2, 以下の国旗をみて、国名を答えなさい。




国名 [アメリカ合衆国]



国名 [フランス]

Q2, 以下の国旗をみて、国名を答えなさい。



国名 [ネパール]



国名 [エクアドル]

Q3, 以下の資料を読み、ア～ウの中で正しいものを選び、記号で答えなさい。

	国名	首都	人口 (万人)	面積 (万km ²)	人口密度 (人/km ²)	主な宗教
アジア州	中国	ペキン	141,598	960	147	儒教、道教、仏教
	日本	東京	12,770	38	338	仏教、神道、キリスト教
北アメリカ州	アメリカ	ワシントンD.C.	32,312	983	33	キリスト教
ヨーロッパ州	フランス	パリ	6,706	64	105	キリスト教
アフリカ州	南アフリカ	プレトリア	5,652	122	46	キリスト教

- ア, キリスト教はヨーロッパ州でのみ
信仰されている。
- イ, 面積が最も大きい国家は
アジア州にある国家である。
- ウ, 人口が1億人を超えている州は
アジア州と北アメリカ州である。

解答欄

[ウ]

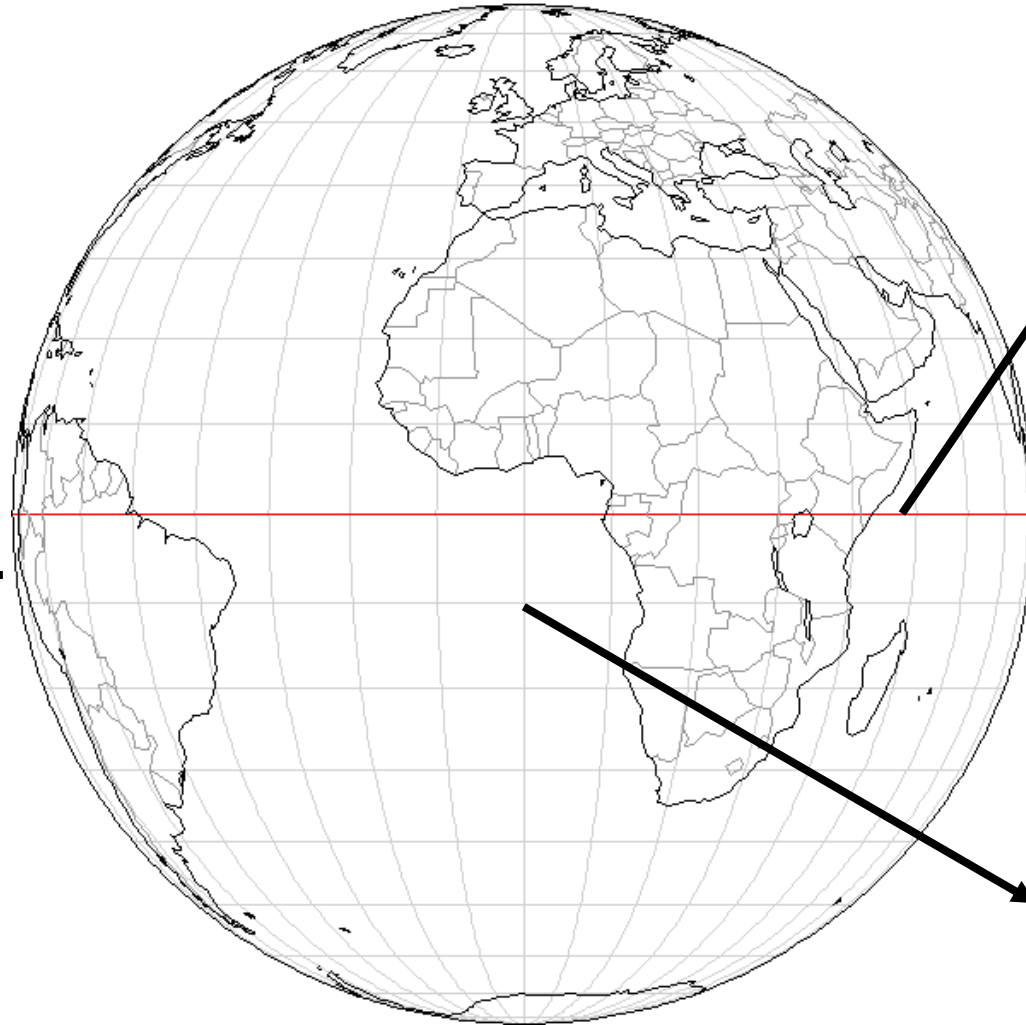
Q4. 以下の図の空欄に当てはまる語句を答えなさい。

[北緯]

: 緯度0度から
北極までの緯線

[南緯]

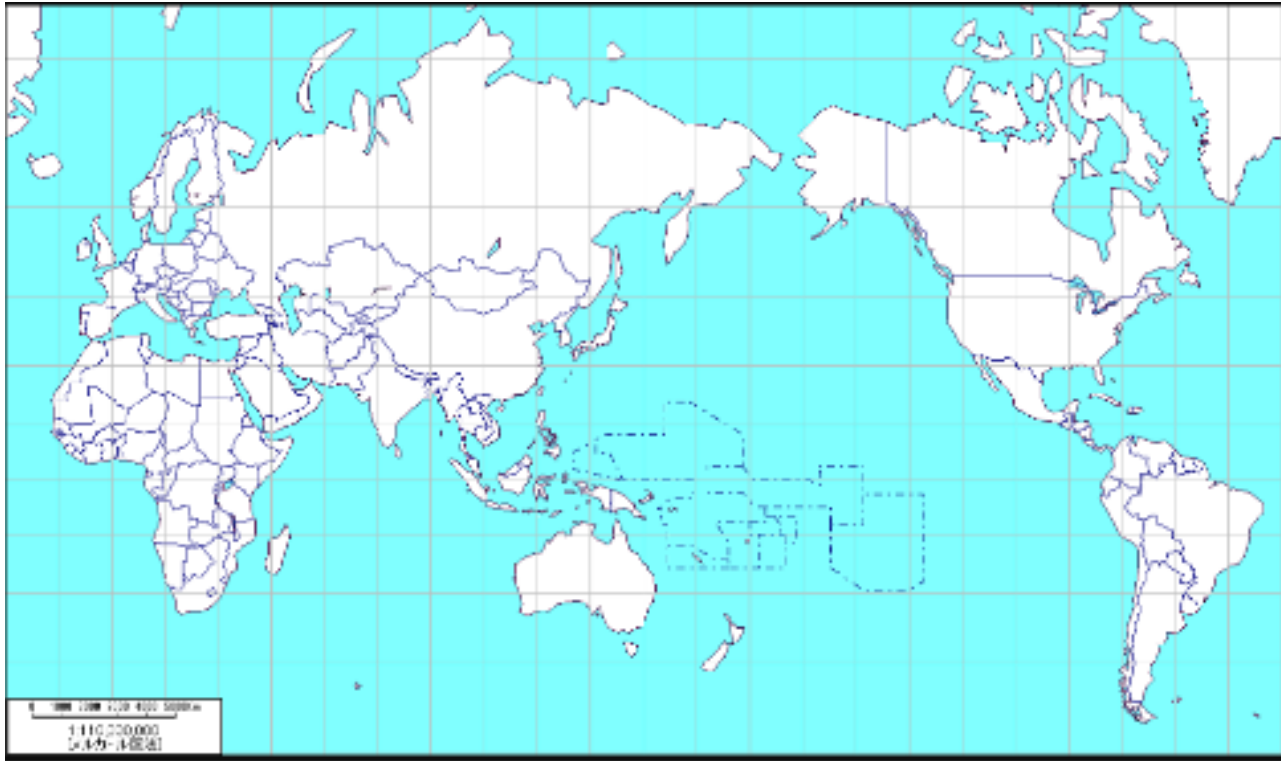
: 緯度0度から
南極までの緯線



[赤道] : 0度の緯線

[本初子午線]
: 0度の経線

Q5. 以下のそれぞれの地図の名称を答えなさい。
また、以下の地図の特徴に当てはまる説明を
ア～ウの記号で答えなさい。



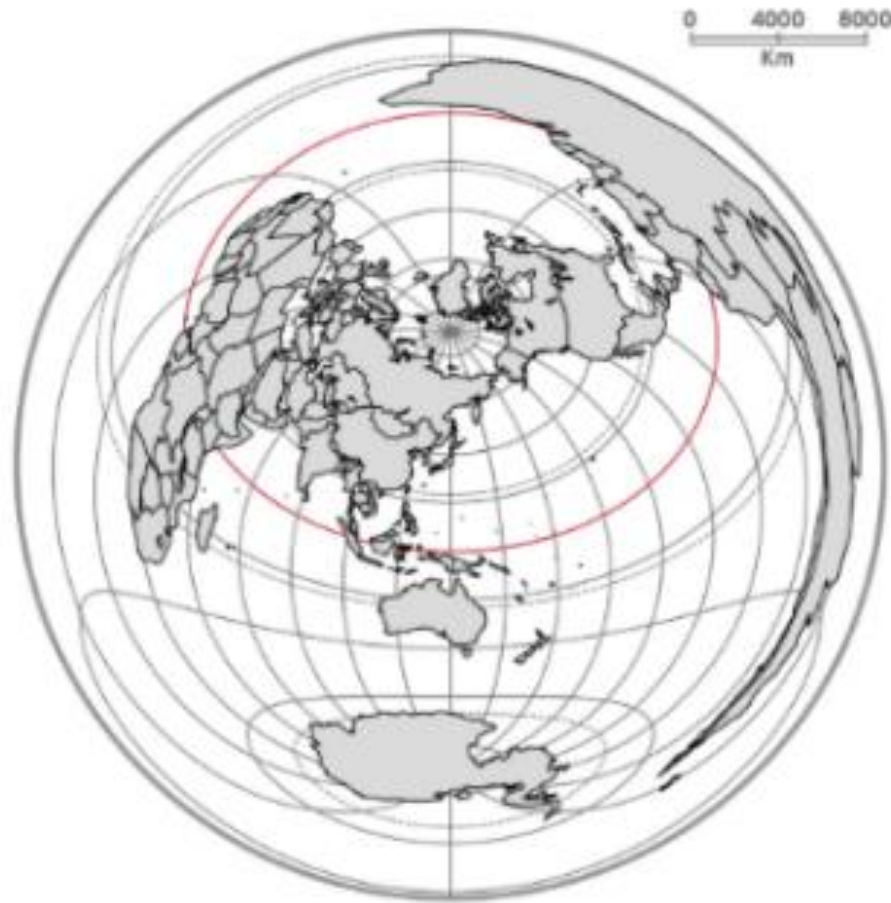
名称： [メルカトル図法]
特徴： [ア]

Q5. 以下のそれぞれの地図の名称を答えなさい。
また、以下の地図の特徴に当てはまる説明を
ア～ウの記号で答えなさい。



名称： [モルワイデ図法]
特徴： [ウ]

Q5. 以下のそれぞれの地図の名称を答えなさい。
また、以下の地図の特徴に当てはまる説明を
ア～ウの記号で答えなさい。



名称： [正距方位図法]
特徴： [イ]