

1	2	3	4	5	6	7	8	9	10	+	-
5/26		P19									
①	い	ろ	い	ろ	な	ひ	っ	さ	ん	に	と
り	く	も	う	。							

2

(1)		2	8	(2)				(3)			
	+	3	2								



これまでとおなじように、くらいをそろえて一のくらいからけいさんすればいいね。

△
2


①				②				③			
---	--	--	--	---	--	--	--	---	--	--	--





くり上がりの1をしっかりとかくようにしましょう。

④				⑤				⑥			
---	--	--	--	---	--	--	--	---	--	--	--

くらはたてにそろえてかきましょう。

1	2	3	4	5	6	7	8	9	10	+	-
⑦				⑧							
△ 3											
①				②				③			
	じょうぎをつかってひっさんのせんをひいているかな。										
④				⑤				⑥			
⑦				⑧							
△ 4					=						
				こ	た	え					

1	2	3	4	5	6	7	8	9	10	+	-
5/29		P20									
め	た	し	ざ	ん	の	き	ま	り	を	見	つ
け	よ	う	。								
あ	み	さ	ん								
	+		=			こ	た	え			
り	く	さ	ん								
			=			こ	た	え			
	あみさんとりくさんのしきをくらべてみましょう。どこがおなじでどこがちがうかな。										
2	人	の	し	き	の	お	な	じ	と	こ	ろ
と	ち	が	う	と	こ	ろ	。				
	おもいつかないときは、p20のはるとさんとしほさんのふきだしをさんこうにして、おなじところとちがうところをかきましょう。										

このスペースにかきます。

1	2	3	4	5	6	7	8	9	10	+	-
あ	み	さ	ん		17	+	24	=			
り	く	さ	ん		24	+	17	=			
					た		た				
					さ		す				
					れ		か				
					る		ず				
					か						
					ず						
	1	7				2	4				
+	2	4			+	1	7				
ま					か	ず	と			か	ず
を						け	い	さ	ん	し	て
も				は		に	な	る		。	

2つのしきの中で、**たすかず**と**たされるかず**をかこみます。

やじるしもノートに書きます

やじるしもノートに書きます


たすかずとたされるかずを、いれかえてけいさんすると、こたえは…

P21 をみて、まとめをかんせいさせましょう

ま
を
も

か
ず
と
け
い
さ
ん
し
て
は
に
な
る
。

1	2	3	4	5	6	7	8	9	1	+	-
算	数	か	い	と	う	P19					
2		①				1				1	
(1)		2	8	(2)		2	8	(3)			3
	+	3	2		+		6		+	8	7
		6	0			3	4			9	0
△											
		1				1				1	
①		2	4	②		3	1	③		6	7
	+	4	6		+	1	9		+	2	3
		7	0			5	0			9	0
		1				1				1	
④		3	5	⑤		1	3	⑥		4	8
	+	4	5		+	2	7		+	2	2
		8	0			4	0			7	0
		1				1					
⑦		3	6	⑧		7	2				
	+	2	4		+	1	8				
		6	0			9	0				

教科書 P21  ことえ

$43 + 21$

$26 + 30$

$78 + 13$

$18 + 55$

$7 + 59$

$55 + 18$

$30 + 26$

$59 + 7$

$12 + 34$

$21 + 43$

$13 + 78$

