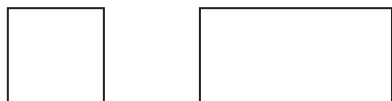


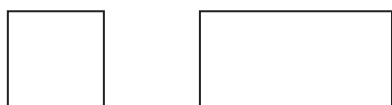
A1	2年 算数	年 組 番
		名前

- 1 つぎの数はいくつですか。
- ①10を46こあつめた数
- ②100を3こ、10を7こ、1を2こあわせた数
- ③100を80こあつめた数
- ④1000を10こあつめた数
- ⑤5000より400小さい数

- 2 つぎのmondaiに答えましょう。
- ① $\frac{1}{2}$ の大きさに色をぬりましょう。



- ② $\frac{1}{4}$ の大きさに色をぬりましょう。



- 3 計算をしましょう。

① $34 + 18$

② $68 + 51$

③ $23 + 89$

④ $8 + 94$

- 4 計算をしましょう。

① $47 - 39$

② $90 - 30$

③ $137 - 55$

④ $108 - 29$

- 5 計算をしましょう。

① 2×7 ② 3×4

③ 4×7 ④ 5×9

⑤ 6×3 ⑥ 7×8

⑦ 8×8 ⑧ 9×6

⑨ 8×3 ⑩ 9×2

- 6 あめ玉がいくつありますか。そのあめ玉に7こくわえたところ、ぜんぶで15こになりました。

①この場めんを図でかきましょう。

②はじめにあめ玉は何こありましたか。

A2	2年 算数	年 組 番 名前
-----------	--------------	-------------

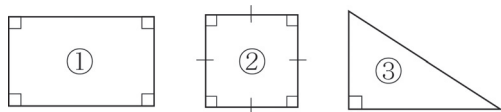
7 □に当てはまる数を書きましょう。

- ① 1 L = dL
- ② 1 L = mL
- ③ 1 cm = mm
- ④ 1 m = cm
- ⑤ 36 mm = cm mm
- ⑥ 2 m 9 cm = cm

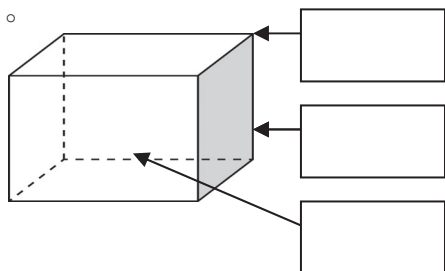
8 □に当てはまる数を書きましょう。

- ① 1 時間 = 分
- ② 1 日 = 時間
- ③ 1 時間 20 分 = 分
- ④ 110 分 = 時間 分

9 次の図形の名前をかきましょう。



10 □に当てはまることばをかきましょう。



11 すきなくだものをしらべました。ひょうやグラフにせいりしましょう。

リンゴ	リンゴ	ミカン	イチゴ	リンゴ	イチゴ
リンゴ	ミカン	メロン	リンゴ	リンゴ	イチゴ
イチゴ	リンゴ	メロン	モモ	イチゴ	リンゴ
モモ	メロン	ミカン	ミカン	イチゴ	ミカン

①ひょうにせいりしましょう。

しゅるい					
数(人)					

②下のグラフにせいりしましょう。
 すきなくだものしらべ
