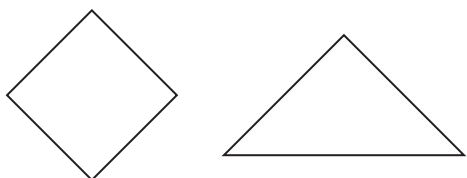


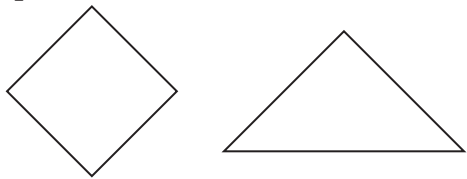
C1	2年 算数	年 組 番
		名前

- 1 つぎの数はいくつですか。
- ①10を67こあつめた数
- ②100を5こ、10を2こ、1を3こあわせた数
- ③100を10こあつめた数
- ④1000を10こあつめた数
- ⑤2000より100小さい数

- 2 つぎのもんだいに答えましょう。
- ① $\frac{1}{2}$ の大きさに色をぬりましょう。



- ② $\frac{1}{4}$ の大きさに色をぬりましょう。



- 3 計算をしましょう。
- ① $27 + 16$
- ② $95 + 31$
- ③ $47 + 58$
- ④ $92 + 9$

- 4 計算をしましょう。

① $58 - 29$

② $50 - 40$

③ $179 - 88$

④ $105 - 66$

- 5 計算をしましょう。

① 2×6 ② 3×5

③ 4×6 ④ 5×7

⑤ 6×6 ⑥ 7×3

⑦ 8×2 ⑧ 9×3

⑨ 9×7 ⑩ 8×6

- 6 こうえんに子どもが24人います。とちゅうで、何人かかえたので、15人になりました。

①この場めんを図でかきましょう。

②かえた子どもは何人でしょう。

C2	2年 算数	年 組 番 名前
-----------	--------------	-------------

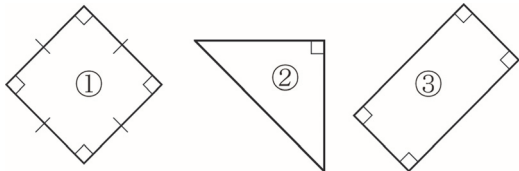
7 □に当てはまる数を書きましょう。

- ① 2L = dL
- ② 3L = mL
- ③ 4 cm = mm
- ④ 5 m = cm
- ⑤ 82mm = cm mm
- ⑥ 1 m 5 cm = cm

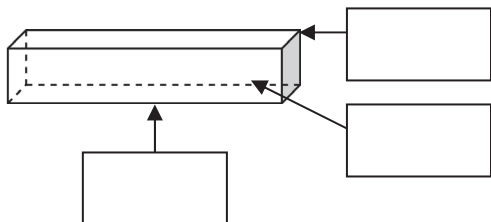
8 □に当てはまる数を書きましょう。

- ① 3時間 = 分
- ② 2日 = 時間
- ③ 1時間40分 = 分
- ④ 90分 = 時間 分

9 次の図形の名前をかきましょう。



10 □に当てはまることばをかきましょう。



11 すきなおかしをしらべました。ひょうやグラフにせいりしましょう。

あめ	ケーキ	ケーキ	ケーキ	ガム	ガム
あめ	あめ	ケーキ	ケーキ	ケーキ	ガム
あめ	あめ	あめ	ケーキ	あめ	にくまん
にくまん	ガム	ケーキ	ガム	ケーキ	だんご

①ひょうにせいりしましょう。

しゅるい					
数(人)					

②下のグラフにせいりしましょう。
すきなおかししらべ
