

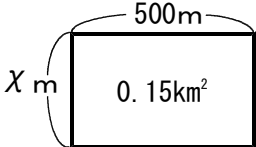
光っ子 さんすう ピカピカ プリント

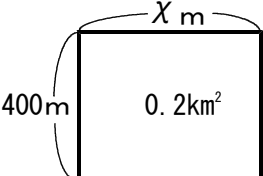
6年

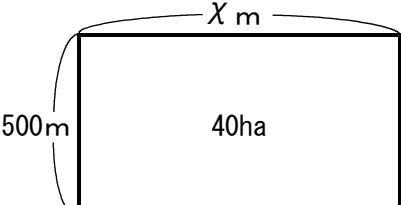
No.9

年 組

◆ χ を計算で求めましょう。

①  $\chi =$

②  $\chi =$

③  $\chi =$

④ $\chi \times 2.13 = 19.17$ $\chi =$

⑤ $\chi \times \frac{2}{3} = \frac{2}{13}$ $\chi =$

⑥ $\chi \times 1\frac{1}{3} = 1\frac{2}{3}$ $\chi =$

⑦ $1.36 \times \chi = 6.12$ $\chi =$

⑧ $\frac{5}{2} \times \chi = 1\frac{3}{4}$ $\chi =$

⑨ $3\frac{1}{5} \times \chi = 1\frac{1}{3}$ $\chi =$

⑩ $\chi \div 0.25 = 0.14$ $\chi =$

このプリントは、いつ、どこで学習しましたか？			年 月 日 ()	
1. 授 業	2. 習熟の時間	3. 宿 題	4. 自主学习	5. ひ ろ ば