

光っ子 さんすう ピカピカ プリント

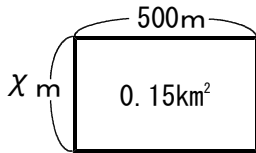
6年

No.9

年 組

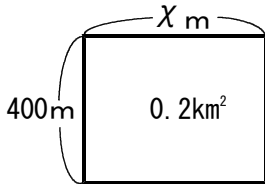
◆ χ を計算で求めましょう。

①



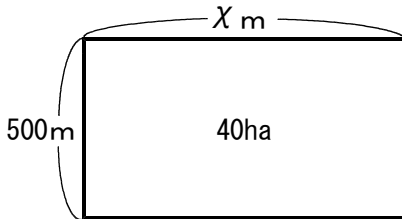
$$\chi = 150000 \div 500 = 300 \text{ m}$$

②



$$\chi = 200000 \div 400 = 500 \text{ m}$$

③



$$\chi = 400000 \div 500 = 800 \text{ m}$$

④

$$\chi \times 2.13 = 19.17$$

$$\chi = 19.17 \div 2.13 = 9$$

⑤

$$\chi \times \frac{2}{3} = \frac{2}{13}$$

$$\chi = \frac{2}{13} \div \frac{2}{3} = \frac{3}{13}$$

⑥

$$\chi \times 1\frac{1}{3} = 1\frac{2}{3}$$

$$\chi = \frac{5}{3} \div \frac{4}{3} = \frac{5}{4}$$

⑦

$$1.36 \times \chi = 6.12$$

$$\chi = 6.12 \div 1.36 = 4.5$$

⑧

$$\frac{5}{2} \times \chi = 1\frac{3}{4}$$

$$\chi = \frac{7}{4} \div \frac{5}{2} = \frac{7}{10}$$

⑨

$$3\frac{1}{5} \times \chi = 1\frac{1}{3}$$

$$\chi = \frac{4}{3} \div \frac{16}{5} = \frac{5}{12}$$

⑩

$$\chi \div 0.25 = 0.14$$

$$\chi = 0.14 \times 0.25 = 0.035$$

このプリントは、いつ、どこで学習しましたか？			年 月 日 ()	
1. 授 業	2. 習熟の時間	3. 宿 題	4. 自主学習	5. ひろば