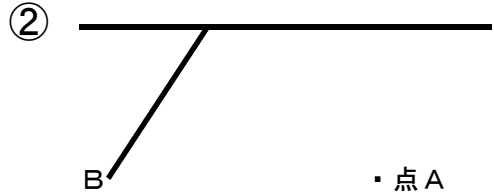


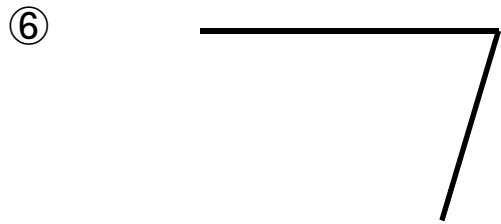
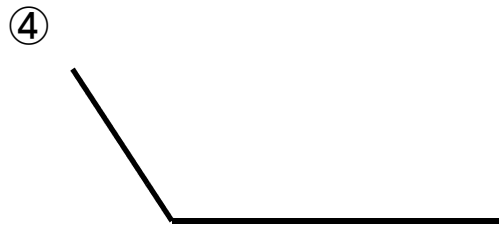
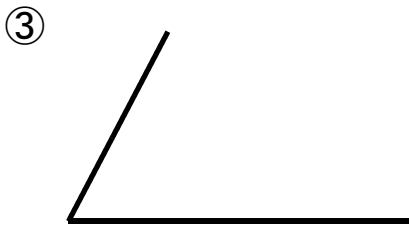
光っ子 さんすう ピカピカ プリント

4年	No. 1 2	年 組
----	---------	-----

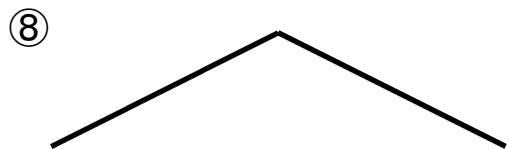
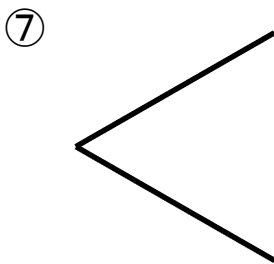
◆ ふたつの三角じょうぎを使って、点Aを通り直線Bと平行な線をかきましょう。



◆ コンパスを使って、平行四辺形をかきあげましょう。



◆ コンパスを使って、ひし形をかきあげましょう。



このプリントは、いつ、どこで学習しましたか？			年 月 日 ()	
1. 授 業	2. 習熟の時間	3. 宿 題	4. 自主学习	5. ひ ろ ば