

光っ子 さんすう ピカピカ プリント

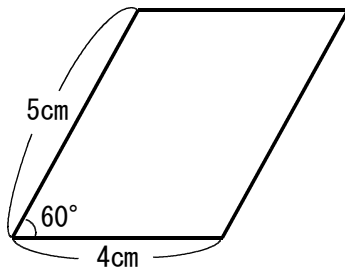
4年

No. 13

年 組

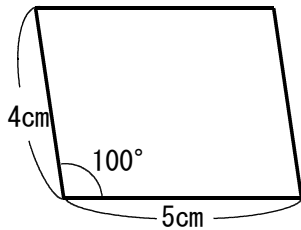
◆ 下の図のような平行四辺形をかきましょう。

①



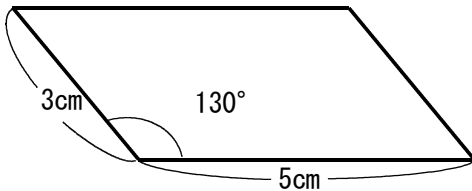
図略

②



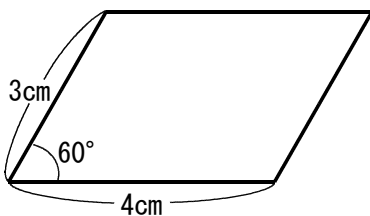
図略

③



図略

④



図略

このプリントは、いつ、どこで学習しましたか？				年 月 日 ()	
1. 授 業	2. 習熟の時間	3. 宿 題	4. 自主学習	5. ひ ろ ば	