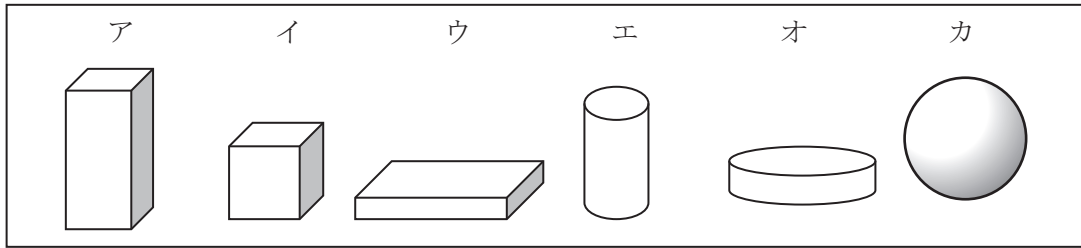


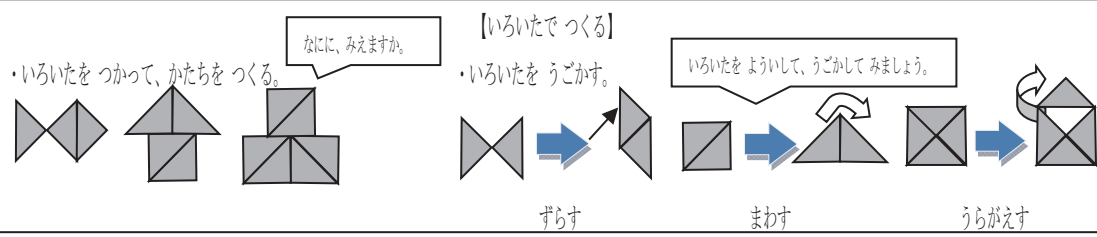
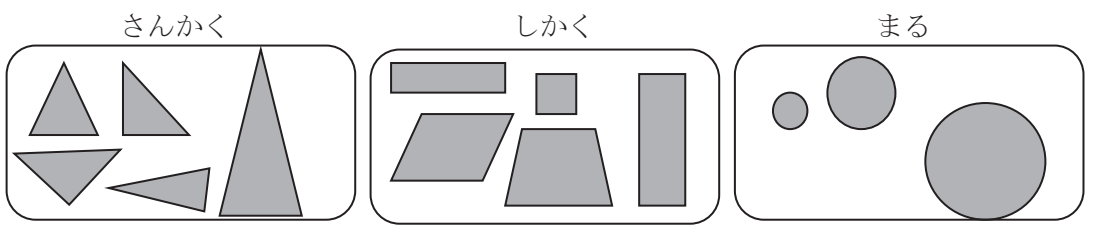
1年 8 解説	かたち	___年 ___組
		名前

はこや つつ、ボールの かたちを しらべる



<p><b>【つみあげる】</b></p> <ul style="list-style-type: none"> <li>・アとイとウは、かさねてつみあげられる。</li> <li>・エとオは、おさかたによってつみあげられたり、つみあげられなかったりする。</li> <li>・カは、つみあげられない。</li> </ul>	<p><b>【ころがす】</b></p> <ul style="list-style-type: none"> <li>・アとイとウは、ころがらない。</li> <li>・エとオは、おさかたによってころがったり、ころがらなかったりする。</li> <li>・カは、ころがる。</li> </ul>	<p><b>【さわる】</b></p> <ul style="list-style-type: none"> <li>・アとイとウは、たいらなところと、とがったところがある。</li> <li>・エとオは、たいらなところがある。</li> <li>・カは、たいらなところやとがったところがない。</li> </ul>	<p><b>【上やよこから見る】</b></p> <ul style="list-style-type: none"> <li>・アとイとウは、上から見ても、よこから見てもしかくい。</li> <li>・エとオは、上から見るとまるくて、よこから見るとしかくい。</li> <li>・カは、上から見ても、よこから見てもまるい。</li> </ul>
--	--	--	---

かたちをつくる



**【かぞえぼうで つくる】**

かぞえぼうを つかって、かたちをつくる。

かぞえぼうを よういして、うごかして みましょう。

**【せんを かいて、かたちをつくる】**

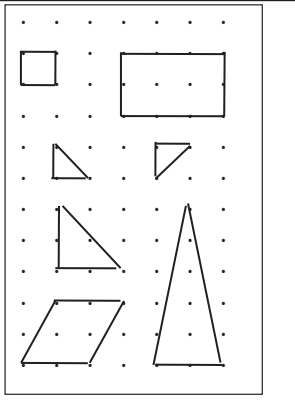
まっすぐな せんをかいて、かたちをつくる。

ましかく、よこにながいきかく、かたむいたしかく

たてにながいきさんかく、むきがちがうさんかく、...



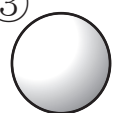
大きさを かたち、むきがちがう

いろいろな かたちをつくらせよう。


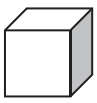
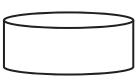


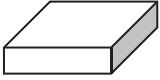


1年 <b>8</b> (1)	かたち	____ねん ____くみ なまえ
-----------------------	-----	----------------------


①②③のかたちに、にているかたちを、あつめましょう。


①  ②  ③ 


( ) ( ) ( )


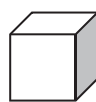



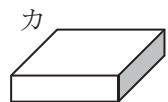
ア 	イ 	ウ 
エ 	オ 	カ 

どのかたちを つかいますか。



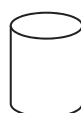
① ロボットの足  ( )

② 車のタイヤ  ( )

③ タワー (たてももの) の下のぶぶん  ( )

ア 	イ 	ウ 
エ 	オ 	カ 

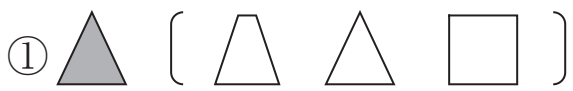
わたしはだれでしょう。

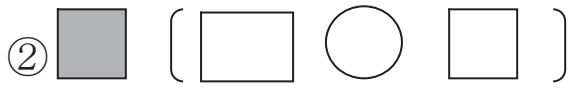
ア  イ  ウ 

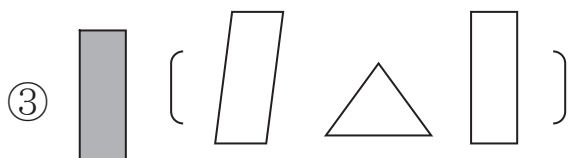
- ① 「上から見ても、よこから見ても、しかくいです。」 ( )
- ② 「上から見るとまるくて、よこから見るとしかくいです。」 ( )
- ③ 「上から見ても、よこから見てもまるいです。」 ( )

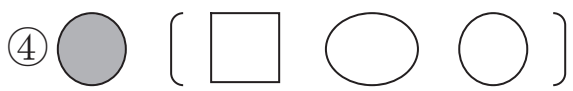
1年 <b>8</b> (2)	かたち	___ねん ___くみ なまえ
-----------------------	-----	--------------------

おなじ かたち、いろをぬりましょう。

① 

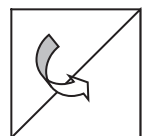
② 

③ 

④ 

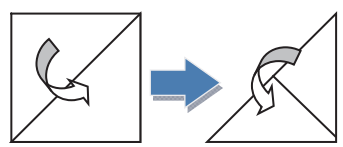
しかくい おりがみを、つぎのように、1かい おります。さんかくは いくつ できますか。

1かいおる

 ( )

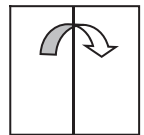
しかくい おりがみを、つぎのように 2かい おります。さんかくは いくつ できますか。

2かいおる

 ( )

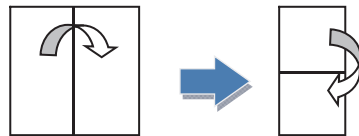
しかくい おりがみを、つぎのように 1かい おります。しかくは いくつ できますか。

1かいおる

 ( )


しかくい おりがみを、つぎのように 2かい おります。しかくは いくつ できますか。


2かいおる


 ( )


1年 <b>8</b> (3)	かたち	____ ねん ____ ぐみ なまえ
-----------------------	-----	------------------------





なに <sup>み</sup>に見えますか。

①  ( )


②  ( )



③  ( )



 このかたちは、どのかたちと  
 どのかたちで できますか。

ア  イ  ウ  エ 


( ) と ( )


 このかたちから、さんかくの  
 いたを 1まい うごかして でき  
 るかたちは、どれと どれでしょう。  
 また、2まい うごかして できるか  
 たちは、どれと どれでしょう。


ア  イ 

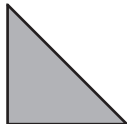
ウ  エ 

1まいうごかす ( ) と ( )  
 2まいうごかす ( ) と ( )

つぎのかたちは、 このさんかくのいたが、なんまいで できるでしょう。

ア  ( ) まい

イ  ( ) まい




ウ  ( ) まい




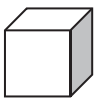
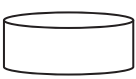

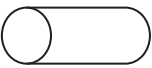
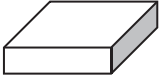


1年 <b>8</b> (1)	かたち	____ねん ____くみ なまえ
-----------------------	-----	----------------------

①②③のかたちに、にているかたちを、あつめましょう。

①  ②  ③ 

アイ カ	ウ オ	エ
---------	--------	---


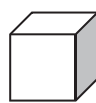



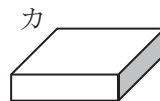
ア 	イ 	ウ 
エ 	オ 	カ 

どのかたちを つかいますか。

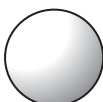

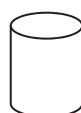
① ロボットの足 <sup>あし</sup>  
 (アかイかオ)

② 車 <sup>くるま</sup> のタイヤ  
 ( オ )

③ タワー (たてももの) の下 <sup>した</sup> の  
 ぶぶん  
 ( ウかカ )

ア 	イ 	ウ 
エ 	オ 	カ 





わたしはだれでしょう。





ア  イ  ウ 



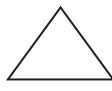

- ① 「上 <sup>うへ</sup> から見ても、よこ <sup>み</sup> から見ても、しかくいです。」 ( イ )
- ② 「上 <sup>うへ</sup> から見るとまるくて、よこ <sup>み</sup> から見るとしかくいです。」 ( ウ )
- ③ 「上 <sup>うへ</sup> から見ても、よこ <sup>み</sup> から見てもまるいです。」 ( ア )



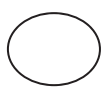

1年 <b>8</b> (2)	かたち	___ねん ___くみ なまえ
-----------------------	-----	--------------------

おなじ かたち、いろをぬりましょう。

①  (    )

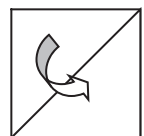
②  (    )

③  (    )

④  (    )

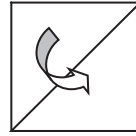
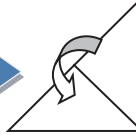
しかくい おりがみを、つぎのように、1かい おります。さんかくは いくつ できますか。

1かいおる

 ( 2つ )

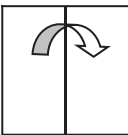
しかくい おりがみを、つぎのように 2かい おります。さんかくは いくつ できますか。

2かいおる

 →  ( 4つ )

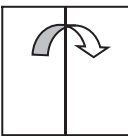

しかくい おりがみを、つぎのように 1かい おります。しかくは いくつ できますか。

1かいおる

 ( 2つ )

しかくい おりがみを、つぎのように 2かい おります。しかくは いくつ できますか。


2かいおる


 →  ( 4つ )





1年 <b>8</b> (3)	かたち	____ ねん ____ ぐみ なまえ
-----------------------	-----	------------------------





なに <sup>み</sup>に見えますか。

①  ( さかななど )


②  ( いえなど )



③  ( はななど )



 このかたちは、どのかたちと  
 どのかたちで できますか。

ア  イ  ウ  エ 


( イ ) と ( ウ )


 このかたちから、さんかくの  
 いたを 1まい うごかして でき  
 るかたちは、どれと どれでしょう。  
 また、2まい うごかして できるか  
 たちは、どれと どれでしょう。


ア  イ 

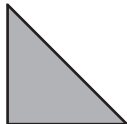
ウ  エ 

1まいうごかす ( イ ) と ( エ )  
 2まいうごかす ( ア ) と ( ウ )

つぎのかたちは、 このさんかくのいたが、なんまいで できるでしょう。

ア  ( 2 まい )

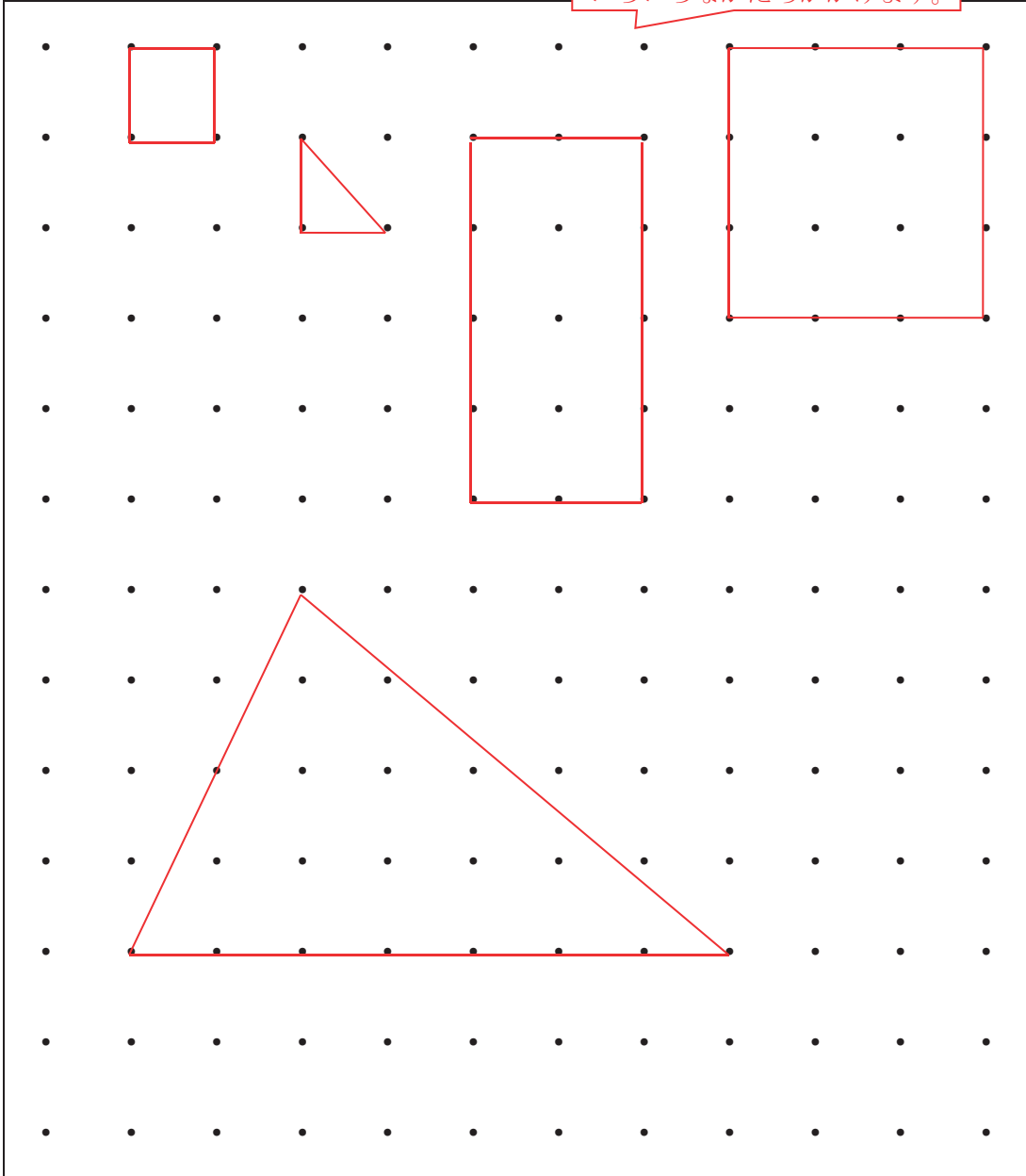
イ  ( 4 まい )

ウ  ( 4 まい )

1年 <b>8</b> (4)	かたち	___ねん ___くみ なまえ
-----------------------	-----	--------------------

・と・を、まっすぐな せんで つないで、いろいろな  
かたちを かきましょう。

ほかにも  
いろいろなかたちがかけます。



1年 8 (5)	かたち	___ねん ___くみ なまえ
----------------	-----	--------------------

・と・を、まっすぐな せんで つないで、つぎの かたち  
をおもいうかべて かきましょう。

- ①おにぎり ②はこ ③いえ ④さかな ⑤ふね

