





1年 6① 解説	くらべかた	____ ねん ____ ぐみ なまえ
-----------------------	-------	------------------------

ながさの くらべかた

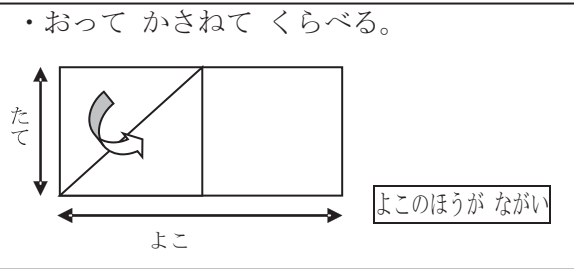
・はしを そろえる。

ア  イ 

ア  イ 



イのほうながい



・おって かさねて くらべる。



よこのほうながい

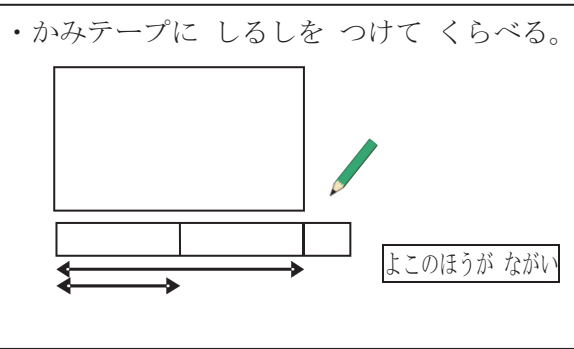
・まっすぐ のばして、はしを そろえる。

ウ  エ 

ウ  エ 



エのほうながい

・かみテープに しるしをつけて くらべる。





よこのほうながい

おなじものが いくつぶんあるかでくらべる。

たて  よこ 

たてはえんぴつ^{ほん}2本ぶん
よこはえんぴつ5本ぶん

よこのほうながい

オ  カ 

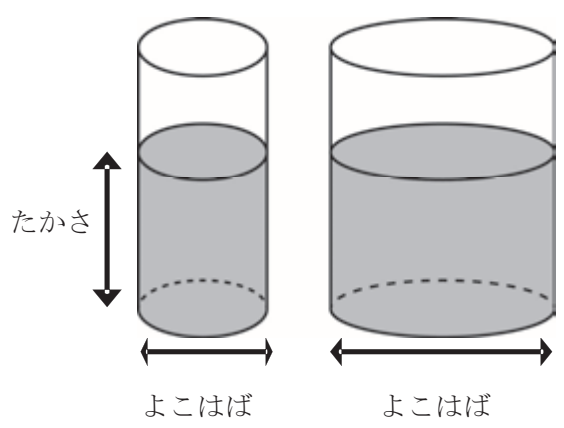
カのほうながい

ますめの かずでも、
ながさを くらべる こと が でき ます。

1年 62 解説	くらべかた	___ねん ___くみ なまえ
----------------	-------	--------------------

かさのくらべかた

・たかさは おなじでも よこはばが ^{おお}大きいほうが、



おおく ^{はい}入っている。

^{みぎ}右のほうがおおい

おなじいれものに ^い入れて なんはいぶんかで くらべる。



5はいぶん



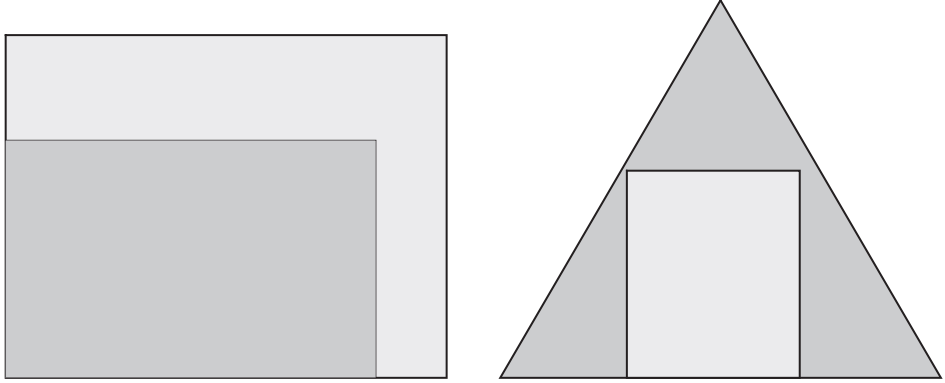
4はいぶん

^{うへ}上
上
の
入
れ
も
の
の
ほ
う
が
お
お
い

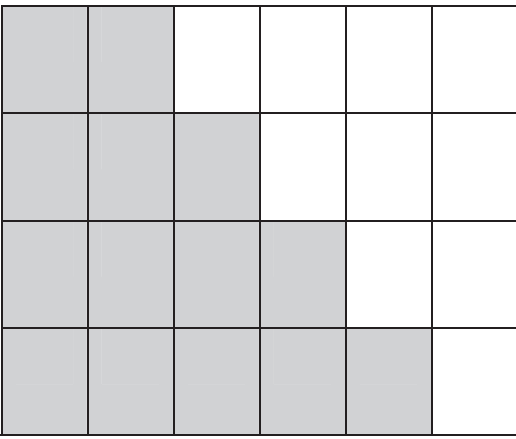
1年 63 解説	くらべかた	___ねん ___くみ なまえ
-----------------------	-------	--------------------

ひろさの くらべかた

- ・かさねて くらべる。



- ・おなじひろさのものが いくつぶんかで くらべる。




くろは、ますめが
14ますぶん


しろは、ますめが
10ますぶん


くろいほうひろい


1年 6 (1)	くらべかた	___ねん ___くみ なまえ
----------------	-------	--------------------



どちらが、ながいでしょう。


ア  ()


イ  ()


ウ  ()


エ  ()

オ カ
  ()

ア 

イ 

ウ 


エ 


①いちばん ながいのは、
どれでしょう。 ()

②いちばん みじかいのは、
どれでしょう。 ()

③ながさが おなじなのは、
どれと どれでしょう。
() と ()

どちらがながいでしょう。

ア 

イ  ()

1年 6 (2)	くらべかた	____ねん ____くみ なまえ
-----------------------	-------	----------------------

たてと よこは、えんぴつ なん
ほん
 本ぶんの ながさでしょう。

たて えんぴつ () 本ぶん
 よこ えんぴつ () 本ぶん

つぎの えんぴつは、ますめ
 なんますぶんの ながさでしょう。

		イ					
		↑	→				ウ
	ア	↑					
	↑		→				エ

ア ますめ () ますぶん
 イ ますめ () ますぶん
 ウ ますめ () ますぶん
 エ ますめ () ますぶん

いちばん ながい えんぴつは ()

だいすけくんが 知っていることは、^{ただ}正しい でしょうか。 それとも、まちがっている でしょうか。

ノート

だいすけくん

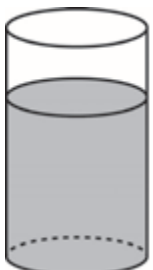
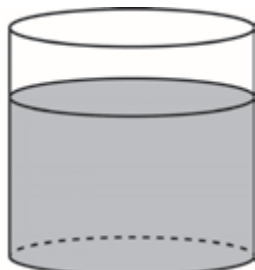
ノートのたては、えんぴつ4こぶん。ノートのよこは、けしごむ4こぶん。だから、たてと よこは、おなじながさだ。

だいすけくんの かんがえは、(正しい。 ・ まちがっている。)

1年 6 (3)	くらべかた	____ねん ____くみ なまえ
-----------------------	-------	----------------------

かさが おおいのは、
どちらでしょう。


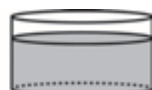
ア イ

()

ウ


エ





()

つぎの ^い入れものにはいる
^{みず}水のかさは、コップ なんはい
ぶんでしょう。


ア






コップ () はいぶん

イ







コップ () はいぶん

イのほうが、アよりも () はい おおい。

つぎの ^{はい}入れものに 入る 水のかさは コップ なんはいぶんでしょう。








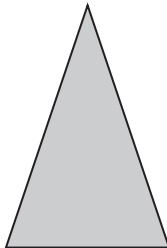
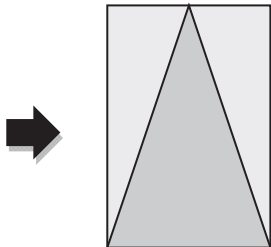
コップ () はいぶん


1年 6 (4)	くらべかた	____ねん ____くみ なまえ
-----------------------	-------	----------------------

ひろいのは、どちらでしょう。

ア  

イ  () が ひろい。



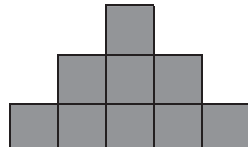
ウ  

エ  () が ひろい。

しろ ^{しろ} 白いぶぶんと くろいぶぶん
 は どちらが ひろいでしょう。

() ()

どれが いちばん ひろいでしょう。

ア  イ  ウ  ()

1年 6 (5)	くらべかた	____ねん ____くみ なまえ
-----------------------	-------	----------------------

ながいじゆんに、こたえましょう。

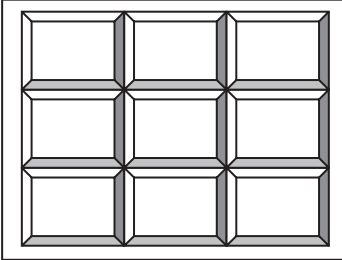
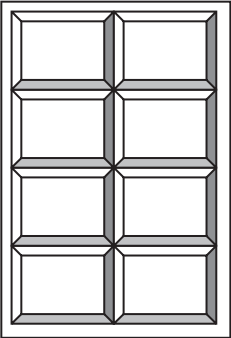
		イ							
		ウ							
ア									

() → () → ()

いちばん たくさん ものが ^{はい} 入る ^い 入れものは、どれですか。

ア 	イ 	ウ 
		
		()

どちらの けいじばんが ひろい ですか。

ア 	イ 
	()

1年
6
(1)

くらべかた

___ねん ___くみ
なまえ

どちらが、ながいでしょう。




(イ)



(ウ)

オ カ



(カ)



①いちばん ながいのは、
どれでしょう。 (エ)

②いちばん みじかいのは、
どれでしょう。 (イ)

③ながさが おなじなのは、
どれと どれでしょう。
(ア) と (ウ)

どちらがながいでしょう。



1年 6 (2)	くらべかた	___ねん ___くみ なまえ
-----------------------	-------	--------------------

たてと よこは、えんぴつ なん
ほん
 本ぶんの ながさでしょう。

たて
 て

よこ

たて えんぴつ (4) 本ぶん
 よこ えんぴつ (5) 本ぶん

つぎの えんぴつは、ますめ
 なんますぶんの ながさでしょう。

		イ						
		↑	→					ウ
	ア	↑						
	↑		→					エ

ア ますめ (2) ますぶん
 イ ますめ (4) ますぶん
 ウ ますめ (5) ますぶん
 エ ますめ (3) ますぶん

いちばん ながい えんぴつは (ウ)

だいすけくんが 知っていることは、^{ただ}正しい でしょうか。 それとも、まちがっている でしょうか。

ノート

だいすけくん

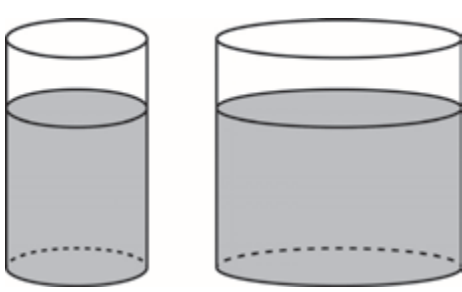
ノートのたては、えんぴつ4こぶん。ノートのよこは、けしむ4こぶん。だから、たてと よこは、おなじながさだ。

だいすけくんの かんがえは、(正しい。 ・ まちがっている。)

1年 6 (3)	くらべかた	___ねん ___くみ なまえ
----------------	-------	--------------------

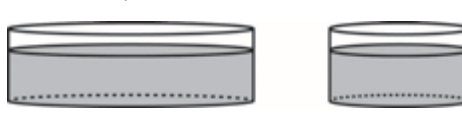
かさが おおいのは、
どちらでしょう。

ア イ



(イ)


ウ エ



(ウ)


つぎの ^い入れものにはいる
^{みず}水のかさは、コップ なんはい
ぶんでしょう。

ア



コップ (4) はいぶん


イ



コップ (9) はいぶん

イのほうが、アよりも (5) はい おおい。



つぎの ^{はい}入れものに入る 水のかさは コップ なんはいぶんでしょう。




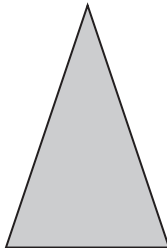
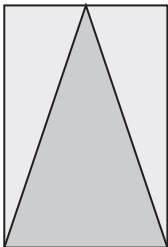
コップ (7) はいぶん


1年 6 (4)	くらべかた	____ねん ____くみ なまえ
-----------------------	-------	----------------------

ひろいのは、どちらでしょう。

ア  

イ  (イ)がひろい。



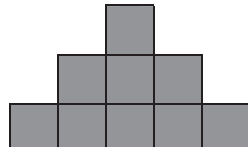
ウ  

エ  (エ)がひろい。

しろ^{しろ}いぶぶんと くろいぶぶん
は どちらが ひろいでしょう。

(くろいぶぶん)

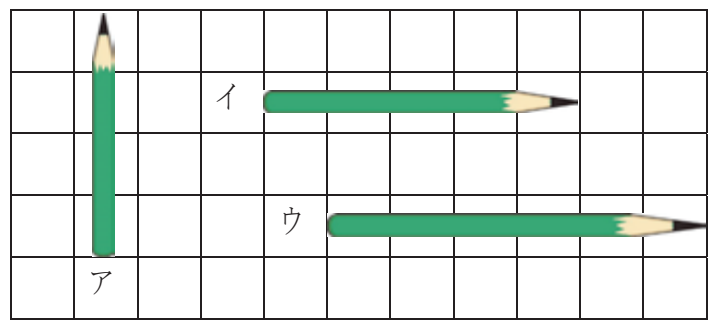
どれが いちばん ひろいでしょう。

ア  イ  ウ 

(イ)

1年 6 (5)	くらべかた	___ねん ___くみ なまえ
----------------	-------	--------------------

ながいじゆんに、こたえましょう。



(ウ) → (イ) → (ア)

いちばん たくさん ものが ^{はい} 入る ^い 入れものは、どれですか。



どちらの けいじばんが ひろい ですか。

