

1年 5 解説	しきに あらわそう	—ねん —くみ
		なまえ

おとこ こ にん
男の子が 12人、
おんな
女の子が 9人います。

あわせて なん人でしょう。

☆えで あらわして みましょう。




☆しきを たてて けいさんを しましょう。

$12 + 9 = 21$ 「あわせて」だから たしざんになりますね。

どちらが なん人 おおいでしょう。

☆えで あらわして みましょう。



女の子と 男の子で、ふたりで 1くみに してみましょう。

☆しきをたてて、けいさんしましょう。

$12 - 9 = 3$ おおいほうから すくないほうを ひけば、 なん人 おおいか わかりますね。

【こたえ】 男の子の ほうが 3人 おおい。

1年	しきに あらわそう	— ねん — ぐみ
5 (1)		なまえ

① あか赤い花が はな 4本、ほん 白い花が しろ 3本あります。

花は、あわせて なん本 ありますか。



しき

こたえ

② まるい き つみ木が 6こ、さんかくの き つみ木が 5こ
あります。つみ木は、ぜんぶで なんこ ありますか。



しき

こたえ

1年
5
(2)

しきに あらわそう

___ねん ___くみ
なまえ

① ^{あか}赤い花が ^{はな} 9本、^{ほん} 白い花が ^{しろ} 4本あります。

どちらが なん本 おおいでしょう。



しき

こたえ

② まるい ^き つみ木が 3こ、さんかくの ^き つみ木が 12こ
あります。どちらが なんこ おおいでしょう。



しき

こたえ

1年 5 (3)	しきに あらわそう	___ねん ___くみ
		なまえ

①あひるが 3わ いました。あとから 4わ やってきました。

あひるは ぜんぶで なんわに なりましたか。

【さいしょにいた あひる】



【あとからきた あひる】



しき

こたえ

②はるかさんは、おりがみを 6まい もっています。

おにいさんから 4まい もらいました。

おりがみは、ぜんぶで なんまいに なりましたか。

【もっていた おりがみ】



【もらった おりがみ】



しき

こたえ

1年 5 (4)	しきに あらわそう	____ねん ____くみ なまえ
-----------------------	-----------	----------------------

①いちごが 6こ ありました。2こ たべました。


のこりは なんこでしょう。



しき

こたえ

②りんごを 5こ かいました。みかんを りんごより 3こ
 すくなく かいました。みかんは いくつ かったでしょう。



【みかん】 ? すくなく

しき

こたえ

1年 5 (5)	しきに あらわそう	___ねん ___くみ なまえ
----------------	-----------	--------------------

①まさどさんは ^{ほん}本を 6 さつ、のぞみさんは 本を 7 さつかりました。ふたりが かりた本は、ぜんぶで なんさつ でしょう。

しき

こたえ

②とまどが 10 こ あります。6 人^{にん}が 1 こずつ たべると、なんこ のこりますか。

しき

こたえ

☆わからないときは、おはなしを えで あらわしましょう。

1年 5 (1)	しきに あらわそう	___ねん ___くみ なまえ	さいてん
----------------	-----------	--------------------	------

① あか 花が 4本、しろ 花が 3本あります。

花は、あわせて なん本 ありますか。



しき

$$4 + 3 = 7$$

こたえ

7ほん

② まるい き つみ木が 6こ、さんかくの き つみ木が 5こ
あります。つみ木は、ぜんぶで なんこ ありますか。



しき

$$6 + 5 = 11$$

こたえ

11こ

1年 5 (2)	しきに あらわそう	___ねん ___くみ なまえ	さいてん
----------------	-----------	--------------------	------

① あか赤い花が ほん9本、しろ白い花が 4本あります。

どちらが なん本 おおいでしょう。



しき

$$9 - 4 = 5$$

こたえ

赤い花が 5本 おおい。

② きまるいつみ木が 3こ、きさんかくのつみ木が 12こ
あります。どちらが なんこ おおいでしょう。



しき

$$12 - 3 = 9$$

こたえ

さんかくのつみ木が 9こ おおい。

1年 5 (3)	しきに あらわそう	___ねん ___くみ なまえ	さいてん
----------------	-----------	--------------------	------

①あひるが 3わ いました。あとから 4わ やってきました。

あひるは ぜんぶで なんわに なりましたか。

【さいしょにいた あひる】



【あとからきた あひる】



しき

$$3 + 4 = 7$$

こたえ

7わ

②はるかさんは、おりがみを 6まい もっています。

おにいさんから 4まい もらいました。

おりがみは、ぜんぶで なんまいに なりましたか。

【もっていた おりがみ】



【もらった おりがみ】



しき

$$6 + 4 = 10$$

こたえ

10まい

1年 5 (4)	しきに あらわそう	___ねん ___くみ なまえ	さいてん
----------------	-----------	--------------------	------

①いちごが 6こ ありました。2こ たべました。

のこりは なんこでしょう。

いちご 
たべたかず

しき


$$6 - 2 = 4$$

こたえ

4こ

②りんごを 5こ かいました。みかんを りんごより 3こ

すくなく かいました。みかんは いくつ かったでしょう。

【りんご】 
【みかん】 すくなく

しき

$$5 - 3 = 2$$

こたえ

2こ

1年 5 (5)	しきに あらわそう	___ねん ___くみ なまえ	さいてん
----------------	-----------	--------------------	------

①まささんは ^{ほん}本を 6 さつ、のぞみさんは 本を 7 さつかりました。ふたりが かりた本は、ぜんぶで なんさつ でしょう。

しき

$$6 + 7 = 13$$

こたえ

13 さつ

②とまとが 10 こ あります。6人^{にん}が 1 こずつ たべると、なんこ のこりますか。

しき

$$10 - 6 = 4$$

こたえ

4 こ

☆わからないときは、おはなしを えで あらわしましょう。