



1年 1 解説	大きいかず	____ ねん ____ くみ なまえ
------------------------------------	--------------	------------------------

かずのかぞえかた


① 2 ずつかぞえる



② 5 ずつかぞえる

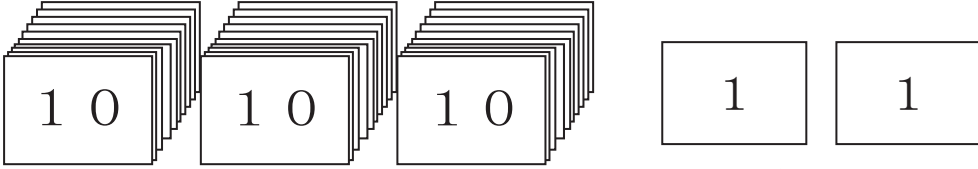


③ 10 ずつかぞえる



たくさんのかずを かぞえるときは 10のかたまりにすると
 はやく・^{ただ}正しく かぞえることができます。

かずのしくみ

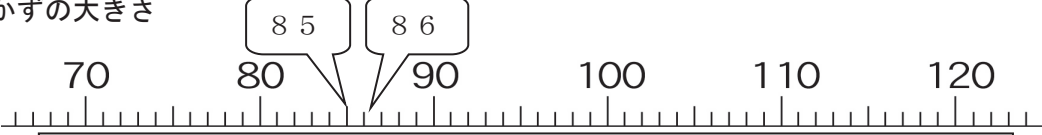


10 が 3 こで 30。
 1 が 2 こで 2。

30 と 2 で **さんじゅうに** といいます。

十のくらい	一のくらい
3	2

かずの^{おお}大きさ




かずのせんで、^{みぎ}右にいけばかずは大きくなります。

1年 1 (1)	大きいかず	__ねん __くみ なまえ
-----------------------	-------	------------------

□に あてはまる かずを かきましょう。

- ① 10と 2で
- ② 10と 7で
- ③ 10と 5で
- ④ 13は 10と
- ⑤ 16は 10と
- ⑥ 20は と 10
- ⑦ 11 - - 13 - 14 - 15
- ⑧ 10 - 12 - - 16 - 18
- ⑨ 20 - 18 - - 14 -

いくつあるでしょうか。



ほん
本

○かずを まちがいなくかぞえるために どんなくふうをしますか。

1年 1 (2)	大きいかず	__ねん __くみ なまえ
-----------------------	-------	------------------

1 □に あてはまる かずを かきましょう。

- ① 10と 9で
- ② 10と 3で
- ③ 10と 10で
- ④ と 9で 19
- ⑤ と 1で 11
- ⑥ と 10で 20

2 ^{おお}大きいほうに まるを つけましょう。

- ① 17 19 ② 14 15
- ③ 18 11 ④ 19 20

□に かずを かきましょう。

- ① 5 - - - 20
- ② 10 - 12 - - 16 -

1年 1 (3)	大きいかず	__ねん __くみ なまえ
-----------------------	-------	------------------

□にあてはまる かずを かきましょう。

① 10が 9こと 1が 9こで

② 10が 10こで

③ 60は 10が こ

④ 99は 10が こ
と 1が こ

⑤ 100は 10が こ

⑥ 72の

一いちのくらいのすうじは で
十じゅうのくらいのすうじは です。

⑦ 50の

一のくらいのすうじは で
十のくらいのすうじは です。

1年 1 (4)	大きいかず	__ねん __くみ なまえ
-----------------------	-------	------------------

1 ^{おお}大きいほうに まるを つけましょう。

① ②

③ ④

2 □に あてはまる かずを かきましょう。

① 96 - - 98 - -

② 98 - - - 104

③ - 105 - - 95

④ - 100 - 98 -

かずの せんをみて こたえましょう。



① 100より3大きいかずは です。

② 75は80より ^{ちい}小さいかずです。

1年 1 (5)	大きいかず	__ねん __くみ なまえ
-----------------------	-------	------------------

□に あてはまる かずを かきましよう。

0	1	2	3	4	5	6	7	8	9
10	11	12	13	14	15	16	17	18	19
20	21	22	23	24	25	26	27	28	29
30	31				35				39
40	41						47		
					55				59
60					65				
			73					78	
									89
90					95		97		

かずの せんを ^み見て こたえましよう。




- ① 100より 8ちい小さいかずは です。
- ② 82は 90より 小さいかずです。

1年 1 (1)	大きいかず	____ねん ____くみ なまえ
-----------------------	-------	----------------------

□に あてはまる かずを かきましょう。

- ① 10と 2で 12
- ② 10と 7で 17
- ③ 10と 5で 15
- ④ 13は 10と 3
- ⑤ 16は 10と 6
- ⑥ 20は 10 と 10
- ⑦ 11 - 12 - 13 - 14 - 15
- ⑧ 10 - 12 - 14 - 16 - 18
- ⑨ 20 - 18 - 16 - 14 - 12

いくつあるでしょうか。



13 ほん 本

○かずを まちがいなくかぞえるために どんなくふうをしますか。

10の かたまりを つくって かぞえます。

1年 1 (2)	大きいかず	__ねん __くみ なまえ
-----------------------	-------	------------------

① □に あてはまる かずを かきましょう。

① 10と 9で 19

② 10と 3で 13

③ 10と10で 20

④ 10 と 9で19

⑤ 10 と 1で11

⑥ 10 と10で20

② ^{おお}大きいほうに ^{まる}まるをつけましょう。

① 17 19 ② 14 15

③ 18 11 ④ 19 20

□に かずを かきましょう。

① 5 - 10 - 15 - 20

② 10 - 12 - 14 - 16 - 18

1年 1 (3)	大きいかず	___ねん ___くみ なまえ
----------------	-------	--------------------

□にあてはまる かずをかきましょう。

① 10が9こと1が9こで

② 10が10こで

③ 60は10が こ

④ 99は10が こ

と1が こ

⑤ 100は10が こ

⑥ 72の

一のいちのくらいのすうじは で

十のじゅうのくらいのすうじは です。

⑦ 50の

一のいちのくらいのすうじは で

十のじゅうのくらいのすうじは です。

1年 1 (4)	大きいかず	___ねん ___くみ なまえ
----------------	-------	--------------------

1 おお 大きいほうに まるをつけましょう。

- ① 5 6 4 2 ② 8 9 6 9
- ③ 9 8 8 9 ④ 1 0 0 9 9

2 □にあてはまる かずをかきましょう。

- ① 9 6 — 9 7 — 9 8 — 9 9 — 100
- ② 9 8 — 100 — 102 — 1 0 4
- ③ 110 — 1 0 5 — 100 — 9 5
- ④ 102 — 1 0 0 — 9 8 — 96

かずの せんをみて きたえましょう。



- ① 100より3大きいかずは 103 です。
- ② 75は80より 5 ちい小さいかずです。

1年 1 (5)	大きいかず	____ねん ____くみ なまえ
-------------------------------------	-------	----------------------

□に あてはまる かずを かきましょう。

0	1	2	3	4	5	6	7	8	9
10	11	12	13	14	15	16	17	18	19
20	21	22	23	24	25	26	27	28	29
30	31	32	33	34	35	36	37	38	39
40	41	42	43	44	45	46	47	48	49
50	51	52	53	54	55	56	57	58	59
60	61	62	63	64	65	66	67	68	69
70	71	72	73	74	75	76	77	78	79
80	81	82	83	84	85	86	87	88	89
90	91	92	93	94	95	96	97	98	99
100									

かずの せんを ^み見て こたえましょう。

① 100より 8ちい小さいかずは 92 です。

② 82は 90より 8 小さいかずです。