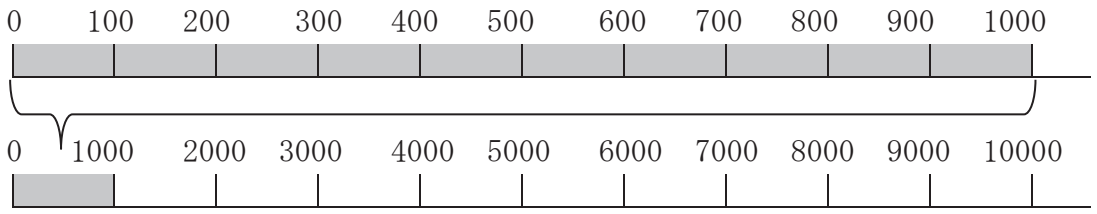
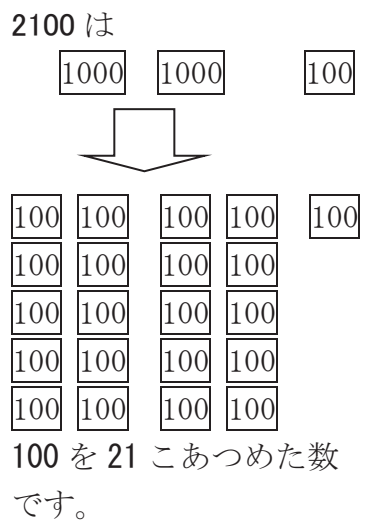
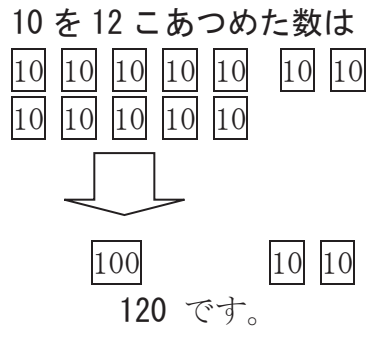
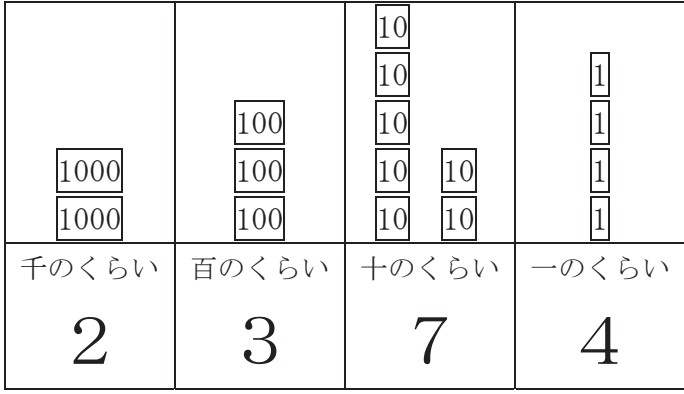


2年 1 解説	1万までの数	___年 ___ ^{くみ} 組
		名前 ^{まえ}

100 を 10 こ あつめた数を 1000 (千) といいます。
 1000 を 10 こ あつめた数を 10000 (一万) といいます。



1000 を 2 こ、100 を 3 こ、10 を 7 こ、1 を 4 こ あわせた数は、2374 です。
 (2000 + 300 + 70 + 4 = 2374)



数の大小は、「>」「=」「<」であらわします。

- ⓪ > ㊦
314 > 291 (314 は 291 より大きい)
- 200 > 100 + 80 (200 は 100 + 80 より大きい)
- ⓪ = ⓪
200 = 120 + 80 (200 は 120 + 80 と同じ大きさ)
- ㊦ < ⓪
314 < 345 (314 は 345 より小さい)
- 200 < 150 + 80 (200 は 150 + 80 より小さい)

2年 1 (3)	1万までの数	年 組 名前
-------------------------------------	---------------	-----------

つぎの文をしきにあらわしましょう。

①

6170は、
 6000と100と70を
 あわせた数です。

6170 = + +

□にあてはまる「>」、「=」、「<」を書きましょう。

② 9000 8800

③ 4300 4500

④ 1790 1730

⑤ 2500 2000+500

⑥ 6100 6000+300

□にあてはまる数を書きましょう。

⑦ 1000を5こ、10を6こ、1を9こ
あわせた数は です。

⑧ 3800は と800を
あわせた数です。

⑨ 5700は6000より
 小さい数です。

⑩ 2400は2000より
 大きい数です。

⑪ 10000より3000小さい数は
 です。

□にあてはまる数を書きましょう。

⑫

⑬

⑭

2年 1 (4)	1万までの数	年 組 名前
-------------------------------------	---------------	-----------

つぎの文をしきにあらわしましょう。

① 3502は、
3000と500と2を
あわせた数です。

3502 = + +

□にあてはまる「>」、「=」、「<」を
書きましょう。

② 3021 2983

③ 5684 5716

④ 9382 9379

⑤ 6212 6000+200

⑥ 8051 8000+50+1

□にあてはまる数を書きましょう。

⑦ 1000を9こ、100を1こ、10を2こ
あわせた数は です。

⑧ 100を100こあつめた数は
 です。

⑨ 8900は より
100小さい数です。

⑩ 10000は6000より
 大きい数です。

⑪ 4000より600小さい数は
 です。

□にあてはまる数を書きましょう。

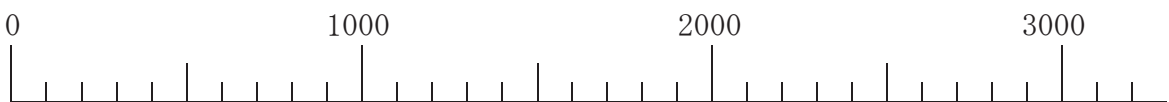
2480 2490

4800 4900 5100

9700 9800 9900

2年 1 (5)	1万までの数	____年 ____組 名前
----------------	--------	-------------------

2600という数について答えましょう。



①上の数の線で、2600をあらわすめもりに↓をかきましょう。

・□に入る数をかきましょう。

②2600は、と600をあわせた数です。

③2600は、100をこあつめた数です。

④2600は、3000より小さい数です。

・2600のあらわし方をじゆうに考えてみましょう。

⑤2600は、数です。

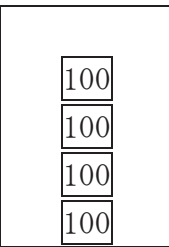
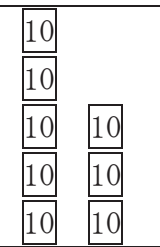
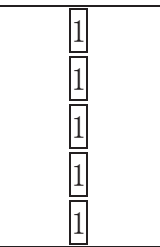
⑥2600は、数です。

⑦2600は、数です。

2年 1 (1)	1万までの数	年 組 名前
-------------------------------------	---------------	-----------

数を数字で書きましょう。

①

		
百のくらい	十のくらい	一のくらい
4	8	5

②三百十四
(3 1 4)

③八百五十
(8 5 0)

④二百八
(2 0 8)

⑤七百
(7 0 0)

□にあてはまる数を書きましょう。

⑥100を5こ、10を2こ、1を8こ
 あわせた数は 5 2 8 です。

⑦145は、100を 1 こ、10を 4 こ、
 1を 5 こあわせた数です。

⑧百のくらいが9、十のくらいが4、
 一のくらいが2の数は 942 です。

⑨10を57こあつめた数は 570 です。

⑩840は10を 84 こあつめた数です。

□にあてはまる数を書きましょう。

⑪

297	298	299	300	301	302	303	304
-----	-----	-----	-----	-----	-----	-----	-----

⑫

680	685	690	695	700	705	710	715
-----	-----	-----	-----	-----	-----	-----	-----

⑬

930	940	950	960	970	980	990	1000
-----	-----	-----	-----	-----	-----	-----	------

2年 1 (2)	1万までの数	年 組 名前
-------------------------------------	---------------	-----------

数を数字で書きましょう。

① 	千のくらい 2	百のくらい 4	十のくらい 3	一のくらい 9
-------	-------------------	-------------------	-------------------	-------------------

②七千三百九十八
 (7 3 9 8)

③四千十五
 (4 0 1 5)

④千二百三
 (1 2 0 3)

⑤九千四
 (9 0 0 4)

□にあてはまる数を書きましょう。

⑥1000を3こ、100を4こ、10を8こ、1を5こあわせた数は **3485** です。

⑦5461は、1000を **5** こ、100を **4** こ、10を **6** こ、1を **1** こあわせた数です。

⑧千のくらいが6、百のくらいが2、十のくらいが3、一のくらいが8の数は **6238** です。

⑨100を43こあつめた数は **4300** です。

⑩8900は10を **890** こあつめた数です。

□にあてはまる数を書きましょう。

⑪

3950	3960	3970	3980	3990	4000	4010	4020
------	------	-------------	-------------	------	-------------	-------------	------

⑫

4400	4500	4600	4700	4800	4900	5000	5100
-------------	------	------	-------------	------	-------------	-------------	------

⑬

6500	7000	7500	8000	8500	9000	9500	10000
------	-------------	------	------	-------------	-------------	------	--------------

2年 1 (3)	1万までの数	年 組 名前
-------------------------------------	---------------	-----------

つぎの文をしきにあらわしましょう。

①

6170は、
6000と100と70を
あわせた数です。

6170 = 6000 + 100 + 70

□にあてはまる「>」、「=」、「<」を書きましょう。

② 9000 > 8800

③ 4300 < 4500

④ 1790 > 1730

⑤ 2500 = 2000+500

⑥ 6100 < 6000+300

□にあてはまる数を書きましょう。

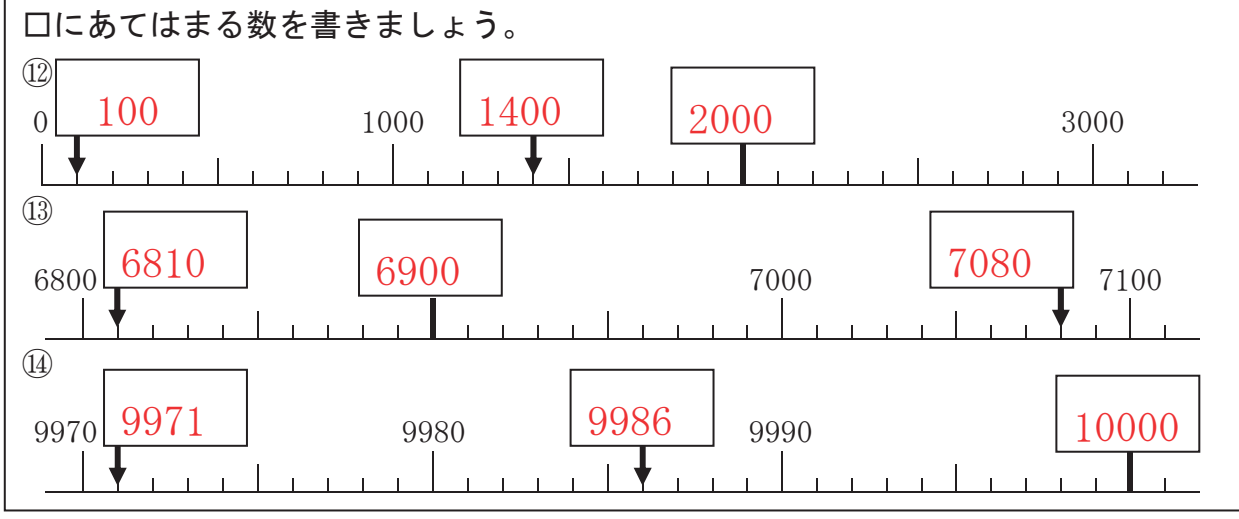
⑦ 1000を5こ、10を6こ、1を9こ
あわせた数は 5069 です。

⑧ 3800は 3000 と800を
あわせた数です。

⑨ 5700は6000より
300 小さい数です。

⑩ 2400は2000より
400 大きい数です。

⑪ 10000より3000小さい数は
7000 です。



2年 1 (4)	1万までの数	年 組 名前
-------------------------------------	---------------	-----------

つぎの文をしきにあらわしましょう。

① 3502は、
3000と500と2を
あわせた数です。

3502 = + +

□にあてはまる「>」、「=」、「<」を
書きましょう。

② 3021 2983

③ 5684 5716

④ 9382 9379

⑤ 6212 6000+200

⑥ 8051 8000+50+1

□にあてはまる数を書きましょう。

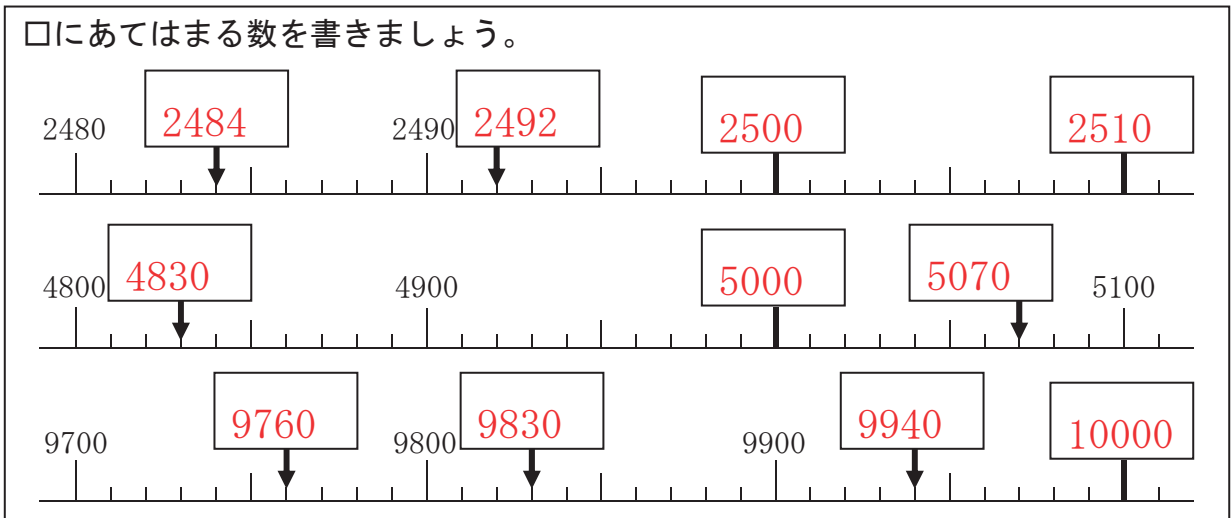
⑦ 1000を9こ、100を1こ、10を2こ
あわせた数は です。

⑧ 100を100こあつめた数は
 です。

⑨ 8900は より
100小さい数です。

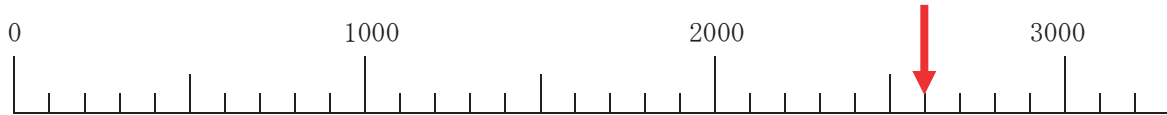
⑩ 10000は6000より
 大きい数です。

⑪ 4000より600小さい数は
 です。



2年 1 (5)	1万までの数	____年 ____組 名前
----------------	--------	-------------------

2600という数について答えましょう。



①上の数の線で、2600をあらわすめもりに↓をかきましょう。

・□に入る数をかきましょう。

②2600は、と600をあわせた数です。

③2600は、100をこあつめた数です。

④2600は、3000より小さい数です。

・2600のあらわし方をじゆうに考えてみましょう。

⑤2600は、数です。

⑥2600は、数です。

⑦2600は、数です。