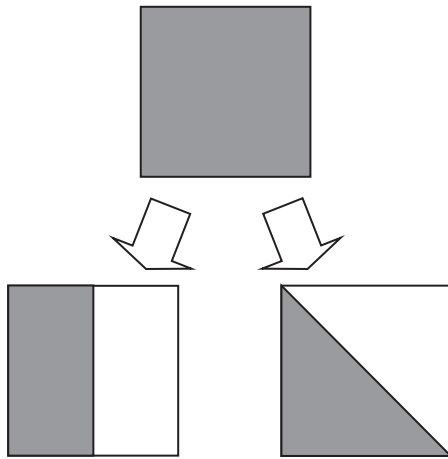


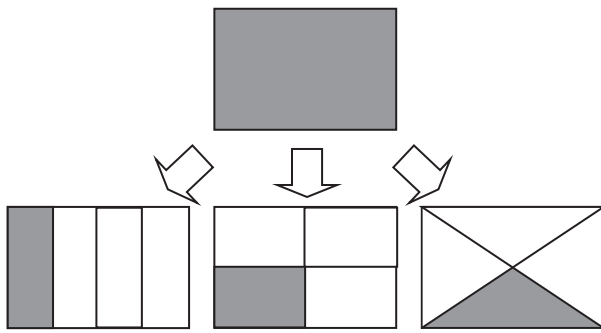
2年  
2  
解説

分数

\_\_\_年 \_\_\_組  
まえ  
名前



左のように、  
同じ大きさに  
2つに分けた1つ分を、  
もとの大きさの  
 $\frac{1}{2}$ (二分の一)といいます。



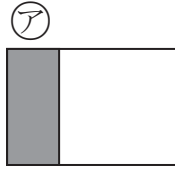
左のように、  
同じ大きさに  
4つに分けた1つ分を、  
もとの大きさの  
 $\frac{1}{4}$ (四分の一)といいます。

$\frac{1}{2}$ ,  $\frac{1}{4}$ のようにあらわした数を**ぶんすう**分数といいます。

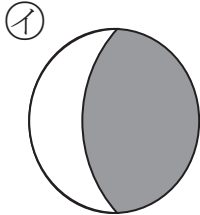
<b>2年</b> <b>2</b> <b>(1)</b>	分数	年 組 名前
-------------------------------------	----	-----------

①  $\frac{1}{2}$  の大きさをえらびましょう。

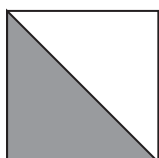
ア



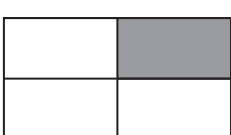
イ



ウ




エ

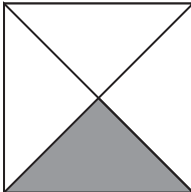


(                      )


② 色をぬったところは、もとの大きさの何分の一ですか。



(                      )



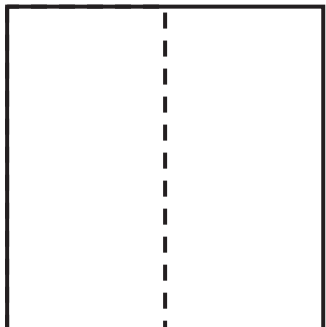
(                      )



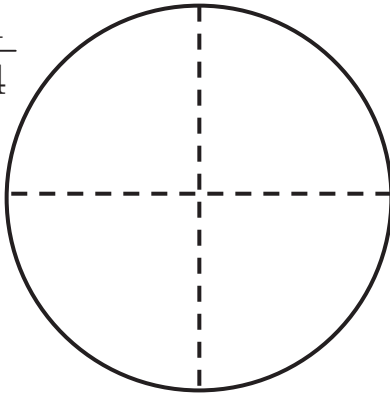
(                      )

③ つぎの大きさに色をぬりましょう。

$\frac{1}{2}$



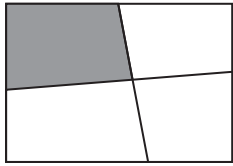
$\frac{1}{4}$



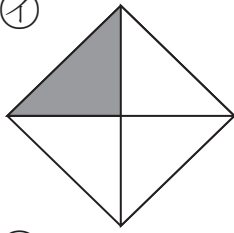
<b>2年</b> <b>2</b> <b>(2)</b>	<b>分数</b>	年 組 名前
-------------------------------------	-----------	-----------

①  $\frac{1}{4}$  の大きさをえらびましょう。

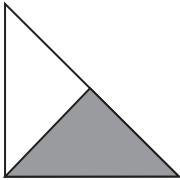
ア




イ



ウ

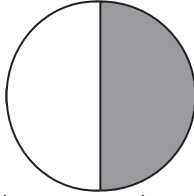


エ




( )

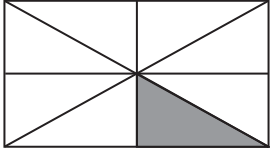
② 色をぬったところは、もとの大きさの何分の一ですか。



( )



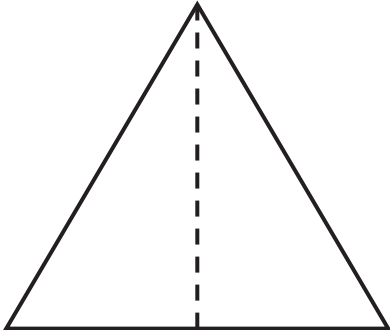
( )




( )

③ つぎの大きさに色をぬりましょう。

$\frac{1}{2}$

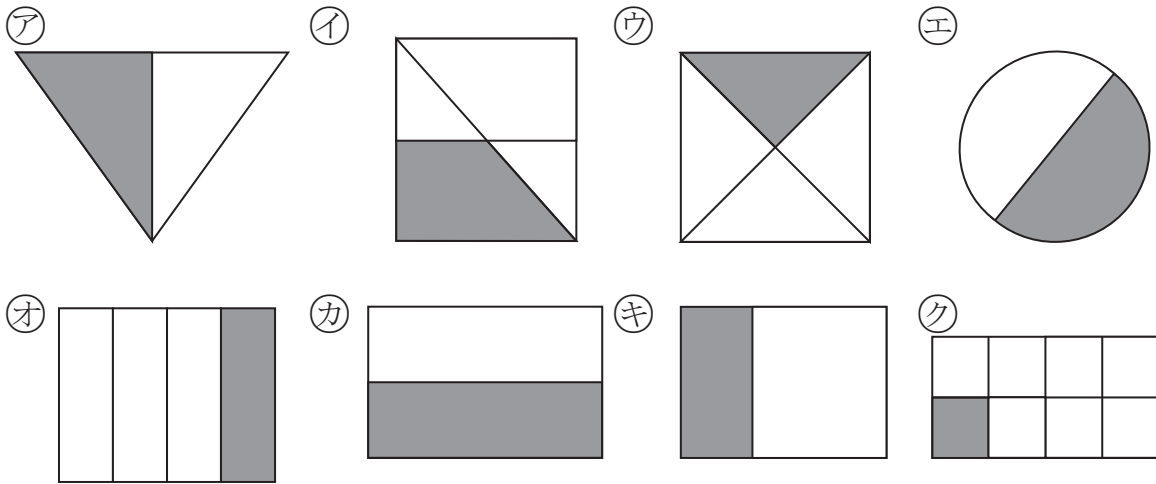


$\frac{1}{4}$



<b>2年</b> <b>2</b> <b>(3)</b>	<b>分数</b>	年 組 名前
-------------------------------------	-----------	-----------


①  $\frac{1}{2}$ 、 $\frac{1}{4}$ 、 $\frac{1}{8}$  の大きさをぜんぶえらびましょう。



$\frac{1}{2}$  ( )       $\frac{1}{4}$  ( )       $\frac{1}{8}$  ( )

② つぎの大きさに色をぬりましょう。

$\frac{1}{2}$




$\frac{1}{4}$



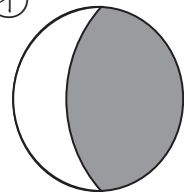
2年 <b>2</b> (1)	分数	年 組 名前
-----------------------	----	-----------

①  $\frac{1}{2}$  の大きさをえらびましょう。

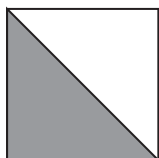
ア



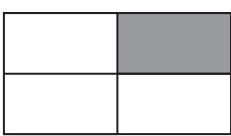
イ



ウ




エ

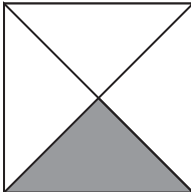


( ウ )


② 色をぬったところは、もとの大きさの何分の一ですか。



(  $\frac{1}{2}$  )



(  $\frac{1}{4}$  )




(  $\frac{1}{8}$  )

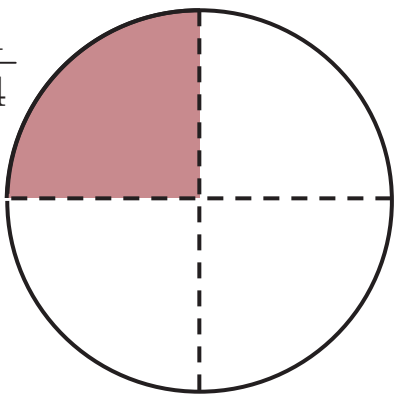
③ つぎの大きさに色をぬりましょう。

$\frac{1}{2}$

(れい)



$\frac{1}{4}$



<b>2年</b> <b>2</b> <b>(2)</b>	<b>分数</b>	年 組 名前
-------------------------------------	-----------	-----------

①  $\frac{1}{4}$  の大きさをえらびましょう。

ア

イ

ウ

エ

( イ )

② 色をぬったところは、もとの大きさの何分の一ですか。

(  $\frac{1}{2}$  )

(  $\frac{1}{4}$  )

(  $\frac{1}{8}$  )

③ つぎの大きさに色をぬりましょう。

$\frac{1}{2}$

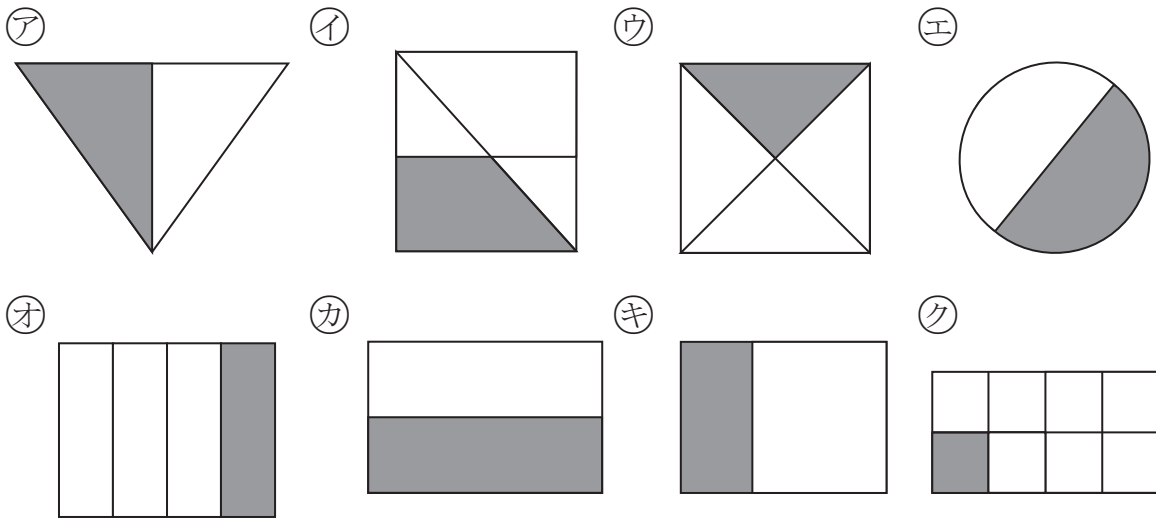
( れい )

$\frac{1}{4}$

( れい )

<b>2年</b> <b>2</b> <b>(3)</b>	分数	年 組 名前
-------------------------------------	----	-----------

①  $\frac{1}{2}$ 、 $\frac{1}{4}$ 、 $\frac{1}{8}$  の大きさをぜんぶえらびましょう。



$\frac{1}{2}$  (ア エ カ)       $\frac{1}{4}$  (ウ オ)       $\frac{1}{8}$  (ク)

② つぎの大きさに色をぬりましょう。 (れい)

