

(19) 任
6画

このページを見ると、この漢字が使われている文がのっています。自分で考えるもし、教科書を参考にすることもよし。

P.285「この本で習う漢字」を参考に学習を進めましょう。

がつ

任	ふ	現	名	任
命	ら	見	前	任
を	り	あらわ	を	まか
受	と	ゲン	つ	ニ
け	勇	画	け	ン
た	太	一	て	6画
人	が	ト	と	責
物	現	千	任	任
が	れ	玉	命	任
現	た	玨	任	命
れ	。	玨	せ	る
る。	現	玨	る	任
	現	玨	任	任

読み方
画数

筆順

練習

学習した漢字を2つとも使って、文づくりにチャレンジしてみてもいいよ!

あまたマスは練習に使おう!

5年生 社会科 家庭学習の進め方




【用意するもの】

- ①教科書（小学社会⑤教育出版）
- ②学習プリント
- ③筆記用具
- ④資料集（配布されたら）

※さらにくわしく調べたいことが出てきたら国語辞典やパソコン、スマートフォンを活用しよう。

【学習を進める手順】

- ①プリントの「めあて」を読む。
- ②教科書や資料集の関係のあるページを開く。
- ③プリントの問題を読み、教科書や資料集の中から答えを見つけて書きこむ。
- ④最後に「解答」を見て、答え合わせをする。
- ⑤間違えた問題や書けなかった問題の答えが、教科書のどこに書かれているかを見つける。
- ⑥さらにくわしく知りたいことをインターネットなどで調べる。



【先生から一言】

ほとんどの答えは教科書の中に書かれています。まずは、解答を見ないでがんばりましょう！！答えがどうしても分からないところは、とばして先に進めてもいいですよ。

学校でいっしょに勉強できることを心から楽しみにしています。

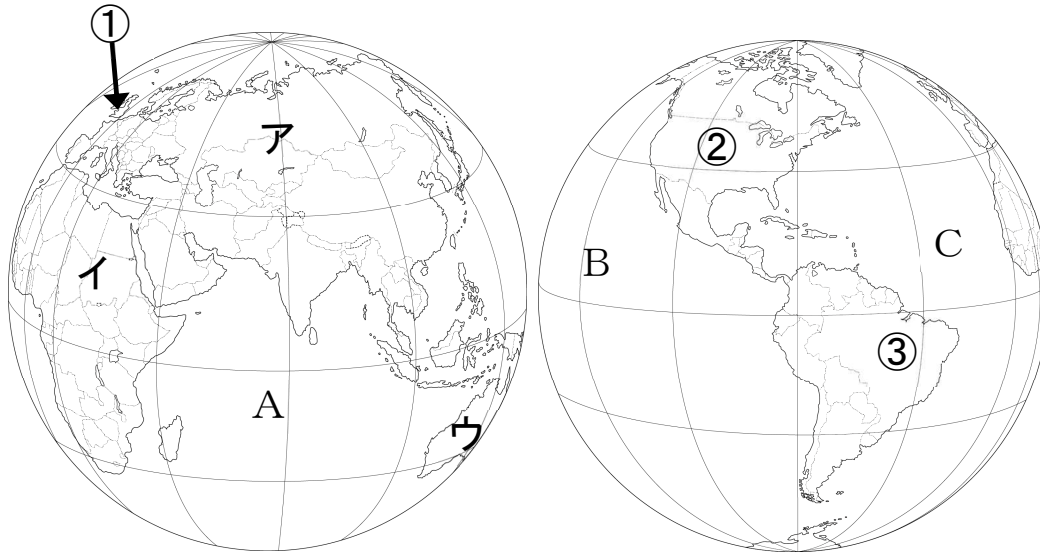
めあて：世界や日本の国土について調べよう。

1 日本の国土とわたしたちの暮らし 教科書 p6~17

組 名前

1 日本の国土と世界の国々

1 下の地図を見て，問題に答えましょう。



(1) 日本の国土を○で囲みましょう。

(2) ア～ウにあてはまる大陸名，A～Cにあてはまる海洋名を書きましょう。

ア	大陸
イ	大陸
ウ	大陸

A	洋
B	洋
C	洋

(3) ①～③にあてはまる国名を下の から選んで書きましょう。

①	
②	
③	

イギリス	アメリカ合衆国 <small>がっしゅうこく</small>
タイ	カナダ
ブラジル	サウジアラビア

2 地球上の位置の表し方について、(1)～(3)の説明にあてはまる言葉を から選んで書きましょう。また、地図の中のア、イ、ウのどの線にあたるかを記号で書きましょう。



いせん
緯線
赤道
けいせん
経線

(1) 北極と南極の間を通る線。

言葉	記号

(2) 東西の位置を表す線。北極からイギリスのロンドンを通り、南極までを結んだ線を0度として、東西に180度までである。

言葉	記号

(3) 南北の位置を表す線。(1)の線を0度として、南北に90度までである。

言葉	記号

3 日本^{りょうど}の領土と周りの国々について、下の地図を見て問題に答えましょう。



(1) ①～⑤にあてはまる国名を [] から選んで書きましょう。

①	
②	
③	
④	
⑤	

ちょうせんみんしゆしゆぎじんみんきょうわこく
朝鮮民主主義人民共和国

フィリピン共和国

ろしあ^{れんぽう}連邦
ロシア連邦

ちゅうかじんみんきょうわこく
中華人民共和国

だいかんみんこく
大韓民国

(2) ア, イ, ウにあてはまる島の名前を選び、線で結びましょう。

ア 日本の西のはし

イ 日本の南のはし

ウ 日本の東のはし

.

.

.

.

.

.

みなみとり
南鳥島

よなぐに
与那国島

おきのとり
沖ノ鳥島

(3) 日本がロシア連邦に返還を求めている、歯舞群島・色丹島・国後島・択捉島の島々は何とよばれる領土ですか。

領 土

(4) 日本の領土について、(3)の他にも外国との問題が起きている島があります。その島の名前を地図から選び、また、どの国との問題なのかを書きましょう。

島	→	国名
島	→	国名

4 日本国土の位置や広がりについて、①～③にあてはまる言葉を下の から選んで書きましょう。また、自分でも日本の国土の位置や広がりを表す短い文を考えて、④⑤に書きましょう。

- 日本は、ユーラシア大陸の (①) 側に位置しています。
- 日本は、周りを (②) に囲まれた島国です。
- 日本は、 (③) のはしから南のはしまで、およそ3000kmもある、細長い国土の形をしています。

「日本は世界のどこにありますか？」

- (④)

「日本の国土のはん囲や形は、どうなっていますか？」

- (⑤)

東 西 北 南 海 山

◎調べて分かったこと、考えたことなど学習感想を書こう。

めあて：世界や日本の国土について調べよう。

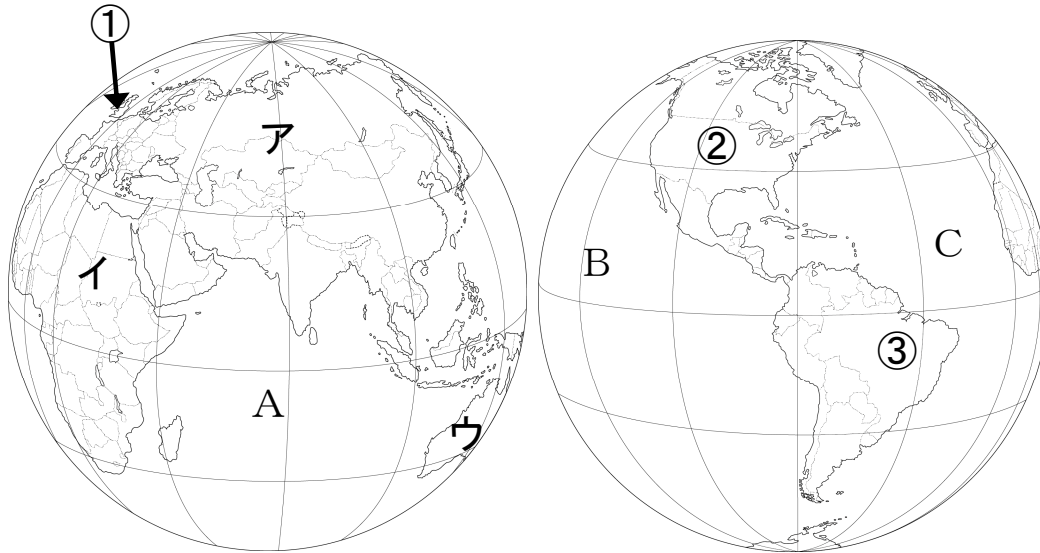
1 日本の国土とわたしたちの暮らし 教科書 p 6～17

組 名前

1 日本の国土と世界の国々

1 下の地図を見て、問題に答えましょう。

【知識・技能】



(1) 日本の国土を○で囲みましょう。(およその範囲が囲まれていればよい)

(2) ア～ウにあてはまる大陸名，A～Cにあてはまる海洋名を書きましょう。

ア	ユーラシア	大陸
イ	アフリカ	大陸
ウ	オーストラリア	大陸

A	インド	洋
B	太平	洋
C	大西	洋

(3) ①～③にあてはまる国名を下の から選んで書きましょう。

①	イギリス
②	アメリカ合衆国
③	ブラジル

イギリス	アメリカ合衆国 <small>がっしゅうこく</small>
タイ	カナダ
ブラジル	サウジアラビア

2 地球上の位置の表し方について、(1)～(3)の説明にあてはまる言葉を から選んで書きましよう。また、地図の中のア、イ、ウのどの線にあたるかを記号で書きましよう。

【知識・技能】



いせん
緯線
赤道
けいせん
経線

(1) 北極と南極の間を通る線。

言葉	記号
赤道	ウ

(2) 東西の位置を表す線。北極からイギリスのロンドンを通り、南極までを結んだ線を0度として、東西に180度までである。

言葉	記号
経線	ア

(3) 南北の位置を表す線。(1)の線を0度として、南北に90度までである。

言葉	記号
緯線	イ

3 日本^{りょうど}の領土と周りの国々について、下の地図を見て問題に答えましょう。

【知識・技能】



(1) ①～⑤にあてはまる国名を [] から選んで書きましょう。

①	ロシア連邦
②	中華人民共和国
③	大韓民国
④	朝鮮民主主義人民共和国
⑤	フィリピン共和国

ちょうせんみんしゆしゆぎじんみんきやうわこく
朝鮮民主主義人民共和国

フィリピン共和国

ロシア^{れんぽう}連邦

ちゆうかじんみんきやうわこく
中華人民共和国

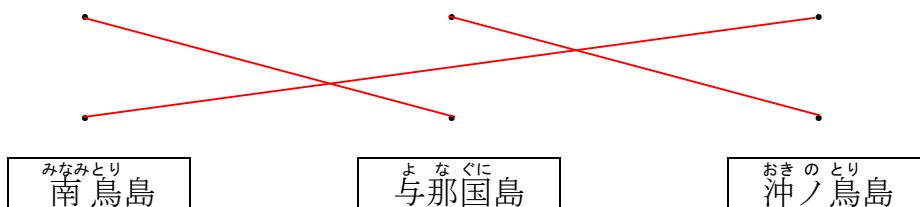
だいかんみんこく
大韓民国

(2) ア、イ、ウにあてはまる島の名前を選び、線で結びましょう。

ア 日本の西のはし

イ 日本の南のはし

ウ 日本の東のはし



(3) 日本がロシア連邦に返還を求めている、歯舞群島・色丹島・国後島・択捉島の島々は何とよばれる領土ですか。

北 方 領 土

(4) 日本の領土について、(3)の他にも外国との問題が起きている島があります。その島の名前を地図から選び、また、どの国との問題なのかを書きましょう。

竹 島	⇒	国名 大韓民国
尖 閣 諸 島	⇒	国名 中華人民共和国

4 日本国土の位置や広がりについて、①～③にあてはまる言葉を下の□から選んで書きましょう。また、自分でも日本の国土の位置や広がりを表す短い文を考えて、④⑤に書きましょう。 ①～③【知識・技能】 ④⑤【思考・判断・表現】

- ・日本は、ユーラシア大陸の(① 東)側に位置しています。
- ・日本は、周りを(② 海)に囲まれた島国です。
- ・日本は、(③ 北)のはしから南のはしまで、およそ3000kmもある、細長い国土の形をしています。

「日本は世界のどこにありますか？」

- ・(④ 例：オーストラリアと同じ経度にある。)

「日本の国土のはん囲や形は、どうなっていますか？」

- ・(⑤ 例：6800以上の島々からなっている。)

東 西 北 南 海 山