

百マス計算にチャレンジしよう! ①

名前 ()

やり方は、マスの左と上の数字が交さるところに答えを書きます。あいているマスに答えを書いてみよう!

か け る 数

か
け
ら
れ
る
数

| × | 1 | 2 | 3 | 4 | 5 | 6 | 7 | 8 | 9 | |
|---|---|---|---|---|---|---|---|---|---|--|
| 1 | | | | | | | | | | |
| 2 | | | | | | | | | | |
| 3 | | | | | | | | | | |
| 4 | | | | | | | | | | |
| 5 | | | | | | | | | | |
| 6 | | | | | | | | | | |
| 7 | | | | | | | | | | |
| 8 | | | | | | | | | | |
| 9 | | | | | | | | | | |
| | | | | | | | | | | |

百マス計算にチャレンジしよう!

名前 ()

※むずかしいもんだい! あいているマスに答えをかいてみよう! (ヒント…3年生の教か書 P14)

か け る 数

か
け
ら
れ
る
数

| × | 1 | 2 | 3 | 4 | 5 | 6 | 7 | 8 | 9 | 10 |
|----|---|----|---|---|---|---|---|---|---|----|
| 1 | 1 | 2 | 3 | 4 | 5 | 6 | 7 | 8 | 9 | 10 |
| 2 | | | | | | | | | | |
| 3 | | | | | | | | | | |
| 4 | | | | | | | | | | |
| 5 | | | | | | | | | | |
| 6 | | | | | | | | | | 60 |
| 7 | | | | | | | | | | |
| 8 | | | | | | | | | | |
| 9 | | | | | | | | | | |
| 10 | | 20 | | | | | | | | |

◇れんしゅうもんだい (答えは百マス計算でさがしてね!)

① 5×10

② 8×10

③ 10×3

④ 10×7

⑤ 2×10

2年生のふくしゅうにチャレンジ③！

50もんを何分でできるかちょうせんしよう！



名前

① $9 \times 2 =$

⑪ $6 \times 1 =$

⑲ $4 \times 6 =$

⑳ $2 \times 6 =$

㉑ $5 \times 1 =$

② $4 \times 8 =$

⑫ $3 \times 7 =$

⑳ $8 \times 9 =$

㉒ $1 \times 7 =$

㉓ $6 \times 2 =$

③ $6 \times 3 =$

⑬ $4 \times 1 =$

㉔ $2 \times 8 =$

㉓ $4 \times 5 =$

㉔ $9 \times 3 =$

④ $8 \times 4 =$

⑭ $7 \times 8 =$

㉕ $5 \times 3 =$

㉔ $5 \times 2 =$

㉕ $5 \times 5 =$

⑤ $4 \times 9 =$

⑮ $4 \times 4 =$

㉖ $9 \times 1 =$

㉕ $2 \times 9 =$

㉖ $6 \times 8 =$

⑥ $5 \times 7 =$

⑯ $2 \times 1 =$

㉗ $8 \times 6 =$

㉖ $6 \times 9 =$

㉗ $1 \times 7 =$

⑦ $9 \times 4 =$

⑰ $4 \times 3 =$

㉘ $7 \times 7 =$

㉖ $8 \times 7 =$

㉘ $7 \times 9 =$

⑧ $6 \times 6 =$

⑱ $6 \times 7 =$

㉙ $8 \times 5 =$

㉗ $6 \times 9 =$

㉙ $5 \times 4 =$

⑨ $3 \times 6 =$

⑲ $3 \times 5 =$

㉚ $5 \times 6 =$

㉗ $3 \times 8 =$

㉚ $6 \times 5 =$

⑩ $2 \times 5 =$

㉔ $5 \times 8 =$

㉛ $6 \times 4 =$

㉘ $4 \times 7 =$

㉛ $8 \times 8 =$

分

※むずかしいもんだいに ちょうせんしよう！

3年生の教か書 P20、21を見ながらやってみよう！

☆ヒント1 たとえばこんなときは…

パー(3点)で勝^かった回数が2回… $3 \times 2 = 6$ 6点

パー(3点)で勝^かった回数が0回… $3 \times 0 = 0$ 0点

と考えます。

☆ヒント2 たとえばこんなときは…

ま^ま負けた回数が5回… $0 \times 5 = 0$ 0点

ま^ま負けた回数が2回… $0 \times 2 = 0$ 0点

ま^ま負けた回数が0回… $0 \times 0 = 0$ 0点

と考えます。

※れんしゅうもんだい

① 9×0

② 0×8

③ 4×0

④ 0×0



さいごまでよくがんばりました。

2年生のふくしゅうにチャレンジ③！

50もんを何分でできるかちょうせんしよう！



名前

① $9 \times 2 = 18$

⑪ $6 \times 1 = 6$

⑲ $4 \times 6 = 24$

⑳ $2 \times 6 = 12$

㉑ $5 \times 1 = 5$

② $4 \times 8 = 32$

⑫ $3 \times 7 = 21$

⑳ $8 \times 9 = 72$

㉒ $1 \times 7 = 7$

㉓ $6 \times 2 = 12$

③ $6 \times 3 = 18$

⑬ $4 \times 1 = 4$

㉔ $2 \times 8 = 16$

㉕ $4 \times 5 = 20$

㉔ $9 \times 3 = 27$

④ $8 \times 4 = 32$

⑭ $7 \times 8 = 56$

㉖ $5 \times 3 = 15$

㉖ $5 \times 2 = 10$

㉕ $5 \times 5 = 25$

⑤ $4 \times 9 = 36$

⑮ $4 \times 4 = 16$

㉗ $9 \times 1 = 9$

㉗ $2 \times 9 = 18$

㉖ $6 \times 8 = 48$

⑥ $5 \times 7 = 35$

⑯ $2 \times 1 = 2$

㉘ $8 \times 6 = 48$

㉘ $6 \times 9 = 54$

㉗ $1 \times 7 = 7$

⑦ $9 \times 4 = 36$

⑰ $4 \times 3 = 12$

㉙ $7 \times 7 = 49$

㉙ $8 \times 7 = 56$

㉘ $7 \times 9 = 63$

⑧ $6 \times 6 = 36$

⑱ $6 \times 7 = 42$

㉚ $8 \times 5 = 40$

㉚ $6 \times 9 = 54$

㉙ $5 \times 4 = 20$

⑨ $3 \times 6 = 18$

⑲ $3 \times 5 = 15$

㉛ $5 \times 6 = 30$

㉛ $3 \times 8 = 24$

㉙ $6 \times 5 = 30$

⑩ $2 \times 5 = 10$

㉔ $5 \times 8 = 40$

㉜ $6 \times 4 = 24$

㉜ $4 \times 7 = 28$

㉙ $8 \times 8 = 64$

分



さいごまでよくがんばりました。

※むずかしいもんだいに ちょうせんしよう！

3年生の教か書 P20、21をやってみよう！

☆ヒント1 たとえばこんなときは…

パー(3点)で勝^かった回数が2回… $3 \times 2 = 6$ 6点

パー(3点)で勝^かった回数が0回… $3 \times 0 = 0$ 0点

と考えます。

☆ヒント2 たとえばこんなときは…

※れんしゅうもんだいの答え

① $9 \times 0 = 0$

② $0 \times 8 = 0$

③ $4 \times 0 = 0$

④ $0 \times 0 = 0$

今までのふくしゅうにチャレンジ④！

50もんを何分でできるかちょうせんしよう！



名前

① $9 \times 10 =$

⑪ $2 \times 0 =$

⑲ $10 \times 6 =$

⑳ $10 \times 6 =$

㉑ $10 \times 1 =$

② $0 \times 8 =$

⑫ $10 \times 0 =$

⑳ $0 \times 9 =$

㉒ $1 \times 0 =$

㉓ $6 \times 0 =$

③ $10 \times 4 =$

⑬ $0 \times 1 =$

㉔ $0 \times 8 =$

㉓ $10 \times 5 =$

㉔ $0 \times 3 =$

④ $8 \times 0 =$

⑭ $10 \times 8 =$

㉕ $10 \times 3 =$

㉔ $10 \times 2 =$

㉕ $5 \times 0 =$

⑤ $5 \times 10 =$

⑮ $10 \times 4 =$

㉖ $0 \times 1 =$

㉕ $2 \times 0 =$

㉖ $6 \times 10 =$

⑥ $10 \times 6 =$

⑯ $0 \times 1 =$

㉖ $10 \times 6 =$

㉖ $6 \times 0 =$

㉖ $10 \times 7 =$

⑦ $1 \times 0 =$

⑰ $0 \times 3 =$

㉗ $7 \times 0 =$

㉗ $8 \times 10 =$

㉗ $7 \times 0 =$

⑧ $6 \times 10 =$

⑱ $10 \times 7 =$

㉘ $0 \times 5 =$

㉘ $10 \times 9 =$

㉘ $10 \times 4 =$

⑨ $0 \times 6 =$

⑲ $3 \times 10 =$

㉙ $5 \times 10 =$

㉙ $0 \times 8 =$

㉙ $6 \times 10 =$

⑩ $2 \times 10 =$

㉚ $5 \times 0 =$

㉚ $6 \times 0 =$

㉚ $10 \times 7 =$

㉚ $0 \times 0 =$

分



さいごまでよくがんばりました。

今までのふくしゅうにチャレンジ④！

50もんを何分でできるかちょうせんしよう！



名前

① $9 \times 10 = 90$

⑪ $2 \times 0 = 0$

⑲ $10 \times 6 = 60$

⑳ $10 \times 6 = 60$

㉑ $10 \times 1 = 10$

② $0 \times 8 = 0$

⑫ $10 \times 0 = 0$

⑳ $0 \times 9 = 0$

㉒ $1 \times 0 = 0$

㉓ $6 \times 0 = 0$

③ $10 \times 4 = 40$

⑬ $0 \times 1 = 0$

㉔ $0 \times 8 = 0$

㉓ $10 \times 5 = 50$

㉔ $0 \times 3 = 0$

④ $8 \times 0 = 0$

⑭ $10 \times 8 = 80$

㉕ $10 \times 3 = 30$

㉔ $10 \times 2 = 20$

㉕ $5 \times 0 = 0$

⑤ $5 \times 10 = 50$

⑮ $10 \times 4 = 40$

㉖ $0 \times 1 = 0$

㉕ $2 \times 0 = 0$

㉖ $6 \times 10 = 60$

⑥ $10 \times 6 = 60$

⑯ $0 \times 1 = 0$

㉗ $10 \times 6 = 60$

㉖ $6 \times 0 = 0$

㉗ $10 \times 7 = 70$

⑦ $1 \times 0 = 0$

⑰ $0 \times 3 = 0$

㉘ $7 \times 0 = 0$

㉖ $8 \times 10 = 80$

㉘ $7 \times 0 = 0$

⑧ $6 \times 10 = 60$

⑱ $10 \times 7 = 70$

㉙ $0 \times 5 = 0$

㉖ $10 \times 9 = 90$

㉙ $10 \times 4 = 40$

⑨ $0 \times 6 = 0$

⑳ $3 \times 10 = 30$

㉚ $5 \times 10 = 50$

㉖ $0 \times 8 = 0$

㉚ $6 \times 10 = 60$

⑩ $2 \times 10 = 20$

㉑ $5 \times 0 = 0$

㉑ $6 \times 0 = 0$

㉖ $10 \times 7 = 70$

㉑ $0 \times 0 = 0$

分



さいごまでよくがんばりました。

2年生のふくしゅうにチャレンジ⑤!

時こくと時間



名前

○ にあてはまる時間のたんいをかきましょう。

① ごはんを食べるのに20 かかりました。

② 遠足で3 歩きました。

○ にあてはまる数をかきましょう。

① 1時間 = 分

② 1日 = 時間


○ つぎの時間や時こくをもとめましょう。

① 午前7時から正午までの時間

② 午前10時から午後3時までの時間


③ 午後4時から3時間後の時こく

時こくをかくときには、午前・午後はつけたかな？




○ つぎの数を時こくは何時何分ですか。

①




朝、起きた時こく

②




昼ごはんを食べた時こく

③




夕方、家に帰ってきた時こく

④



夜、ねた時こく



さいごまでよくがんばりました。

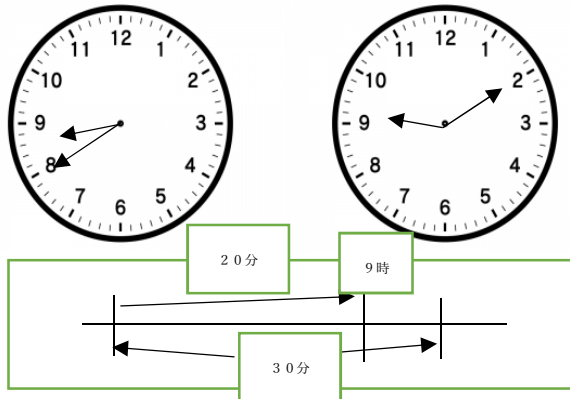
*むずかしいもんだいに ちょうせんしよう

3年生の教か書 P28 を見ながらやってみよう！

<もんだい>

学校を8時40分に出て、30分歩くと商店がいにつきました。ついた時こくは何時何分ですか？

<考え方>



<こたえ>・・・9時10分

ちょうどの時こく
をもとに考えると
時こくをもとめや
すい！

2年生のふくしゅうにチャレンジ⑤！

時こくと時間



名前

○ にあてはまる時間のたんいをかきましよう。

① ごはんを食べるのに20 分(間) かかりました。

② 遠足で3 時間 歩きました。

○ にあてはまる数をかきましよう。

① 1時間 = 60 分

② 1日 = 24 時間

○ つぎの時間や時こくをもとめましよう。

① 午前7時から正午までの時間

5時間


② 午前10時から午後3時までの時間

5時間

③ 午後4時から3時間後の時こく


午後7時

時こくをかくときには、午前・午後はつけたかな？



○ つぎの数を時こくは何時何分ですか。


①



朝、起きた時こく

午前7時


②



昼ごはんを食べた時こく

午後0時30分


③



夕方、家に帰ってきた時こく

午後5時10分

④



夜、ねた時こく

午後8時40分



さいごまでよくがんばりました。

2年生のふくしゅうにチャレンジ⑥！

たし算とひき算のひっさん



名前

①

| | | |
|-------|---|---|
| | 4 | 2 |
| + | 5 | 7 |
| ----- | | |
| | | |

②

| | | |
|-------|---|---|
| | 3 | 4 |
| + | 5 | 0 |
| ----- | | |
| | | |

③

| | | |
|-------|---|---|
| | 5 | 7 |
| + | 2 | 9 |
| ----- | | |
| | | |

④

| | | |
|-------|---|---|
| | 3 | 8 |
| + | 3 | 5 |
| ----- | | |
| | | |

⑤

| | | |
|-------|---|---|
| | 6 | 4 |
| - | 4 | 2 |
| ----- | | |
| | | |

⑥

| | | |
|-------|---|---|
| | 5 | 6 |
| - | 3 | 5 |
| ----- | | |
| | | |

⑦

| | | |
|-------|---|---|
| | 4 | 1 |
| - | 2 | 5 |
| ----- | | |
| | | |

⑧

| | | |
|-------|---|---|
| | 9 | 0 |
| + | 7 | 3 |
| ----- | | |
| | | |

⑨

| | | |
|-------|---|---|
| | 7 | 6 |
| + | 4 | 3 |
| ----- | | |
| | | |

⑩

| | | |
|-------|---|---|
| | 8 | 4 |
| + | 4 | 9 |
| ----- | | |
| | | |

⑪

| | | |
|-------|---|---|
| | 9 | 2 |
| + | 1 | 8 |
| ----- | | |
| | | |

⑫

| | | | |
|-------|---|---|---|
| | 1 | 2 | 4 |
| - | | 5 | 2 |
| ----- | | | |
| | | | |

⑬

| | | | |
|-------|---|---|---|
| | 1 | 7 | 0 |
| - | | 9 | 4 |
| ----- | | | |
| | | | |

⑭

| | | | |
|-------|---|---|---|
| | 1 | 0 | 2 |
| - | | 3 | 6 |
| ----- | | | |
| | | | |

くり上がり、くり下がりはだいじょうぶかな？

※むずかしいもんだいに ちょうせんしょう!

①

| | | | |
|---|---|---|---|
| | 3 | 2 | 5 |
| + | 4 | 7 | 2 |
| | | | |

②

| | | | |
|---|---|---|---|
| | 5 | 0 | 2 |
| + | 4 | 3 | 1 |
| | | | |

③

| | | | |
|---|---|---|---|
| | 7 | 6 | 5 |
| - | 4 | 1 | 3 |
| | | | |

④

| | | | |
|---|---|---|---|
| | 5 | 8 | 7 |
| - | 3 | 2 | 4 |
| | | | |



さいごまでよくがんばりました。

2年生のふくしゅうにチャレンジ⑥！

たし算とひき算のひっさん



名前

①

| | | |
|-------|---|---|
| | 4 | 2 |
| + | 5 | 7 |
| <hr/> | | |
| | 9 | 9 |

②

| | | |
|-------|---|---|
| | 3 | 4 |
| + | 5 | 0 |
| <hr/> | | |
| | 8 | 4 |

③

| | | |
|-------|---|---|
| | 5 | 7 |
| + | 2 | 9 |
| <hr/> | | |
| | 8 | 6 |

④

| | | |
|-------|---|---|
| | 3 | 8 |
| + | 3 | 5 |
| <hr/> | | |
| | 7 | 3 |

⑤

| | | |
|-------|---|---|
| | 6 | 4 |
| - | 4 | 2 |
| <hr/> | | |
| | 2 | 2 |

⑥

| | | |
|-------|---|---|
| | 5 | 6 |
| - | 3 | 5 |
| <hr/> | | |
| | 2 | 1 |

⑦

| | | |
|-------|---|---|
| | 4 | 1 |
| - | 2 | 5 |
| <hr/> | | |
| | 1 | 6 |

⑧

| | | |
|-------|---|---|
| | 9 | 0 |
| + | 7 | 3 |
| <hr/> | | |
| 1 | 6 | 3 |

⑨

| | | |
|-------|---|---|
| | 7 | 6 |
| + | 4 | 3 |
| <hr/> | | |
| 1 | 1 | 9 |

⑩

| | | |
|-------|---|---|
| | 8 | 4 |
| + | 4 | 9 |
| <hr/> | | |
| 1 | 3 | 3 |

⑪

| | | |
|-------|---|---|
| | 9 | 2 |
| + | 1 | 8 |
| <hr/> | | |
| 1 | 1 | 0 |

⑫

| | | | |
|-------|---|---|---|
| | 1 | 2 | 4 |
| - | | 5 | 2 |
| <hr/> | | | |
| | | 7 | 2 |


⑬

| | | | |
|-------|---|---|---|
| | 1 | 7 | 0 |
| - | | 9 | 4 |
| <hr/> | | | |
| | | 7 | 6 |

⑭

| | | | |
|-------|---|---|---|
| | 1 | 0 | 2 |
| - | | 3 | 6 |
| <hr/> | | | |
| | | 6 | 6 |

※むずかしいもんだいの答え ①797 ②933 ③352 ④263



くい上がり、くい下がりは大いじょうぶかな？さいごまでよくがんばりました。

理科① しょくぶつの写真をスケッチしよう

名前

①さいごのページ ふろくの植物^{しょくぶつ}シートの中から
1つえらぼう。

② 色、形、大きさにちゅういして、そっくりかいて
みよう。

☆12ページのけっかのかんさつカードを見ながら
かいてみよう。

生きものは…

① 色 ②形 ③大きさ

などにはいているところや、ちがうところが

あります。

えらんだしょくぶつ ()

色 _____

形 _____

大きさ _____



いろいろなうごきをしてみよう!

⑥けがにきをつけて
いたいとおもたら
むりをしないでね!

たのしくきもちよくからだをうごかしてみよう。
できたら😊にいろをぬりましょう

①かにかるき



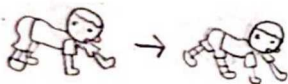
りょうてをちよきにしておのよこにもてきます。
こしをおとしておおきくよこにふるきます。



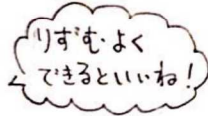

②くまあるき



りょうてをゆかに
つけます
あたまよりこしをたか
くします。
ひざをまげます



「てあしてあし」の
じゃんはんであるきます。



③あざらしあるき



ゆかにからだをつけます
りょうてをますぐのはし
おなかよりうえのからだを
おこします。
あしをのほします。



りょうてをついて
うでのちからだだけで
まえにすすめます。




④くもあるき



おなかをうえにむけます。
ゆかにてをついてのほします
あしはまけてたてます




せな分はますぐのまま
すきなほうこうに
すすめます




⑤うさぎとび



てをのほしてひざをまげます
こしはあたまよりたかくします



てをまえにつきます
からだをまえにもて
いきます。



あしをてのついた
ところまでひきつけて
とびます。



⑥めをとしてかたあしではらんす



10までかぞえてみよう!
いくつまであしをつかずにできるかな?



⑦からだでじゃんけんぽん!

からだぜんぶをつかってじゃんけんしてみよう



しゃが



てとあしを
たてにひろげる



てとあしを
よこにひろげる

