

けいさんプリント①

2年 くみ なまえ ()

$① \quad 8 + 8$

$② \quad 3 + 9$

$③ \quad 9 + 6$

$④ \quad 7 + 4$

$⑤ \quad 3 + 7$

$⑥ \quad 2 + 6$

$⑦ \quad 6 + 6$

$⑧ \quad 8 + 3$

$⑨ \quad 6 + 7$

$⑩ \quad 8 + 9$

$⑪ \quad 9 + 1$

$⑫ \quad 4 + 9$

$⑬ \quad 7 + 8$

$⑭ \quad 3 + 9$

$⑮ \quad 4 + 7$

$⑯ \quad 4 + 8$

$⑰ \quad 9 + 7$

$⑱ \quad 7 + 5$

$⑲ \quad 3 + 8$

$⑳ \quad 9 + 9$

けいさんプリント②

2年 くみ なまえ ()

① $9 + 9$

② $8 + 2$

③ $7 + 7$

④ $6 + 9$

⑤ $5 + 6$

⑥ $8 + 5$

⑦ $6 + 3$

⑧ $8 + 2$

⑨ $9 + 1$

⑩ $6 + 8$

⑪ $12 - 4$

⑫ $15 - 8$

⑬ $14 - 7$

⑭ $11 - 4$

⑮ $15 - 7$

⑯ $14 - 6$

⑰ $11 - 2$

⑱ $13 - 8$

⑲ $14 - 9$

⑳ $15 - 9$

けいさんプリント③

2年 くみ なまえ ()

☆ たしざんの「ひっさん」をやってみよう。

$$\begin{array}{r} \text{れい1} \\ 8 \\ + 1 \\ \hline 9 \end{array}$$

十のくらいと
一のくらいに

$$\begin{array}{r} \text{れい2} \\ 8 \\ + 2 \\ \hline 10 \end{array}$$

$$\begin{array}{r} \text{①} \\ 7 \\ + 2 \\ \hline \end{array}$$

$$\begin{array}{r} \text{②} \\ 6 \\ + 3 \\ \hline \end{array}$$

$$\begin{array}{r} \text{③} \\ 2 \\ + 8 \\ \hline \end{array}$$

$$\begin{array}{r} \text{④} \\ 7 \\ + 3 \\ \hline \end{array}$$

$$\begin{array}{r} \text{⑤} \\ 6 \\ + 4 \\ \hline \end{array}$$

$$\begin{array}{r} \text{⑥} \\ 5 \\ + 5 \\ \hline \end{array}$$

$$\begin{array}{r} \text{⑦} \\ 4 \\ + 6 \\ \hline \end{array}$$

$$\begin{array}{r} \text{⑧} \\ 3 \\ + 7 \\ \hline \end{array}$$

$$\begin{array}{r} \text{⑨} \\ 2 \\ + 8 \\ \hline \end{array}$$

$$\begin{array}{r} \text{⑩} \\ 1 \\ + 9 \\ \hline \end{array}$$

けいさんプリント①〔こたえ〕 2年 くみ なまえ ()

$$\textcircled{1} \quad 8 + 8 = 16$$

$$\textcircled{2} \quad 3 + 9 = 12$$

$$\textcircled{3} \quad 9 + 6 = 15$$

$$\textcircled{4} \quad 7 + 4 = 11$$

$$\textcircled{5} \quad 3 + 7 = 10$$

$$\textcircled{6} \quad 2 + 6 = 8$$

$$\textcircled{7} \quad 6 + 6 = 12$$

$$\textcircled{8} \quad 8 + 3 = 11$$

$$\textcircled{9} \quad 6 + 7 = 13$$

$$\textcircled{10} \quad 8 + 9 = 17$$

$$\textcircled{11} \quad 9 + 1 = 10$$

$$\textcircled{12} \quad 4 + 9 = 13$$

$$\textcircled{13} \quad 7 + 8 = 15$$

$$\textcircled{14} \quad 3 + 9 = 12$$

$$\textcircled{15} \quad 4 + 7 = 11$$

$$\textcircled{16} \quad 4 + 8 = 12$$

$$\textcircled{17} \quad 9 + 7 = 16$$

$$\textcircled{18} \quad 7 + 5 = 12$$

$$\textcircled{19} \quad 3 + 8 = 11$$

$$\textcircled{20} \quad 9 + 9 = 18$$

けいさんプリント②〔こたえ〕2年 くみ なまえ ()

① $9 + 9 = 18$

② $8 + 2 = 10$

③ $7 + 7 = 14$

④ $6 + 9 = 15$

⑤ $5 + 6 = 11$

⑥ $8 + 5 = 13$

⑦ $6 + 3 = 9$

⑧ $8 + 2 = 10$

⑨ $9 + 1 = 10$

⑩ $6 + 8 = 14$

⑪ $12 - 4 = 8$

⑫ $15 - 8 = 7$

⑬ $14 - 7 = 7$

⑭ $11 - 4 = 7$

⑮ $15 - 7 = 8$

⑯ $14 - 6 = 8$

⑰ $11 - 2 = 9$

⑱ $13 - 8 = 5$

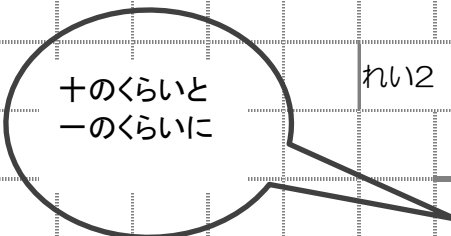
⑲ $14 - 9 = 5$

⑳ $15 - 9 = 6$

けいさんプリント③ [こたえ] 2年 くみ なまえ ()

☆ たしざんの「ひっさん」をやってみよう。

$$\begin{array}{r} \text{れい1} \\ + \\ 8 \\ 1 \\ \hline 9 \end{array}$$



$$\begin{array}{r} \text{れい2} \\ + \\ 8 \\ 2 \\ \hline 10 \end{array}$$

$$\begin{array}{r} \text{①} \\ + \\ 7 \\ 2 \\ \hline 9 \end{array}$$

$$\begin{array}{r} \text{②} \\ + \\ 6 \\ 3 \\ \hline 9 \end{array}$$

$$\begin{array}{r} \text{③} \\ + \\ 2 \\ 8 \\ \hline 10 \end{array}$$

$$\begin{array}{r} \text{④} \\ + \\ 7 \\ 3 \\ \hline 10 \end{array}$$

$$\begin{array}{r} \text{⑤} \\ + \\ 6 \\ 4 \\ \hline 10 \end{array}$$

$$\begin{array}{r} \text{⑥} \\ + \\ 5 \\ 5 \\ \hline 10 \end{array}$$

$$\begin{array}{r} \text{⑦} \\ + \\ 4 \\ 6 \\ \hline 10 \end{array}$$

$$\begin{array}{r} \text{⑧} \\ + \\ 3 \\ 7 \\ \hline 10 \end{array}$$

$$\begin{array}{r} \text{⑨} \\ + \\ 2 \\ 8 \\ \hline 10 \end{array}$$

$$\begin{array}{r} \text{⑩} \\ + \\ 1 \\ 9 \\ \hline 10 \end{array}$$


グラフとひょう ①

2年 組 番

名前

① ^え絵を見て、もんだいに ^{こた}答えましょう。

① どうぶつの ^{かず}数を しらべて、
□ に ^か数を 書きましょう。



うま □ ひつじ □

やぎ □

② いちばん ^{おお}多い どうぶつは ^{なん}何ですか。 □

③ うまは ひつじより 何とう
多いですか。 □ とう

① つぎの もんだいは、まだ 学しゅうして
いません。ちょうせんして みましょう。

※
② おはじきの 数を しらべて、
下の グラフに あらわしました。
グラフを見て 答えましょう。

おはじきの 数

			●
	●		●
	●		●
●	●		●
●	●		●
●	●	●	●
●	●	●	●
青	赤	黄き	みどり

① いちばん ^{なにいろ}多いのは、何色の
おはじきですか。

□

② 青の おはじきは 何こですか。

□ こ

③ 赤の おはじきは、黄の
おはじきより 何こ
多いですか。


□ こ

グラフとひょう ②

2年 組 番

名前

1 つぎの ^え絵を ^{こた}見て 答えましょう。



① どうぶつの ^{かず}数を 右の グラフに
○をつかって あらわしましょう。

② どうぶつの 数を 下の ひょうに
かきましょう。

どうぶつ	ぞう	とら	きりん	さい
数				

③ いちばん ^{おお}多い どうぶつは ^{なん}何ですか。

④ 7とう いる どうぶつは 何ですか。

どうぶつの 数

ぞう	とら	きりん	さい	

《こたえ》

グラフとひょう ①

2年


組

番

名前

① ^え絵を見て、もんだいに ^{こた}答えましょう。

① どうぶつの ^{かず}数を しらべて、
□に ^か数を 書きましょう。



うま □ 6 ひつじ □ 3

やぎ □ 8

② いちばん ^{おお}多い どうぶつは
^{なん}何ですか。 □ やぎ

③ うまは ひつじより ^{なん}何とう
多いですか。 □ 3 とう

① つぎの もんだいは、まだ 学しゅうして
いません。ちようせんして みましょう。

※

② おはじきの 数を しらべて、
下の グラフに あらわしました。
グラフを 見て 答えましょう。

おはじきの 数

			●
	●		●
	●		●
●	●		●
●	●		●
●	●	●	●
●	●	●	●
青	赤	黄き	みどり

① いちばん ^{なにい}多いのは、何色の
おはじきですか。

みどり

② 青の おはじきは 何こですか。

4 こ

③ 赤の おはじきは、黄の
おはじきより 何こ
多いですか。

4 こ

《こたえ》

グラフとひょう ②


2年

組

番

名前

1 つぎの ^え絵を見て ^{こた}答えましょう。



① どうぶつの ^{かず}数を右のグラフに
○をつかってあらわしましょう。

② どうぶつの数を下のひょうに
かきましょう。

どうぶつ	ぞう	とら	きりん	さい
数	4	9	5	7

どうぶつの数

	○		
	○		
	○		○
	○	○	○
○	○	○	○
○	○	○	○
○	○	○	○
○	○	○	○
ぞう	とら	きりん	さい

③ いちばん ^{おお}多い どうぶつは ^{なん}何ですか。

とら

④ 7とう いる どうぶつは 何ですか。

さい

1

いち年のかん字のまとめ①

なまえ

点

◆かん字をかきまじょう。

各5点

① たかい

やま
。

②

くち

を
あける。

③

ひと

に
あう。

④

お
ひ

さま

⑤

に

かいだて

⑥

た

んぼの
虫。

⑦

みつ

つの
あめ。

⑧

なか

に
入る。

⑨

お
つき

さま

⑩

おんな

の
ひと。

⑪

した

を
見る。

⑫

はな

が
さく。

⑬

ひだり

に
まがる。

⑭

やまの

うえ
。

⑮

みず

が
ながれる。

⑯

ちい

さい
貝。

⑰

百
えん

玉

⑱

ご

さいの
子。

⑲

いち

年生

⑳

もり

の
どうぶつ。

一年のかん字のまとめ ②

なまえ

◆かん字をかきましよう。

各5点

① おおきな石。

② しちじにおきる。

③ じゅうぎん。

④ きをうえる。

⑤ ちからがつよい。

⑥ みぎをむく。

⑦ ほんをよむ。

⑧ げんきな。

⑨ せいそら。

⑩ かわのみず。

⑪ おうさまのて。

⑫ ちろくばんめ。

⑬ あめがふる。

⑭ 学校のもの。

⑮ ぶんをか。

⑯ めをあける。

⑰ づきが。

⑱ きゆうだいのくるま。

⑲ たけやぶ。

⑳ はちがつうまれ。

◆ kanji を かきまじょう。

各5点

① ど
よう日

② ゆう
がたに なる。

③ ひ
を つける。

④ まえを
 み
る。

⑤ な
まえを よぶ。

⑥ しろ
いくも。

⑦ きん
よう日

⑧ おと
が する。

⑨ はやし
を あるく。

⑩ し
月^{がつ}に なる。

⑪ じどう
 しゃ

⑫ いぬ
が ほえる。

⑬ せん
円^{えん}さつ

⑭ 目
 だま
やき

⑮ て
を あらう。

⑯ はや
く おきる。

⑰ じ
を かく。

⑱ いし
を ひろう。

⑲ いと
を とおす。

⑳ おとこ
の 人。

1

いち年のかん字のまとめ①

なまえ

点

◆かん字をかきまじょう。

各5点

① たかい

山 やま

②

口 くち
を あける。

③

人 ひと
に あう。

④

お 日 ひ
さま

⑤

二 に
かいだて

⑥

田 た
んぼの 虫。

⑦

三 みつ
つの あめ。

⑧

中 なか
に 入る。

⑨

お 月 つき
さま

⑩

女 おんな
の ひと。

⑪

下 した
を 見る。

⑫

花 はな
が さく。

⑬

左 ひだり
に まがる。

⑭

やまの
上 うえ

⑮

水 みず
が ながれる。

⑯

小 ちい
さい 貝。

⑰

百 円 えん
玉

⑱

五 ご
さいの子。

⑲

一 いち
年生

⑳

森 もり
の どうぶつ。

◆かん字をかきまじょう。

各5点

① **大** おお
きな石。

② **七** しち
じに おきる。

③ **十** じゅう
円玉

④ **木** き
を うえる。

⑤ **力** ちから
が つよい。

⑥ **右** みぎ
を むく。

⑦ **本** ほん
を よむ。

⑧ **げんきな**
子 こ

⑨ **青い**
空 そら

⑩ **川** かわ
の 水。

⑪ **王** おう
さまの 手。

⑫ **六** ろく
ばんめ

⑬ **雨** あめ
が ふる。

⑭ **学** 学校
校 こう
の もん。

⑮ **文** ぶん
を かく。

⑯ **目** め
を あける。

⑰ **月** が
出 出
る。

⑱ **九** きゅう
だいの 車。

⑲ **竹** たけ
やぶ

⑳ **八** はち
月うまれ

◆ kanji を かきまじょう。

各5点

① 土 ど
よう日

② 夕 ゆう
がたに
なる。

③ 火 ひ
を
つける。

④ まえを
見 み
る。

⑤ 名 な
まえを
よぶ。

⑥ 白 しろ
い
くも。

⑦ 金 きん
よう日

⑧ 音 おと
が
する。

⑨ 林 はやし
を
あるく。

⑩ 四 し
月 がつ
に
なる。

⑪ じどう
車 しゃ

⑫ 犬 いぬ
が
ほえる。

⑬ 千 せん
円 えん
さつ

⑭ 目
玉 たま
やき

⑮ 手 て
を
あらう。

⑯ 早 はや
く
おきる。

⑰ 字 じ
を
かく。

⑱ 石 いし
を
ひろう。

⑲ 糸 いと
を
とおす。

⑳ 男 おとこ
の
人。