


1年
4
解説

たしざんと ひきざん

—ねん —くみ
なまえ

① $4 + 3 - 1$

$$\begin{array}{c} \boxed{} \\ | \\ \boxed{7} \end{array}$$




$$\boxed{7} - 1 = 6$$

まず $4 + 3$ の けいさんを
します。

つぎに $4 + 3$ の こたえから
1 を ひきます。

② $6 - 2 + 5$


$$\begin{array}{c} \boxed{} \\ | \\ \boxed{4} \end{array}$$



$$\boxed{4} + 5 = 9$$

③ $10 - 9 + 7$

$$\begin{array}{c} \boxed{} \\ | \\ \boxed{1} \end{array}$$



$$\boxed{1} + 7 = \boxed{8}$$