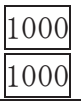
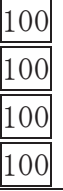






<b>2年</b> <div style="border: 1px solid black; padding: 2px; display: inline-block; margin: 2px;">1</div> <b>(2)</b>	<b>1万までの数</b>	年 組 名前
--	---------------	-----------

数を数字で書きましょう。

①  千のくらい	 百のくらい	 十のくらい	 一のくらい
---	--	--	--

②七千三百九十八  
 ( )

③四千十五  
 ( )

④千二百三  
 ( )

⑤九千四  
 ( )

□にあてはまる数を書きましょう。

⑥1000を3こ、100を4こ、10を8こ、  
 1を5こあわせた数は□です。

⑦5461は、1000を□こ、  
 100を□こ、10を□こ、  
 1を□こあわせた数です。

⑧千のくらいが6、百のくらいが2、  
 十のくらいが3、一のくらいが8  
 の数は□です。

⑨100を43こあつめた数は□です。

⑩8900は10を□こあつめた数です。

□にあてはまる数を書きましょう。

⑪

3950	3960	□	□	3990	□	□	4020

⑫

□	4500	4600	□	4800	□	□	5100

⑬

6500	□	7500	8000	□	□	9500	□

<b>2年</b> <b>1</b> <b>(3)</b>	<b>1万までの数</b>	年 組 名前
-------------------------------------	---------------	-----------

つぎの文をしきにあらわしましょう。

①

6170は、  
6000と100と70を  
あわせた数です。

6170 =  +  +

□にあてはまる「>」、「=」、「<」を書きましょう。

② 9000  8800

③ 4300  4500

④ 1790  1730

⑤ 2500  2000+500

⑥ 6100  6000+300

□にあてはまる数を書きましょう。

⑦ 1000を5こ、10を6こ、1を9こ  
あわせた数は  です。

⑧ 3800は  と800を  
あわせた数です。

⑨ 5700は6000より  
 小さい数です。

⑩ 2400は2000より  
 大きい数です。

⑪ 10000より3000小さい数は  
 です。

□にあてはまる数を書きましょう。

⑫

⑬

⑭

<b>2年</b> <b>1</b> <b>(4)</b>	<b>1万までの数</b>	年 組 名前
-------------------------------------	---------------	-----------

つぎの文をしきにあらわしましょう。

① 3502は、  
3000と500と2を  
あわせた数です。

3502 =  +  +

□にあてはまる「>」、「=」、「<」を  
書きましょう。

② 3021  2983

③ 5684  5716

④ 9382  9379

⑤ 6212  6000+200

⑥ 8051  8000+50+1

□にあてはまる数を書きましょう。

⑦ 1000を9こ、100を1こ、10を2こ  
あわせた数は  です。

⑧ 100を100こあつめた数は  
 です。

⑨ 8900は  より  
100小さい数です。

⑩ 10000は6000より  
 大きい数です。

⑪ 4000より600小さい数は  
 です。

□にあてはまる数を書きましょう。

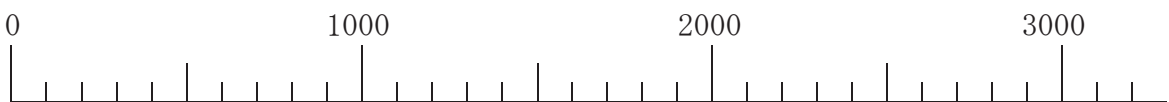
2480  2490

4800  4900   5100

9700  9800  9900

2年 1 (5)	1万までの数	____年 ____組 名前
----------------	--------	-------------------

2600という数について答えましょう。



①上の数の線で、2600をあらわすめもりに↓をかきましょう。

・□に入る数をかきましょう。

②2600は、と600をあわせた数です。

③2600は、100をこあつめた数です。

④2600は、3000より小さい数です。

・2600のあらわし方をじゆうに考えてみましょう。

⑤2600は、数です。

⑥2600は、数です。

⑦2600は、数です。