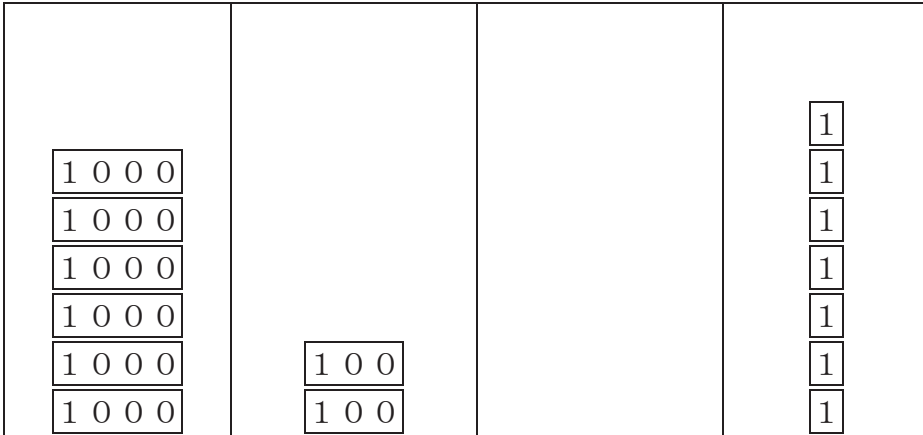


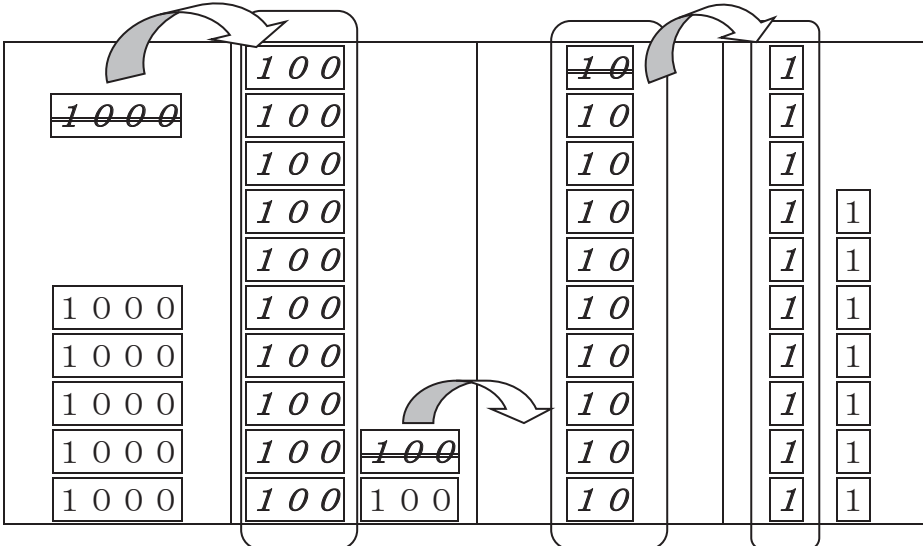
3年 3 解説	整数のひき算	____年 ____組 名前
------------------------------------	---------------	-------------------

6 2 0 7 - 3 8 4 9

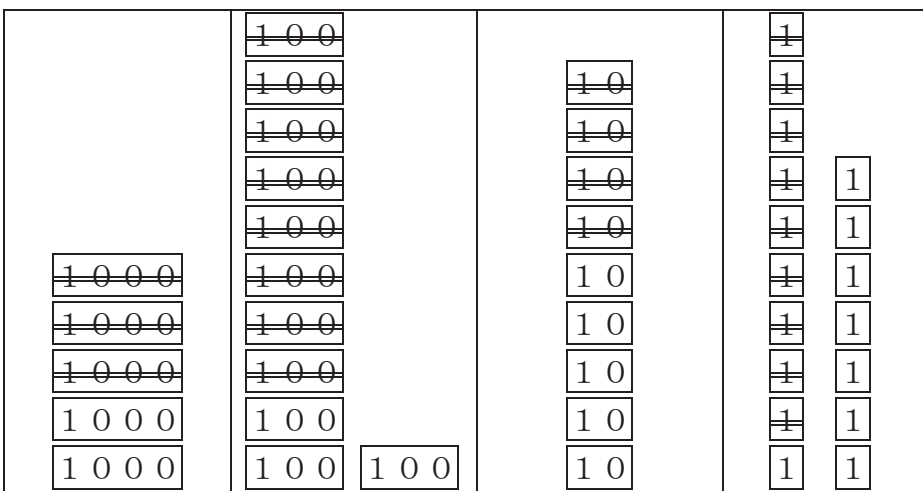
千のまとまり	百のまとまり	十のまとまり	一
--------	--------	--------	---



はじめの
6 2 0 7



それぞれのまとまりで、くり下がり考えて図に表すと……



2

3

5

8

$$\begin{array}{r}
 9 \\
 51\cancel{10} \\
 \cancel{6}\cancel{2}\cancel{0}7 \\
 - 3849 \\
 \hline
 2358
 \end{array}$$