

3年

7

(1)

## 小数のたし算

\_\_\_年 \_\_\_組

名前

① 次の□に当てはまる数をかきましょう。

0.3+0.5の計算のしかたを考えましょう。

①0.3は0.1が□こ、0.5は

0.1が□こです。

②合わせると、0.1が(3+5)こなので、

□になります。

② 計算をしましょう。

①  $0.2+0.4$

②  $0.5+0.2$

③  $1.5+0.4$

④  $2.1+0.6$

⑤  $3+0.7$

⑥  $0.4+3$

⑦  $0.4+0.6$

⑧  $0.7+0.3$

⑨  $0.6+0.8$

⑩  $0.9+0.7$

③ ポットに水が1.3L入っています。

①0.6Lの水を入れると、全部で何Lになりますか。

式

答え

②1.2Lの水を入れると、全部で何Lになりますか。

式

答え

④ 牛にゆうを朝0.7L、夜0.6Lのみました。合わせて何Lのみましたか。

式

答え

⑤ 0.3mのロープがあります。1.5mのロープとつなぎました。合わせて何mになりましたか。

式

答え

<b>3年</b> <b>7</b> <b>(2)</b>	<b>小数のたし算</b>	____年 ____組 名前
-------------------------------------	---------------	-------------------

- 1 次の文章は小数のたし算のひっ算をせつ明しています。□に当てはまる言葉をかきましよう。
- ① □ をそろえてかく。
- ② □ のたし算と同じように計算する。
- ③ 上の小数点にそろえて、答えの □ をうつ。
- ④ 次のひっ算をしましよう。

	2	6
+	1	3

- 2 ひっ算をしましよう。
- ①
- |   |   |   |
|---|---|---|
|   | 5 | 4 |
| + | 0 | 8 |
|   |   |   |
- ②
- |   |   |   |
|---|---|---|
|   | 5 | 2 |
| + | 4 | 3 |
|   |   |   |
- ③
- |   |   |   |
|---|---|---|
|   | 7 | 6 |
| + | 1 | 8 |
|   |   |   |
- ④
- |   |   |   |
|---|---|---|
|   | 0 | 3 |
| + | 6 |   |
|   |   |   |

- 3 赤いテープが2m60cm、青いテープが1m50cmあります。

- ① 赤いテープの長さは何mですか。
- ② 青いテープの長さは何mですか。
- ③ 赤いテープと青いテープを合わせると、何mになりますか。

式

答え

- 4 3.6Lの水と2.8Lの水を合わせました。全部で何Lですか。

式

答え

3年 7 (3)	小数のたし算	___年 ___組
		名前

1 □に当てはまる数をかきましょう。

①3 d L と 4L を合わせた数は  L

②0.4m と 1.2m を合わせた数は  m

③0.7m と 1.9m を合わせた数は  m

④2.5kg と 1.8kg を合わせた数は  kg

⑤2.3 より 0.7 大きい数は

⑥4.5 より 1.6 大きい数は

2 計算をしましょう。

①  $1.1 + 0.7$

②  $4.2 + 1.6$

③  $3.3 + 2.4$

④  $0.8 + 0.3$

⑤  $1.7 + 2.5$

⑥  $2.7 + 2.8$

3 ひっ算で計算をしましょう。

①  $3.5 + 2.9$                       ②  $6.4 + 1.7$

--	--

③  $4.6 + 2.8$                       ④  $1.7 + 5.3$

--	--

4 公園へ行くのに、1.6 km 歩きました。  
そこから図書館までさらに 1.9 km 歩きました。合わせて何 km 歩きましたか。

式

答え

5 2.4 L と 3.8 L のオレンジジュースを合わせると、全部で何 L になりますか。

式

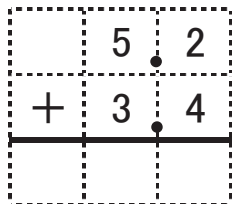
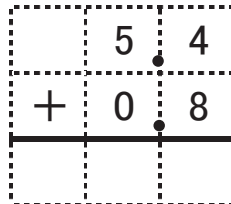
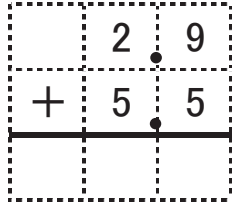
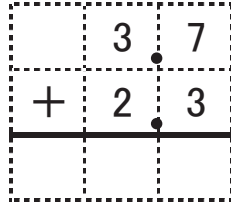
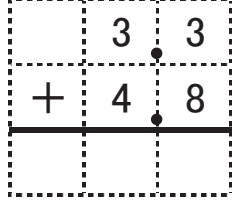
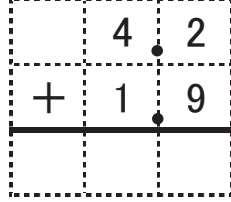
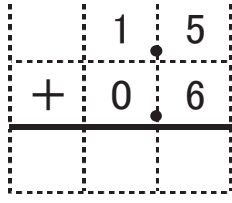
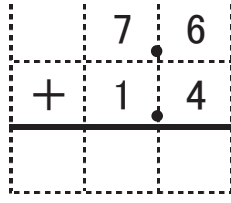
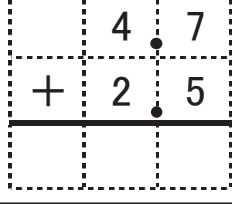
答え

<b>3年</b> <b>7</b> <b>(4)</b>	<b>小数のたし算</b>	__年 __組 名前
-------------------------------------	---------------	---------------

<p>1 5.6mのリボンと 2.3mのリボンをつなぐと、何mになりますか。</p> <p>式</p> <p style="text-align: center;">答え</p> <p>2 まいさんは、2.7kgのすいかと 2.5kgのすいかを持っています。まいさんが持っているすいかの重さは、合わせて何kgになりますか。</p> <p>式</p> <p style="text-align: center;">答え</p> <p>3 ひろしさんは、かじゅう 0.7d Lに 2.3d Lの水を入れて、すべて飲みました。ひろしさんは、何d L飲みましたか。</p> <p>式</p> <p style="text-align: center;">答え</p>	<p>4 水が大きいポットに 3.9L、小さいポットに 1.6L入っています。合わせて何Lありますか。</p> <p>式</p> <p style="text-align: center;">答え</p> <p>5 0.1の25倍の数と、2と0.8を合わせた数があります。</p> <p>①どちらの数が大きいですか。</p> <p>②2つの数を合わせると、いくつですか。</p> <p>式</p> <p style="text-align: center;">答え</p>
---	--

<b>3年</b> <b>7</b> <b>(5)</b>	小数のたし算	____年 ____組 名前
-------------------------------------	--------	-------------------

- ① 計算をしましょう。
- ①  $0.2 + 0.5$
- ②  $0.7 + 0.1$
- ③  $0.6 + 0.3$
- ④  $1 + 0.8$
- ⑤  $1.2 + 0.5$
- ⑥  $0.3 + 1.4$
- ⑦  $1.2 + 2.6$
- ⑧  $3.1 + 2.8$
- ⑨  $1.6 + 2.3$
- ⑩  $2.5 + 2.2$

- ② ひっ算で計算をしましょう。
- ① 
- ② 
- ③ 
- ④ 
- ⑤ 
- ⑥ 
- ⑦ 
- ⑧ 
- ⑨ 
- ⑩ 