

取り組んだ日 月 日

5年
2
(1)

整数と小数の記数法
10倍、100倍、 $1/10$ 、 $1/100$

___年 ___組
名前

1 □に当てはまる数を書きましょう。

$$\textcircled{1} \quad 65.472 = 10 \times \boxed{6} + 1 \times \boxed{5} + 0.1 \times \boxed{4} \\ + 0.01 \times \boxed{7} + 0.001 \times \boxed{2}$$

$$\textcircled{2} \quad 3.628 = 1 \times \boxed{3} + 0.1 \times \boxed{6} + 0.01 \times \boxed{2} + 0.001 \times \boxed{8}$$

$$\textcircled{3} \quad 0.104 = 0.1 \times \boxed{1} + 0.01 \times \boxed{0} + 0.001 \times \boxed{4}$$

2 次の数は0.01を何個集めた数ですか。

$$\textcircled{1} \quad 0.08 \quad (\quad 8 \quad \text{個})$$

$$\textcircled{2} \quad 2.94 \quad (\quad 294 \quad \text{個})$$


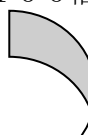

3 下の□に $\boxed{8}$ $\boxed{5}$ $\boxed{1}$ $\boxed{3}$ $\boxed{4}$ の5枚のカードを当てはめてできる数のうち、2番目に大きい数はいくつですか。

| | | | | | |
|---|---|---|---|---|---|
| 8 | 5 | . | 4 | 1 | 3 |
|---|---|---|---|---|---|




| | | |
|-------------------------------------|---|-------------|
| 5年 2 (2) | 整数と小数の記数法 10倍、100倍、1/10、1/100 | ____年 ____組 |
| | | 名前 |

1 次の数を10倍した数、100倍した数を表に書きましょう。

①

| | | | | | | | | | |
|---|--|--|---|---|---|---|---|--|---|
| 10倍 | | | 2 | . | 9 | 4 | | | 100倍 |
|  | | | 2 | | 9 | . | 4 | |  |
| | | | 2 | | 9 | 4 | | |  |

②

| | | | | | | | | | |
|--|--|--|---|---|---|---|---|--|---|
| 10倍 | | | 0 | . | 0 | 1 | | | 100倍 |
|  | | | 0 | | 0 | . | 1 | |  |
| | | | 0 | | 1 | | | |  |
| | | | 1 | | | | | | |

2 次の数を10倍、100倍した数を書きましょう。

(10倍)

(100倍)

① 1.8 (18) (180)

② 30.6 (306) (3060)

③ 9.13 (91.3) (913)

④ 43.09 (430.9) (4309)

3 計算をしましょう。

① $1.34 \times 10 = 13.4$

② $3.09 \times 100 = 309$

③ $2.08 \times 1000 = 2080$

取り組んだ日 月 日

| | | |
|-----------------------|----------------------------------|-----------|
| 5年 2 (3) | 整数と小数の記数法 10倍、100倍、1/10、1/100 | ___年 ___組 |
| | | 名前 |

1 次の数を 1/10 した数、1/100 した数を表に書きましょう。

①

| | | | | | | | | |
|------|--|--|---|---|---|---|---|-------|
| 1/10 | | | 2 | . | 5 | | | 1/100 |
| | | | 0 | . | 2 | 5 | | |
| | | | 0 | . | 0 | 2 | 5 | |

②

| | | | | | | | | |
|------|--|---|---|---|---|---|---|-------|
| 1/10 | | 4 | 1 | . | 3 | | | 1/100 |
| | | | 4 | . | 1 | 3 | | |
| | | | 0 | . | 4 | 1 | 3 | |

2 次の数を 1/10、1/100 した数を書きましょう。

| | (1/10) | (1/100) |
|------------|--------------|----------------|
| ① 3. 5 6 | (0. 3 5 6) | (0. 0 3 5 6) |
| ② 6 2. 5 | (6. 2 5) | (0. 6 2 5) |
| ③ 2 3 8. 5 | (2 3. 8 5) | (2. 3 8 5) |

3 計算をしましょう。

① $48.4 \div 10 = 4.84$

② $70.3 \div 100 = 0.703$

③ $18.84 \div 1000 = 0.01884$