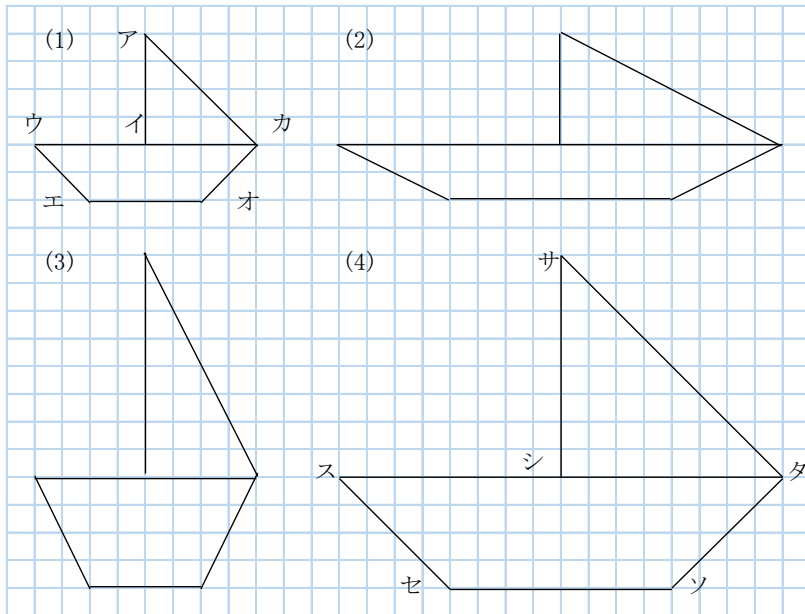


6年 16 (1)	縮図や拡大図	____年 ____組 名前
--------------------------------------	---------------	-------------------

① □に当てはまる数字や言葉を書きましょう。



- ① (2) は、(1) を横に 倍にのばしたものです。
- ② (3) は、(1) を に2倍にのばしたものです。
- ③ (4) は、(1) を にも にも2倍にのばしたものです。
 (4) と (1) の形は、 です。

② 対応する辺の長さを簡単な比を使って求めましょう。また、対応する角の大きさを比べましょう。

① 辺アイ : 辺サシ = :

② 辺エオ ÷ 辺セソ = $\frac{\text{input}}{\text{input}}$ = 倍

③ 角ア ° と角サ °

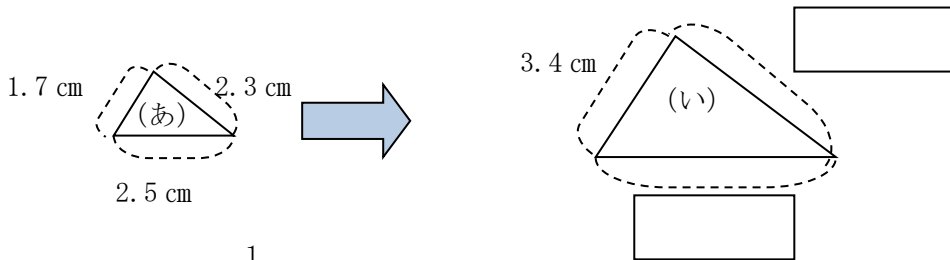
③ □に当てはまる数字や言葉を書きましょう。

- ① 対応する角の がそれぞれ等しく、対応する辺の長さの がすべて一定になるようにのばした図を といい、ちぢめた図を といいます。

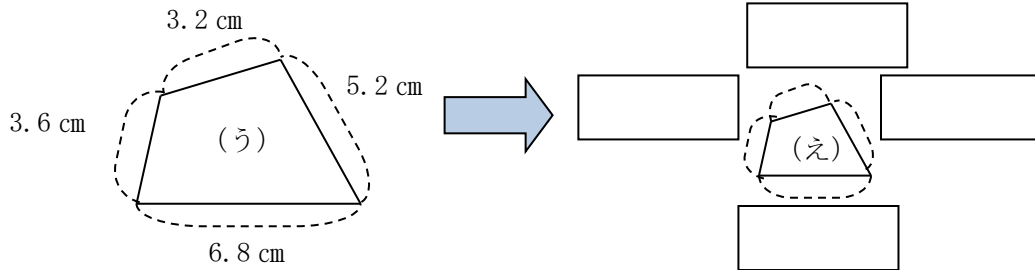
6年 16 (2)	縮図や拡大図	____年 ____組 名前
--------------------------------------	---------------	-------------------

1 次の問題に答えましょう。

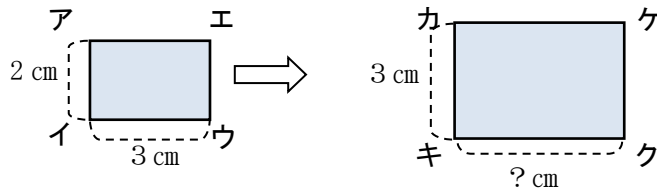
① (い) は (あ) の 2 倍の拡大図です。□に当てはまる数字を入れましょう。



② (え) は (う) の $\frac{1}{2}$ の縮図です。□に当てはまる数字を入れましょう。



2 長方形アイウエの 1. 5 倍の拡大図カキクケをかきます。次の問題に答えましょう。



① 辺カキの長さを 3 cm にしたとき、辺キクの長さは、何 cm になりますか。

答え ()

② 長方形カキクケのたてと横の長さを 1 cm ずつのばしたとき、長方形カキクケは、長方形アイウエの拡大図といえますか。

答え ()

取り組んだ日 月 日

6年

16

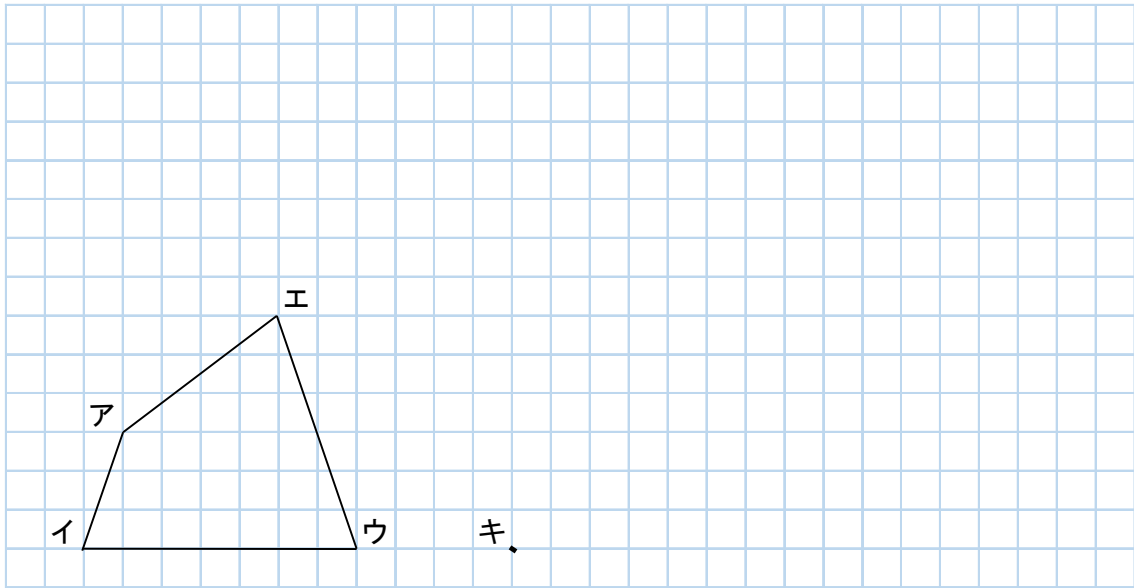
(3)

縮図や拡大図

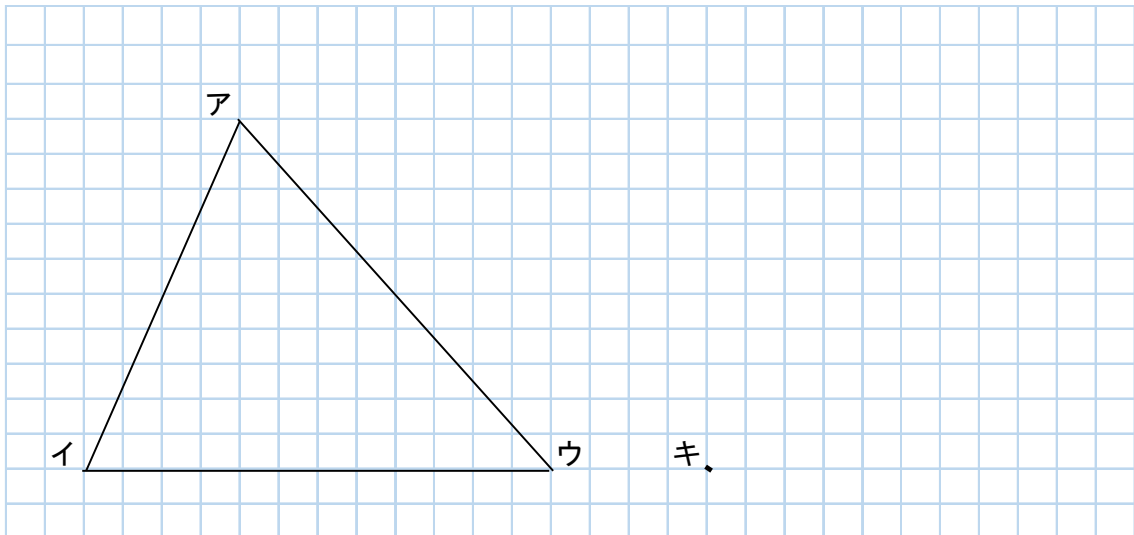
年 組

名前

- 1 四角形アイウエを2倍に拡大した四角形カキクケをかきましょう。



- 2 三角形アイウを $\frac{1}{2}$ に縮小した三角形カキクをかきましょう。



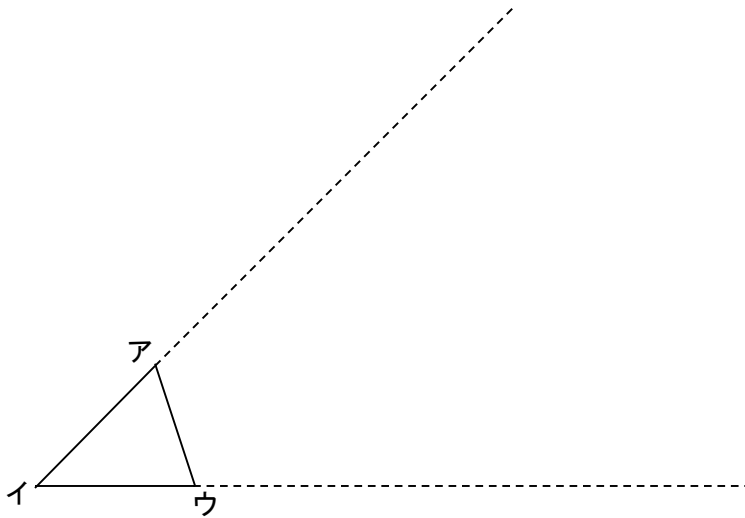
取り組んだ日 月 日

6年
16
(4)

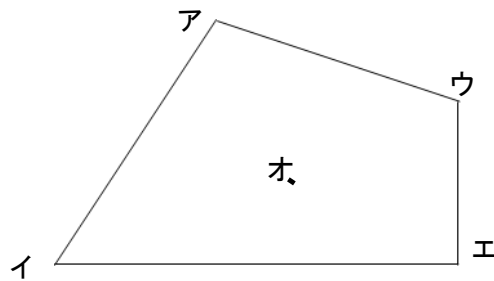
縮図や拡大図

年 組
名前

- 1 三角形アイウを3倍に拡大した三角形を点イを中心にしてかきましょう。



- 2 四角形アイウエの2倍の拡大図を点オを中心にしてかきましょう。また、点オを中心にして $\frac{1}{2}$ の縮図をかきましょう。



6年 16 (5)	縮図や拡大図	年 組 名前
--------------------------------------	---------------	-----------

1 学校の地図があります。

① ABの長さは4 cmです。実際の長さの何分の1ですか。

答え ()

② ADの長さは9 cmです。実際の長さは、何mですか。

答え ()

2 Bの地点から川の反対側にある木までのきょ離を測ります。BからCまでのきょ離を3 cm、角Aの大きさを90° 角Cの大きさを60° として実際に縮図をかいて、ABのきょ離を求めましょう。

縮図

答え ()