

1年 5 (1)	しきに あらわそう	___ねん ___くみ なまえ
-----------------------	-----------	--------------------

① あか はな 赤い花が 4本、ほん しろ 白い花が 3本あります。

花は、あわせて なん本 ありますか。



しき

こたえ

② まるい き つみ木が 6こ、さんかくの き つみ木が 5こ
あります。つみ木は、ぜんぶで なんこ ありますか。




しき

こたえ

1年 5 (2)	しきに あらわそう	___ねん ___くみ なまえ
----------------	-----------	--------------------

① ^{あか}赤い花が 9本、^{しろ}白い花が 4本あります。


どちらが なん本 おおいでしょう。



しき

こたえ

② ^きまるいつみ木が 3こ、^きさんかくのつみ木が 12こ
あります。どちらが なんこ おおいでしょう。



しき

こたえ

1年 5 (3)	しきに あらわそう	___ねん ___くみ
		なまえ


①あひるが 3わ いました。あとから 4わ やってきました。

あひるは ぜんぶで なんわに なりましたか。

【さいしょにいた あひる】



【あとからきた あひる】



しき


こたえ

②はるかさんは、おりがみを 6まい もっています。


おにいさんから 4まい もらいました。

おりがみは、ぜんぶで なんまいに なりましたか。

【もっていた おりがみ】



【もらった おりがみ】



しき

こたえ

1年 5 (4)	しきに あらわそう	___ねん ___くみ なまえ
----------------	-----------	--------------------

①いちごが 6こ ありました。2こ たべました。


のこりは なんこでしょう。



しき

こたえ

②りんごを 5こ かいました。みかんを りんごより 3こ
すくなく かいました。みかんは いくつ かったでしょう。



【みかん】 ? すくなく

しき

こたえ

1年

5

(5)

しきに あらわそう

___ねん ___くみ

なまえ

①まささんは ^{ほん}本を 6 さつ、のぞみさんは 本を 7 さつかりました。ふたりが かりた本は、ぜんぶで なんさつ でしょう。

しき

こたえ

②とまとが 10 こ あります。6 人^{にん}が 1 こずつ たべると、なんこ のこりますか。

しき

こたえ

☆わからないときは、おはなしを えで あらわしましょう。