





1年 6 (1)	くらべかた	___ねん ___くみ なまえ
----------------	-------	--------------------

どちらが、ながいでしょう。



ア 


イ  (イ)


ウ 


エ  (ウ)


オ カ

  (カ)

ア 


イ 


ウ 

エ 

- ①いちばん ながいのは、
どれでしょう。 (エ)
- ②いちばん みじかいのは、
どれでしょう。 (イ)
- ③ながさが おなじなのは、
どれと どれでしょう。
(ア) と (ウ)

どちらがながいでしょう。

ア 

イ  (イ)

1年 6 (2)	くらべかた	____ねん ____くみ なまえ
-----------------------	-------	----------------------

たてと よこは、えんぴつ なん
ほん
 本ぶんの ながさでしょう。

たて
て

よこ

たて えんぴつ (4) 本ぶん
 よこ えんぴつ (5) 本ぶん

つぎの えんぴつは、ますめ
 なんますぶんの ながさでしょう。

		イ						
		↑	→					ウ
	ア	↑						
	↑		→					エ

ア ますめ (2) ますぶん
 イ ますめ (4) ますぶん
 ウ ますめ (5) ますぶん
 エ ますめ (3) ますぶん

いちばん ながい えんぴつは (ウ)

だいすけくんが 知っていることは、^{ただ}正しい でしょうか。 それとも、まちがっている でしょうか。

ノート

だいすけくん

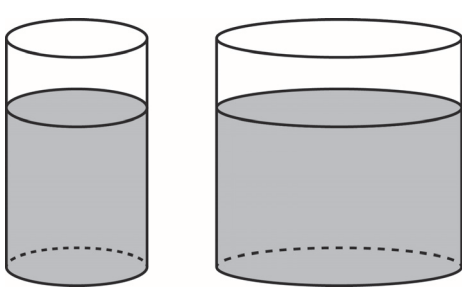
ノートのたては、えんぴつ4こぶん。ノートのよこは、けしむ4こぶん。だから、たてと よこは、おなじながさだ。

だいすけくんの かんがえは、(正しい。 ・ まちがっている。)

1年 6 (3)	くらべかた	____ねん ____くみ なまえ
-----------------------	-------	----------------------

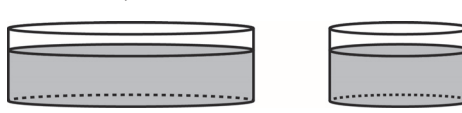
かさが おおいのは、
どちらでしょう。

ア イ



(イ)


ウ エ



(ウ)


つぎの ^い入れものにはいる
^{みず}水のかさは、コップ なんはい
ぶんでしょう。

ア



コップ (4) はいぶん


イ



コップ (9) はいぶん

イのほうが、アよりも (5) はい おおい。



つぎの ^{はい}入れものに入^{はい}る 水のかさは コップ なんはいぶんでしょう。




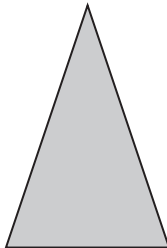
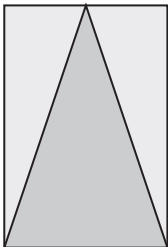
コップ (7) はいぶん


1年 6 (4)	くらべかた	____ねん ____くみ なまえ
-----------------------	-------	----------------------

ひろいのは、どちらでしょう。

ア  → 

イ  (イ)がひろい。



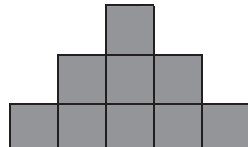
ウ  → 

エ  (エ)がひろい。

しろいぶぶんと くろいぶぶん
 は どちらが ひろいでしょう。

(くろいぶぶん)

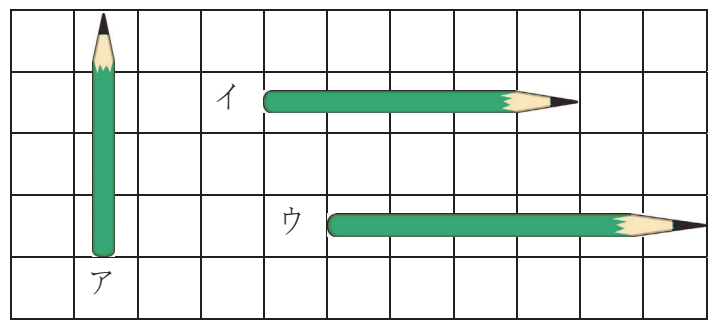
どれが いちばん ひろいでしょう。

ア  イ  ウ 

(イ)

1年 6 (5)	くらべかた	____ねん ____くみ なまえ
-----------------------	-------	----------------------

ながいじゆんに、こたえましょう。



(ウ) → (イ) → (ア)

いちばん たくさん ものが ^{はい} 入る ^い 入れものは、どれですか。



どちらの けいじばんが ひろい ですか。

