



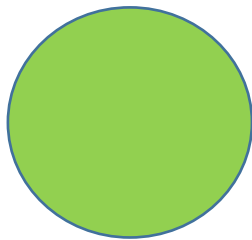



図形（その1）

学習日 令和2年 月 日（ ）

名前

1. 同じ形おな かたちのものを線むすで結びましょう。



2. 図形かを使って絵を描こう。どんな絵ができるかな？

<p>△を3つ ○を1つ</p>	<p>□を1つ △を4つ</p>	<p>□を1つ △を1つ</p>

図形（その2）

学習日 令和2年 月 日（ ）名前

1.身の回りのものを分けてみよう。3つずつ探してみよう。

丸いもの	四角いもの	三角のもの
<ul style="list-style-type: none"> ・皿（さら） ・時計（とけい） ・フリスビー 	<ul style="list-style-type: none"> ・机（つくえ） ・本（ほん） ・スマホ 	<ul style="list-style-type: none"> ・ショベルの先 ・家の屋根 ・道路標識

2.次のものはどの仲間なかまに入るのかかんがえよう。



おにぎり・ボール・りんご・黒板・テーブル（天板）・サンドイッチ

丸いもの	四角いもの	三角のもの
<ul style="list-style-type: none"> ・ボール ・りんご 	<ul style="list-style-type: none"> ・黒板 ・テーブル（天板） 	<ul style="list-style-type: none"> ・おにぎり ・サンドイッチ

3.点をつないで、大きさのおおちがちがさんかくけいさんかくけいとしかくけいしかくけいを書きましょう。（たくさん）

三角形

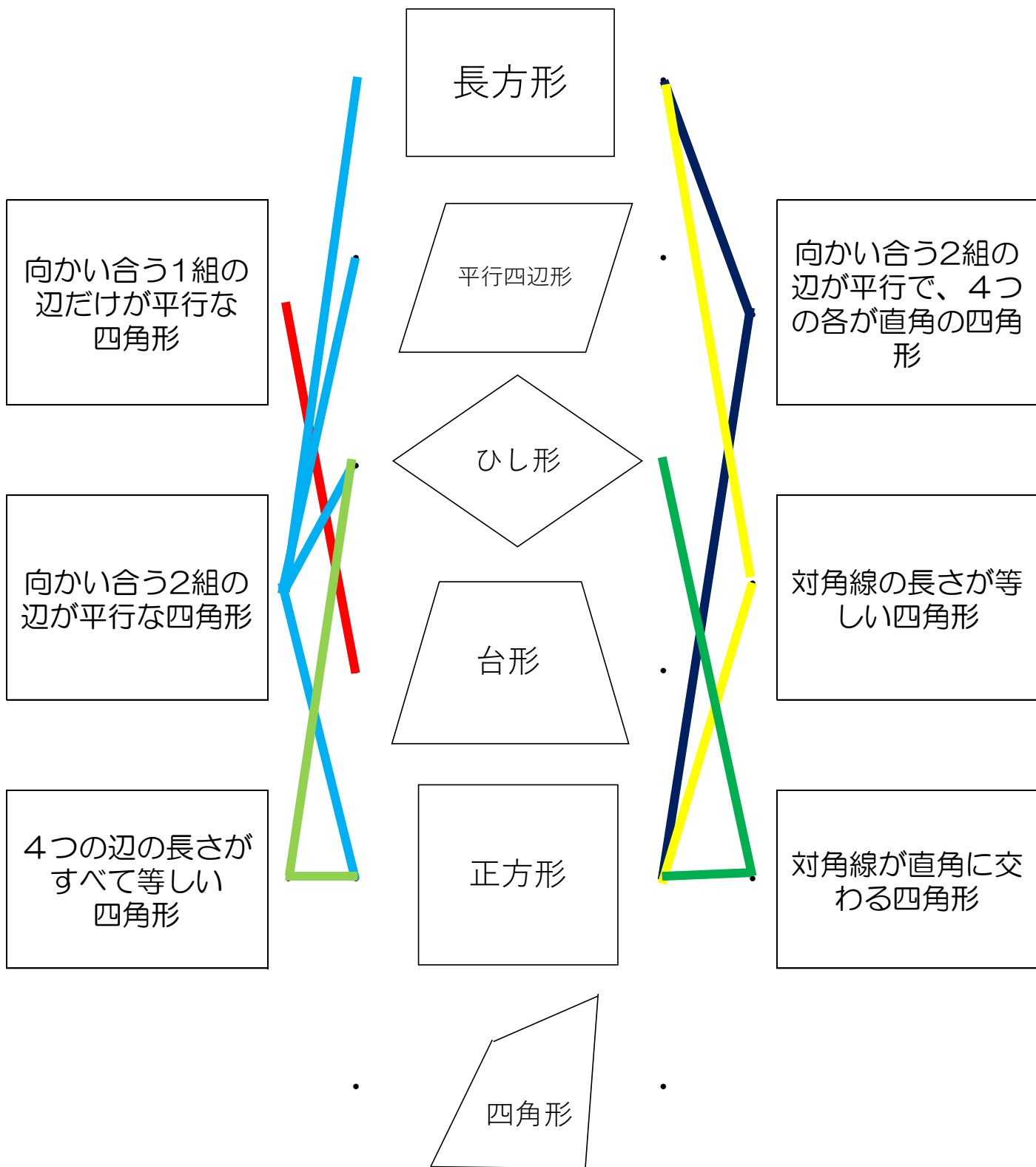
四角形



図形（その3）


学習日 令和2年 月 日（ ）名前

それぞれの^{とくちょう}特徴を線で結びましょう。難問です！！



図形（その4）

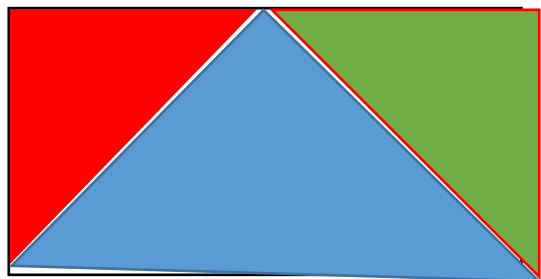
学習日 令和2年 月 日（ ）名前



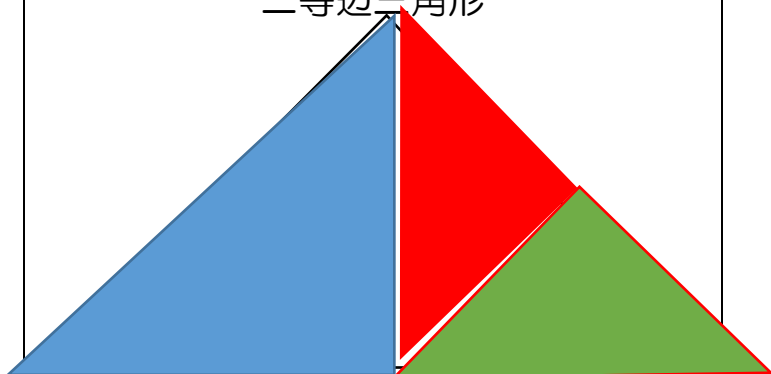
せいほうけい 正方形を左の図のように3つの直角三角形に切り離して、並べなおすと、いろいろな形に変身します。下の形にするにはどうしたらいいのか考えよう。

（若干のずれは気にしないでね）

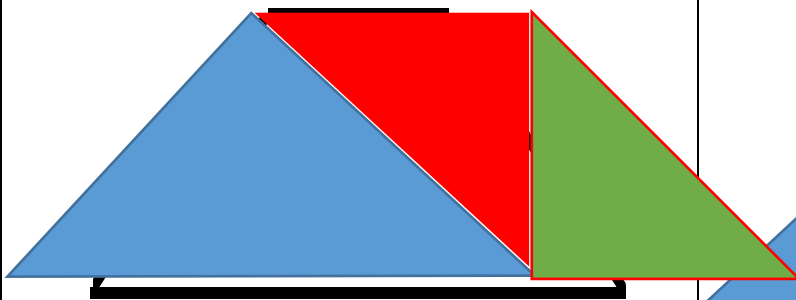
長方形



二等辺三角形



台形



平行四辺形

