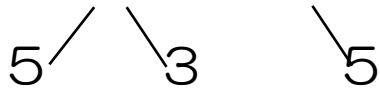


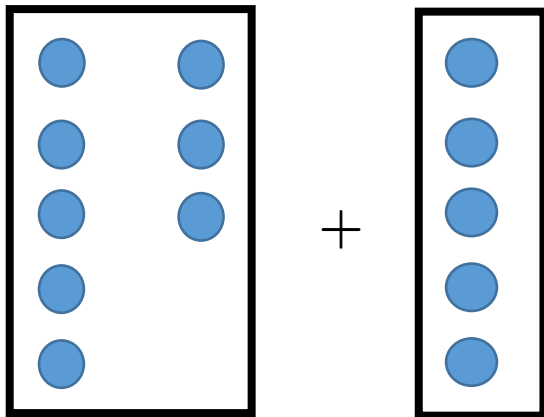
計算問題①（足し算）

足し算の基本（繰り上がり）

例えば、 $8 + 5$ を考えよう。



に分解しよう！



$$= (5+5) + 3 = 10 + 3 = 13$$

①	$1 + 1 =$	②	$1 + 8 =$
③	$1 + 4 =$	④	$3 + 4 =$
⑤	$3 + 8 =$	⑥	$6 + 6 =$
⑦	$6 + 9 =$	⑧	$7 + 4 =$
⑨	$7 + 8 =$	⑩	$8 + 4 =$
⑪	$8 + 5 =$	⑫	$8 + 9 =$
⑬	$9 + 2 =$	⑭	$9 + 6 =$
⑮	$9 + 7 =$		

目標タイム 30秒 結果 分 秒

計算問題②（足し算）

足し算の基本（繰り上がり）

例えば、 $16 + 5$ を考えよう。

学習日	令和2年	月	日（ ）
名前			

	百の位	十の位	一の位
		1	6
+			5
<hr/>			
		2	1

位（くらい）を大切にする。
一の位から足し算をしよう！！
繰り上がりの情報もシッカリ書く

$(6 + 5 = 11)$

①	$13 + 1 =$	②	$11 + 8 =$
③	$21 + 4 =$	④	$13 + 4 =$
⑤	$13 + 8 =$	⑥	$36 + 6 =$
⑦	$16 + 9 =$	⑧	$27 + 4 =$
⑨	$17 + 8 =$	⑩	$38 + 4 =$
⑪	$18 + 5 =$	⑫	$48 + 9 =$
⑬	$19 + 2 =$	⑭	$89 + 6 =$
⑮	$19 + 7 =$		

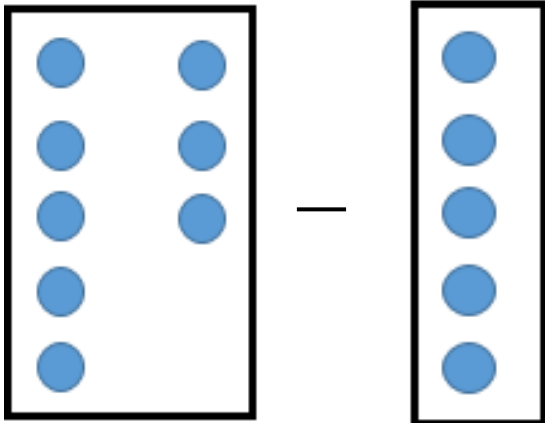
目標タイム 30秒 結果 分 秒

計算問題③（引き算）

引き算の基本

大きい数 - 小さい数

例えば 8 - 5



箱の中に 8 個の玉があり、そのうちの 5 個とると考える。

$$= 3$$

このように基本的には大きな数からしか引くことはできない。

①	9 - 1 =	②	5 - 2 =
③	6 - 4 =	④	5 - 4 =
⑤	3 - 8 =	⑥	6 - 6 =
⑦	6 - 2 =	⑧	7 - 4 =
⑨	9 - 8 =	⑩	8 - 4 =
⑪	8 - 5 =	⑫	8 - 7 =
⑬	9 - 2 =	⑭	9 - 6 =
⑮	9 - 7 =		

目標タイム 1分30秒 結果 分 秒

計算問題④（引き算）

引き算の基本（2桁以上）

大きい数 - 小さい数

例えば 389 - 126

	千の位	百の位	十の位	一の位
		3	8	9
-		1	2	6
		2	6	3

位（くらい）が大切

同じくらいのもの同士で引く
ひっ算などを使って上手に計算しよう。

①	19 - 8 =	②	32 - 2 =
③	29 - 7 =	④	45 - 4 =
⑤	39 - 28 =	⑥	46 - 16 =
⑦	36 - 12 =	⑧	87 - 14 =
⑨	79 - 68 =	⑩	68 - 44 =
⑪	38 - 15 =	⑫	18 - 17 =
⑬	99 - 82 =	⑭	579 - 456 =
⑮	999 - 247 =		

目標タイム 2分30秒 結果 分 秒

計算問題④ (引き算)

引き算の基本 (繰り下がり)

大きい数 - 小さい数

例えば 32 - 19

学習日	令和2年	月	日 ()
名前			

	千の位	百の位	十の位	一の位
			3	2
-			1	9
<hr/>				

位同士で計算

一の位 2-9 (できない)

十の位 3-1

じゃあどうするか？

1つ上の位から 10 借りてくる！！

	千の位	百の位	十の位	一の位
			3	2
-			1	9
<hr/>				
			1	3

2-9ができない

→3ステップ

①十の位から借りる

(20と10にわけ)

②10-9をする

③答えの1に残った数を

足す (1+2をする)

ポイント

1つ上の位から **10** 借りてくる！！

借りてきた 10 から引きたい数を引く

引いた答えを足すのを忘れない！！

練習問題

千の位 百の位 十の位 一の位

		1	3
-			8

千の位 百の位 十の位 一の位

		2	4
-			9

千の位 百の位 十の位 一の位

		4	2
-		3	8

千の位 百の位 十の位 一の位

	1	5	3
-		4	9

けいさんもんだい

計算問題⑤（かけ算）

かけ算の基本

ひょう かんせい

表を完成させよう

学習日	令和2年	月	日（ ）
名前			

×	1	2	3	4	5	6	7	8	9
1									
2									
3									
4									
5									
6									
7									
8									
9									

チャレンジ

	11	12	13	14	15
11					
12					
13					
14					
15					

計算問題⑥ (かけ算)

かけ算と足し算の練習

学習日 令和2年 月 日 ()

名前

5つの箱に入った数字を計算して、合計を出しましょう。そして同じ合計になるものを線で結びましょう。

5×8	
10×8	20×1
800×3	7×0

40×2	
2×10	9×0
8×5	600×2

8×0	
600×4	20×3
80×1	10×4

300×8	
5×4	20×1
0×2	4×10

10×2	
3×0	400×6
8×10	20×2

4×5	
20×4	5×0
30×2	300×4

計算問題⑦ (わり算)

わり算の練習

クッキーが21枚あります。

3人同じ数ずつ食べるにはどう分ければよいでしょうか？

線を引きましょう！

学習日	令和2年	月	日 ()
名前			



式

(ひっ算する場合は右を使いましょう)

答え _____ ころずつ

計算問題⑦ (わり算)

わり算

学習日	令和2年	月	日 ()
名前			

9つの数字のうち、7で割ったとき、割り切れる列が2つあります。それはどの列でしょうか。

① ↓	② ↓	③ ↓	④ ↙
42	210	48	⑤ ←
49	63	140	⑥ ←
170	54	21	⑦ ←
			⑧ ↘

答え _____ と _____